

۱- حاصل عبارت های زیر را به دست آورید.

$$\begin{array}{cc} ۵ & ۲ & ف \\ \hline & ۷ & ۷ \end{array}$$

$$\begin{array}{cc} ۱ & ۳ & ۰ & ف \\ \hline & ۴ & & ۷ \end{array}$$

$$\begin{array}{cc} ۱ & ۵ & ۱ & ف \\ \hline & ۳ & & ۷ \end{array}$$

$$\begin{array}{cc} ۷ & ۳ & ت \\ \hline & ۴ & ۷ \end{array}$$

$$\begin{array}{cc} ۶ & ۵ & ت \\ \hline & ۲ & ۷ \end{array}$$

$$\begin{array}{cc} ۵ & ۲ & ۱ & ت \\ \hline & ۳ & & ۷ \end{array}$$

$$\begin{array}{cc} ۲ & ۴ & ۱ & ت \\ \hline & ۶ & & ۷ \end{array}$$

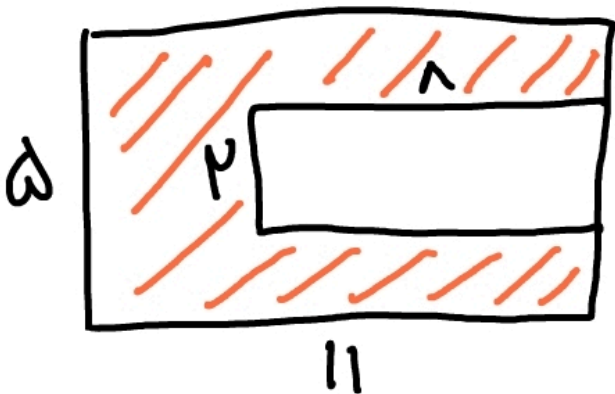
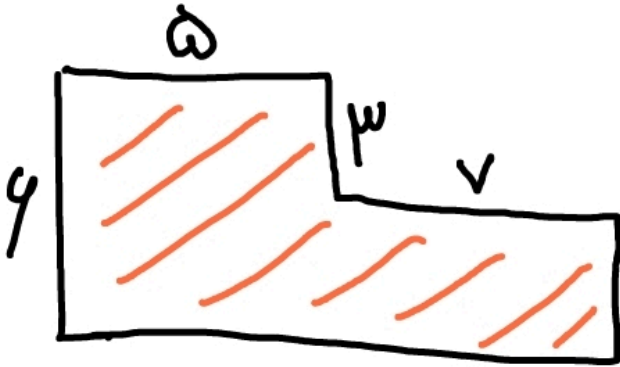

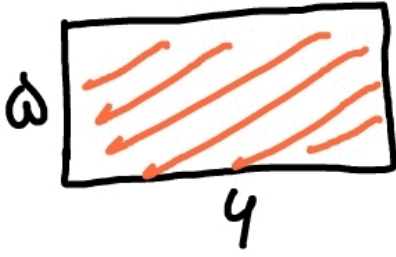
$$\begin{array}{cc} ۷ & ۶ & ۱ & ۷ \\ \hline & & & ۷ \end{array}$$

$$\begin{array}{cc} ۴ & ۱ & ۱ & ۸ \\ \hline & & & ۷ \end{array}$$

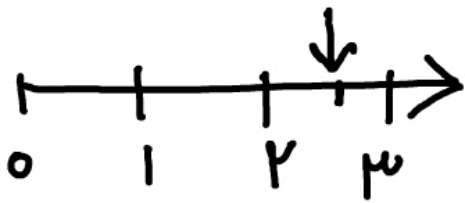
$$\begin{array}{cc} ۶ & ۳ & ۱ & ۸ \\ \hline & & & ۷ \end{array}$$

$$\begin{array}{cc} ۱ & ۵ & ۱ & ۳ \\ \hline & & & ۷ \end{array}$$

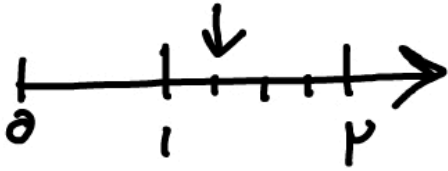
۲- مساحت قسمت رنگی را به دست آورید.



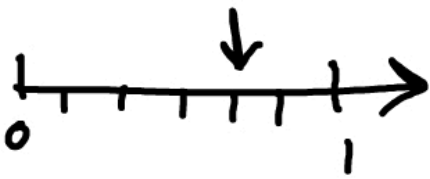
۳- محل های مشخص شده را مانند نمونه بنویسید.



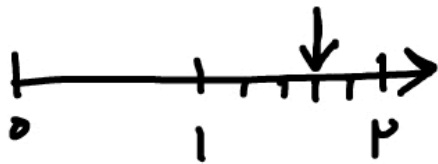
$\frac{1}{2}$ بعد از عدد ۲



..... قبل از ۲



..... هالده به یک



..... بعد از یک

۴- با توجه به شکل داده شده، به سوالات داده شده پاسخ دهید.
الف: دو خط موازی نام ببرید.

ب: دو پاره خط نام ببرید.

پ: دو نیم خط نام ببرید.

ت: نام یک چهارضلعی را بنویسید.

