

موضوع:


تاریخ:

نام و نام خانوادگی:


هدف:

چه عددی را با ۵۰۰ جمع کنیم حاصل ۸۰۰ می شود؟

شکل های زیر را دسته بندی کنید و یک عبارت ضرب بنویسید




..... × ..... = .....



..... × ..... = .....

برای عبارت های ضرب زیر شکل مناسب بکشید .



$7 \times 2 = 14$



$3 \times 8 = 24$

..... × ..... = ..... . ۳ برابر ۹ را حساب کنید .

..... × ..... = ..... . ۴ برابر ۲ را حساب کنید .

..... × ..... = ..... . ۵ برابر ۸ را حساب کنید .

