



موضوع: کاربرد عیدانه (۱)

تاریخ

نام و نام خانوادگی

درس: ریاضی

۱- مریم ۴۳۵۰ تومان پول داشت. او ۱۲۴۰ تومان از پول هایش را در صندوق صدقات انداخت. چند تومان دیگر برایش باقی مانده است؟



۲- با رقم های ۸ ، ۰ ، ۴ و ۳ کوچکترین و بزرگترین عدد چهاررقمی را بنویس و اختلاف آن ها را پیدا کن.

کوچکترین :

بزرگترین :

۳- در جاهای خالی عدد مناسب بنویس.

برای مقایسه ی دو عدد چهاررقمی ابتدا رقم آن ها را با هم مقایسه می کنیم.

مثلی که فقط دو ضلع برابر دارد، مثلث نام دارد.

محیط مستطیل برابر است با (عرض \times ) + (..... \times ۲)

عدد ۲۸۳۷ با حذف رقم یکان و دهگان برابر با است.



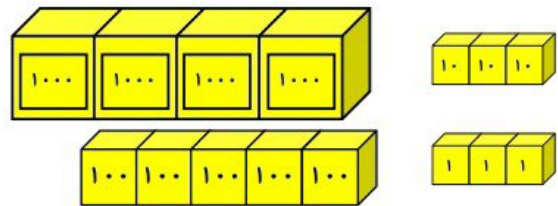
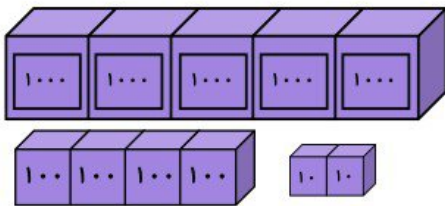
موضوع: کاربردگ عیدانه (۱)

تاریخ

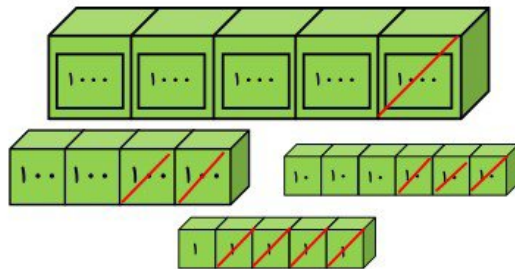
نام و نام خانوادگی

درس: ریاضی

۴- برای شکل زیر جمع و تفریق مناسب بنویس.



..... + =



..... - =


۵- تعداد قطره‌های کدام یک از شکل‌های زیر از همه بیشتر است؟



۱۰۰ ضلعی



۵۰ ضلعی



۱۲۰ ضلعی



۸۱ ضلعی

۱- مجموع گوسفندان ۳ روستا، ۵۴۰۰ راس است.
روستای اول ۱۵۲۰ گوسفند و روستای دوم ۱۲۰۰ گوسفند بیشتر از روستای اول دارد.
تعداد گوسفندان روستای سوم چند راس است؟



۲- عددهای زیر را از کوچکترین به بزرگترین مرتب کن و بنویس.

۴۱۰۸ - ۴۰۰۸ - ۴۹۰ - ۴۰۱۰ - ۴۰۸۱

< < < <

۳- عبارت های مناسب را به هم وصل کن.

مثلث متساوی الساقین

مستطیل

مثلث متساوی الاضلاع

شکلی که سه خط تقارن دارد.

شکلی که فقط یک تقارن دارد.



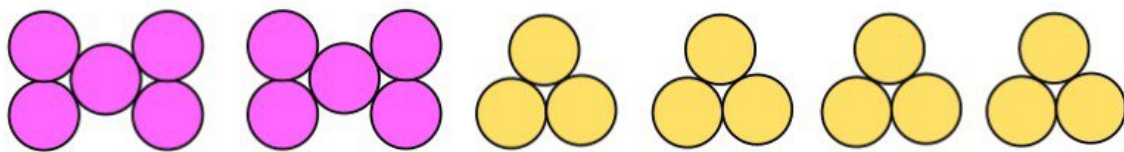
موضوع: کاربرد عیدانه (۲)

تاریخ

نام و نام خانوادگی

درس: ریاضی

۴- تعداد کل دایره ها را با کامل کردن عبارت ضرب به دست بیاور.



$$(\dots \times \dots) + (\dots \times \dots) = \dots + \dots = \dots$$

۵- با توجه به جدول مقابل حاصل $\square + \triangle + \bigcirc$ برابر با کدام گزینه می شود؟

۹	۷	\square	+	۲	\bigcirc	۶
۱	\triangle	۲	۱			

۱۱ \square

۱۲ \square

۶ \square