

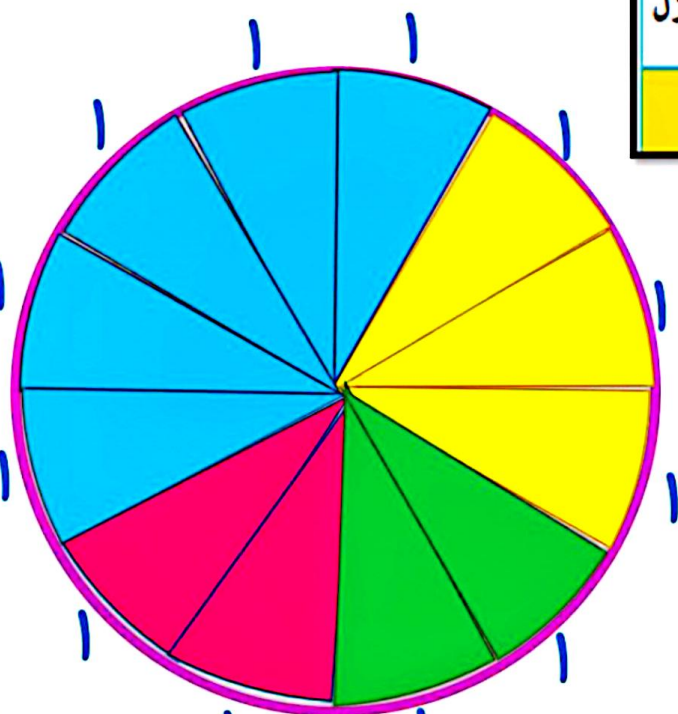
ریاضی درسی

صفحات ۱۲۶ تا ۱۲۴

پایه سوم علوی

۱- کارهایی که یک دانش آموز از ساعت ۶ صبح تا ۶ بعد از ظهر انجام می دهد، در جدول زیر نشان داده شده است.

کار	غذا خوردن، نماز خواندن و استراحت	رفت و آمد به مدرسه	حضور در مدرسه	درس خواندن و انجام دادن تکلیف ها در منزل
زمان (ساعت)	۲	۲	۵	۳



دایره‌ی زیر ۱۲ قسمت دارد.

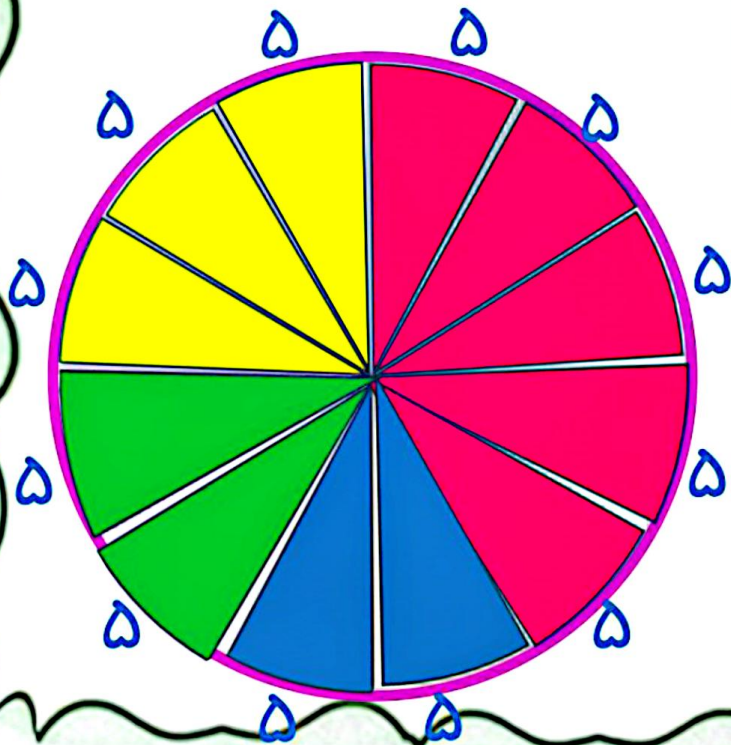
کارهای روزانه‌ی این دانش آموز را با رنگ کردن این قسمت ها نشان دهید.

$$۳ + ۵ + ۲ + ۲ = ۱۲$$

پایه سوم علوی

۲- تعداد کتاب‌های فرید و موضوع آن‌ها در جدول زیر مشخص شده است.

نوع کتاب	درسی	علمی	سرگرمی	کمک درسی
تعداد کتاب	۱۰	۱۰	۲۵	۱۵

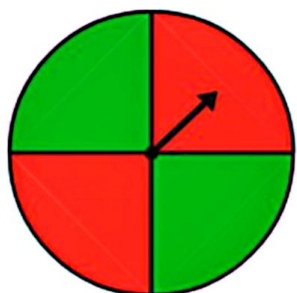


— هر قسمت از دایره‌ی روبه‌رو، نشان‌دهنده‌ی ۵ کتاب است. با رنگ کردن این نمودار دایره‌ای، اطلاعات مربوط به کتاب‌های فرید را نشان دهید.

$$۱۵ + ۲۵ + ۱۰ + ۱۰ = ۶۰$$



پایه سوم علوی



۱- چرخنده‌ی روبه‌رو را ده بار بچرخانید. هر بار عقربه روی چه رنگی می‌ایستد؟ جواب‌هایتان را در جدول زیر بنویسید.



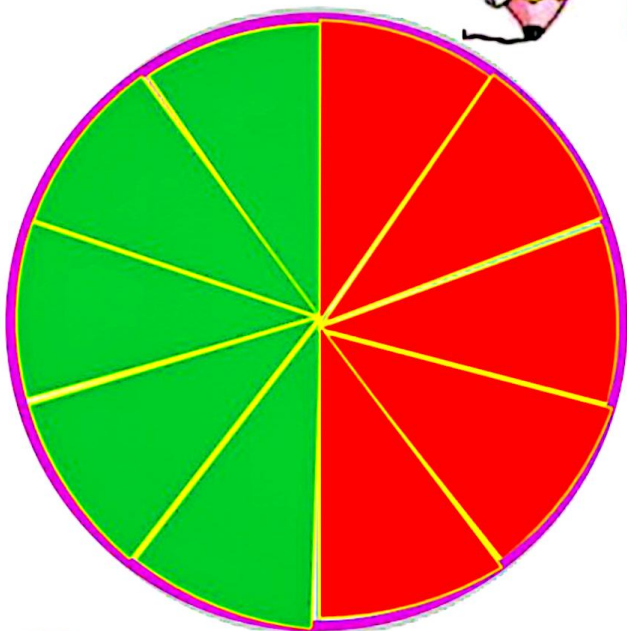
آزمایش	۱	۲	۳	۴	۵	۶	۷	۸	۹	۱۰
رنگ	س	ق	س	س	ق	ق	س	ق	س	ق

با توجه به جدول، دایره‌ی روبه‌رو را با رنگ‌های قرمز و سبز رنگ‌آمیزی کنید.

اگر چرخنده را ۱۰ بار دیگر بچرخانیم، پیش‌بینی می‌کنید که

– چه مقدار از این نمودار به رنگ سبز باشد؟ نیمی از دایره سبز باشد.

– چه کسری از نمودار قرمز باشد؟ $\frac{5}{10}$



پایه سوم علوی

۲- معصومه چرخنده‌ای را که به دو رنگ قرمز و آبی بود، ۱۰۰ بار چرخاند. او هر بار رنگی را که عقربه روی آن می‌ایستاد، یادداشت می‌کرد. در آخر هم جدول زیر را کشید.

شما با توجه به اطلاعاتی که در جدول آمده است، دایره را رنگ‌آمیزی کنید. ابتدا عددهای تقریبی را بنویسید.



رنگ	تعداد	عدد تقریبی
قرمز	۴۹	۵۰
آبی	۵۱	۵۰



$$۵۰ + ۵۰ = ۱۰۰$$

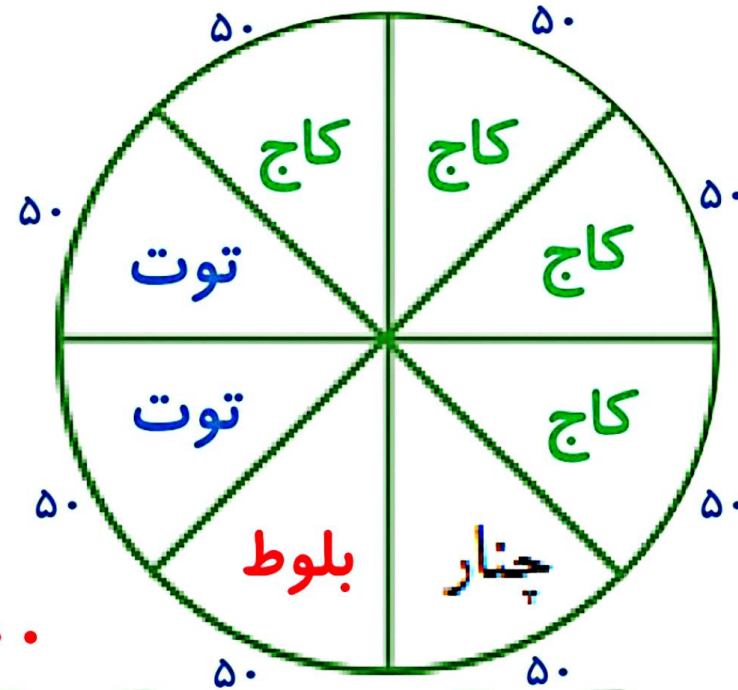
تمرین



۱- در جدول زیر تعداد و نوع درخت‌های یک پارک نشان داده شده است. نمودار دایره‌ای مربوط به اطلاعات جدول زیر را کامل کنید.



تعداد	نوع درخت
۲۰۰	کاج
۱۰۰	توت
۵۰	بلوط
۵۰	چنار



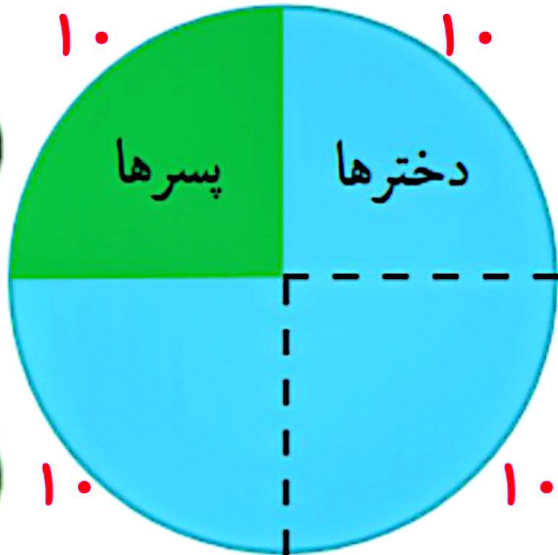
$$۲۰۰ + ۱۰۰ + ۵۰ + ۵۰ = ۴۰۰$$

۲- ۴۰ کودک در «مهد کودک شادی» آموزش می‌بینند.

نمودار دایره‌ای روبه‌رو تعداد دخترها و پسرها را در این مهد کودک نشان می‌دهد.

چند دختر و چند پسر در مهد کودک شادی مشغول آموزش هستند؟ **پسر = ۱۰**

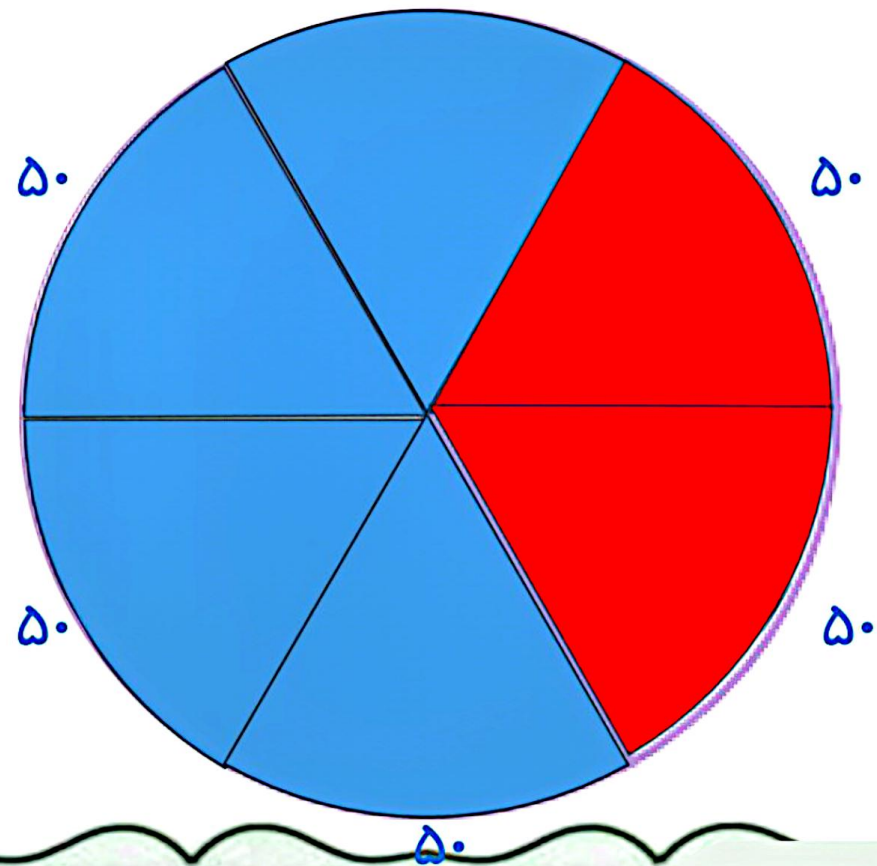
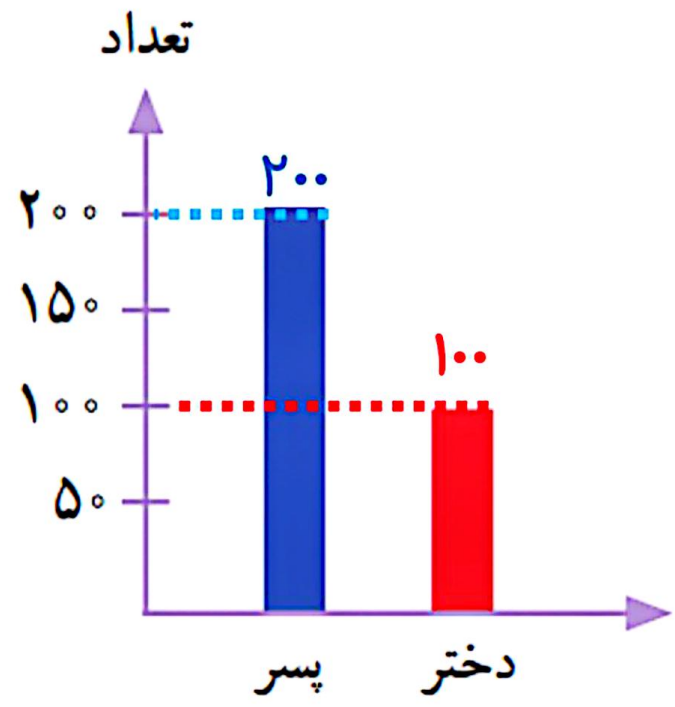
چه کسری از بچه‌ها پسر هستند؟ $\frac{۱۰}{۴۰}$
دختر = ۳۰



$$۴۰ \div ۴ = ۱۰$$

پایه سوم علوی

۳- اطلاعات نمودار ستونی را با رنگ کردن، در نمودار دایره‌ای نشان دهید.



$$100 + 200 = 300$$

پایه سوم علوی



نمودار ستونی یا میله ای

در محور عمودی

اطلاعات عددی



در محور افقی

اطلاعات فارسی

زمانی استفاده می شود

که بیشترین یا کمترین مقدار

را خواسته

پس

تر یا ترین در سوال داریم

پایه ی سوم علوی



نمودار تصویری

✓ یک نماد یا شکل ساده به عنوان

قرار دادی برای تعداد مشخصی

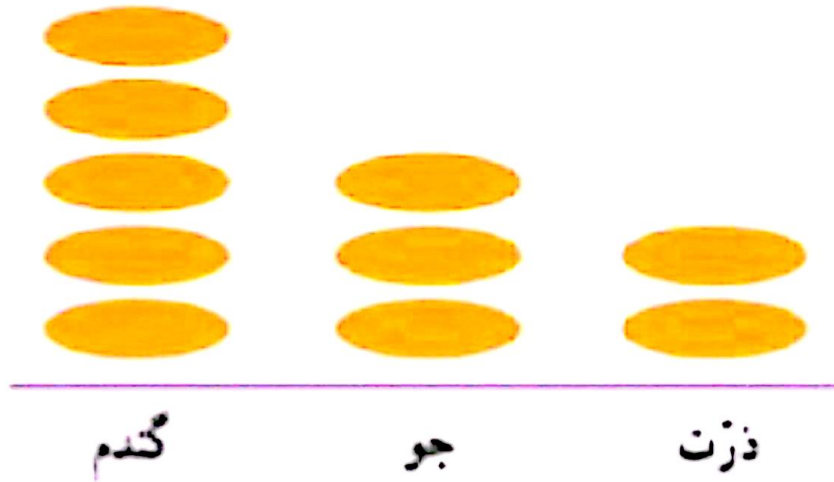
در نظر می گیریم

✓ در این نمودار عددها معمولاً

به صورت تقریبی و با مقادیر

زیاد داده می شود.

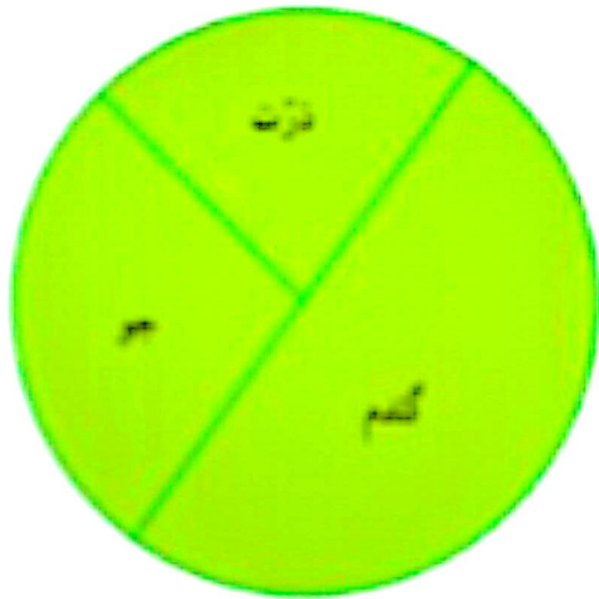
پایه ی سوم علوی



فقط یک محور افقی داریم



نمودار دایره ای



✓ برای مقایسه ی میزان یک داده

با کل داده ها استفاده می شود

✓ یعنی بخشی از کل یک اطلاعات

را می خواهد که به صورت

عدد کسری هم می توان

آن را نمایش داد

پایه ی سوم علوی

