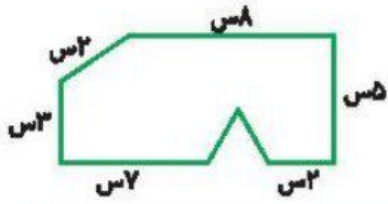


نام و نام خانوادگی: تاریخ: نام آموزگار:

ریاضی < فصل ۵: محیط و ضلع مجهول
 علوم < درس ۹ و ۱۰: نیرو همه جا
 فارسی < درس ۱۲: ایران عزیز
 مطالعات اجتماعی < درس ۱۵: خانه‌ها با هم تفاوت دارند.
 هدیه‌های آسمان < درس ۱۲: سخن آسمانی
 قرآن < فصل ۴: انس با قرآن کریم (۷)

ریاضی



۱ محیط شکل زیر چند میلی‌متر است؟

.....

۲ میزی به شکل مستطیل به طول ۷۰ سانتی‌متر و عرض ۵۰ سانتی‌متر داریم. می‌خواهیم دور آن را نوار فلزی بکوییم. به چند سانتی‌متر نوار فلزی نیاز داریم؟

.....

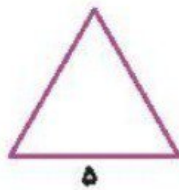
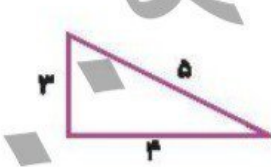
۳ یک طناب نازکی به طول ۲۲ سانتی‌متر را به شکل مستطیل درمی‌آوریم. اگر عرض این مستطیل ۴ سانتی‌متر باشد طول آن چقدر است؟

.....

۴ اگر محیط مربعی ۱۶ سانتی‌متر باشد، هر ضلع این مربع چند سانتی‌متر است؟

.....

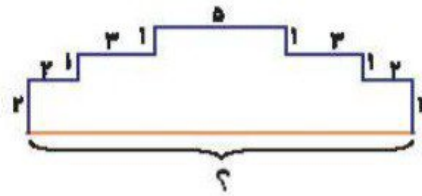
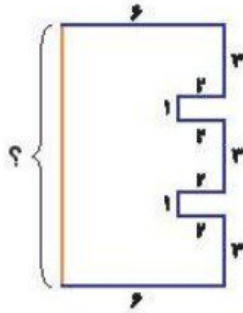
۵ محیط شکل‌های زیر را بدست آورید.



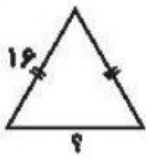
.....
-------------------------	-------------------------	-------------------------



اندازه ضلع‌های خواسته شده را به دست آورید.



با توجه به شکل اگر محیط مثلث ۴۲ سانتی‌متر باشد، اندازه ضلع خواسته شده را حساب کنید.



علوم

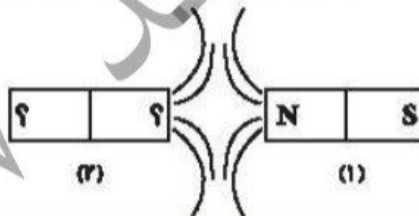
برنا در حال هل دادن جعبه می‌باشد.

الف) جعبه به چه سمتی حرکت می‌کند؟

ب) جهت نیروی وارد بر جسم را روی شکل نشان دهید.




دو آهن ربای زیر یکدیگر را دفع می‌کنند. قطب‌های آهن ربای دوم را مشخص کنید.



سیبی در حال سقوط از درخت مقابل می‌باشد.

الف) دلیل سقوط سیب کدام نیرو است؟

ب) جهت این نیرو را مشخص کنید.



قطب S آهن ربا به هریک از موارد زیر چه نیرویی وارد می‌کند؟ کششی یا رانشی؟

پ) قطب N آهن ربا دیگر:

ت) سنجاق آهنی:

الف) آچار فولادی:

ب) قطب S آهن ربا دیگر:

فارسی

با استفاده از کلمات در هم ریخته‌ی زیر، جمله را کامل کنید.

«انگیزش - بود - دل - فارس - نام - خلیج - که»

پا که در آب

۱ درست و نادرستی هر عبارت را مشخص کنید.

الف) شعر «ایران عزیز، اثر عباس یمنی شریف است.»

ب) شعر «وطن، اثر سعید ملامحمدی است.»

۲ در بند زیر واژه‌هایی که پسوند «ستان» دارند پیدا کنید و آن‌ها را بدون پسوند بنویسید.

«زهره دانش‌آموز سوم دبستان است. او یک خواهر بزرگ‌تر دارد که در هنرستان تحصیل می‌کند و برادرش به کودکانستان می‌رود. پدر زهره معلم دانش‌آموزان دوم دبیرستان است و مادرش در بیمارستان، پرستار است.»

۳ در نقشه‌ی جغرافیایی ایران عزیز، نام دریاها را بنویسید.



مطالعات اجتماعی

۱ با توجه به آب و هوای مناطق مختلف ایران مشخصات خانه‌ها را بنویسید.

مناطق روستایی

مناطق کویری

مناطق پرباران

.....

.....

.....

۲ علت زندگی کردن عشایر در چادر چیست؟

جاهای خالی را با کلمات مناسب کامل کنید.

الف) در خانه‌های مکان‌هایی برای انبار محصولات کشاورزی وجود دارد.

ب) عشایر مردمی هستند که شغل‌شان است. آن‌ها برای یافتن به‌طور مرتب از یک منطقه به منطقه‌ی دیگر کوچ می‌کنند.

برچسب خانه‌های مربوط به هر منطقه را در مکان مربوط به خودش بچسبانید.

ایلات و عشایر	مناطق گرم و خشک	مناطق پر باران

شهرهای بزرگ	مناطق کوهستانی

هدیه‌های آسمان - قرآن

موارد مرتبط را به هم وصل کنید.

- | | |
|-----------------|---|
| ● مصلی | ● بزرگ‌ترین عید مسلمانان است. |
| ● حضرت زهرا (س) | ● محلی است که در آن نمازهای پرجمعیت را می‌خوانند. |
| ● عید فطر | ● روز مادر، روز تولد ایشان است. |

دو معجزه از معجزات حضرت موسی (ع) را بنویسید.

ایران‌شناسی	محیط اشکال هندسی
انواع خانه‌های مناطق مختلف	مسائل محیط
اعیاد و مناسبات اسلام	نیروهای غیر تاملی
مجازات حضرت موسی (ع)	جمله‌سازی

شاخص‌ها

- خیلی خوب
- خوب
- قابل قبول
- نیاز به تلاش بیشتر