



ارمغان هفته - سوم دبستان

شماره ی

۲۲

نام و نام خانوادگی: تاریخ: نام آموزگار:

مطالعات اجتماعی < دوره نیمسال دوم
هدیه های آسمان < دوره نیمسال دوم
قرآن < دوره نیمسال دوم

ریاضی < دوره نیمسال دوم
علوم < دوره نیمسال دوم
فارسی < دوره نیمسال دوم

ریاضی

سه مرغ داریم که هر کدام روزی ۴ تا تخم می گذارند. بعد از یک هفته چند تخم مرغ خواهیم داشت؟

بعد از یک هفته ۸۴ تخم مرغ خواهیم داشت

$$3 \times 4 = 12$$

$$\begin{array}{r} 12 \\ \times 7 \\ \hline 84 \end{array}$$

کشاورزی $\frac{2}{3}$ زمین خود را گندم و $\frac{3}{5}$ زمین را جو کاشته است. چه کسری از زمین زیر کشت رفته است؟ سطح زیر کشت کدام یک بیش تر است؟ (با رسم شکل انجام شود).

خواندن $\Rightarrow \frac{2}{3} + \frac{3}{5} =$

سؤال است

(تعداد داده شده در سؤال نیاز به خارج مشترک دارد که در سطح پایین تالیفات باید خارج مشترک پیدا کرد)

$$\begin{array}{r} 710 \\ 9486 \\ -5236 \\ \hline 4244 \end{array}$$

$$\begin{array}{r} 1342 \\ \times 3 \\ \hline 3000 \\ + 900 \\ + 120 \\ + 6 \\ \hline 4022 \end{array}$$

۱۰۰۰ + ۳۰۰ + ۴۰ + ۲

$$\begin{array}{r} 4363 \\ + 3785 \\ \hline 8148 \end{array}$$


$$\begin{array}{r} 47 \overline{) 6} \\ -42 \\ \hline 05 \end{array}$$

$$\begin{array}{r} 442 \\ \times 7 \\ \hline 2800 \\ + 420 \\ \hline 3080 \end{array}$$

۱۰۰۰ + ۲۰۰ + ۲

داده های زیر مربوط به نمرات برنامی باشد. نمودار دایره ای و ستونی آن ها را رسم کنید.

نام درس	ریاضی	علوم	فارسی	اجتماعی	املا
نمره	۱۵	۱۸	۲۰	۱۹	۱۲
تقریبی	۲۰	۲۰	۲۰	۲۰	۱۰



۱



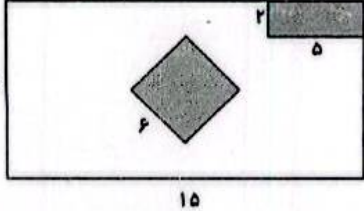
در جاهای خالی کلمات مناسب بنویسید.

الف) حاصل ضرب هر عدد در صفر برابر با صفر است.

ب) به مثلثی که سه ضلع هم اندازه داشته باشد مثلث مساوی الساقی گویند.

پ) به جواب تقسیم باقی گفته می شود.

۶) اتاق پدر بزرگ به شکل مستطیل است. او یک کمد به شکل مستطیل و یک فرش به شکل مربع در اتاق گذاشته است. با توجه به شکل بگویند چقدر از اتاق او فضای خالی است؟



$$\begin{aligned}
 & \left. \begin{aligned}
 \text{مساحت کمد} &= 2 \times 5 = 10 \\
 \text{مساحت فرش} &= 4 \times 4 = 16
 \end{aligned} \right\} 10 + 16 = 26 \\
 & \text{مساحت اتاق} = 15 \times 9 = 135 \\
 & \text{مساحت فضای خالی} = 135 - 26 = 109
 \end{aligned}$$

علوم

در هر کدام، چه تغییر حالتی رخ می دهد؟

الف) درست شدن آبalo خشکه: تبخیر

ب) تشکیل شبنم روی گل ها: میعان

پ) گرفتن آب شیرین از آب شور: تبخیر و میعان

ت) ناپدید شدن قرص نفتالین: تبخیر

۲) در هر مورد از چه آینه ای استفاده می شود؟

الف) دندان پزشکی: آینه ضرورمستقیم

ب) زیبایی: آینه تخت


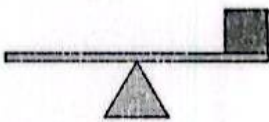
ت) کوره های برقی: ضرورمستقیم

ب) آینه ی آرایشگاه: آینه تخت

ت) آینه ی بغل اتومبیل: آینه برآمده

ج) آینه ی سربیس جاده ها: آینه برآمده

۳) در کدام اهرم زیر برای جابه جا کردن جعبه، نیروی کم تری لازم است؟



۴) موارد خواسته شده را نام ببرید.

الف) دو کاربرد آینه ی فرو رفته: دندان پزشکی - آینه ی تخت

ب) دو کاربرد آینه ی برآمده: سربیس جاده ها - آینه ی بغل اتومبیل


پ) دو کاربرد آینه ی تخت: آرایشگاه - نورش - مساجد - زیارتگاه ها

ت) دو منبع نور طبیعی: خورشید - ستارگان

ث) دو منبع نور مصنوعی: لامپ روشن - شمع روشن

چراغ جلوی اتومبیل - چراغ قوه

۲





فارسی

۱) معنی کلمات زیر را بنویسید.

غوطه	...	نقشه	...
حوض	...	فضایی	...

۲) کلمات زیر را بخوانید و کلمات غلط را زیر آن خط کشیده و صحیح آن را بنویسید.

هاشیه ، حفظ ، نهراسیم ، اهادیث ، بغداد ، نقمه ، فانوس ،

جاسس - اجاریت - نقمه

۳) بیت‌ها زیر را کامل کنید.

..... ملک ایران یکی گلستانست
 از صدای شورش آوارمان
 کفت پس با من هم
 یک نفر هم باز است

۴) در جاهای خالی واژه‌ی مناسب بگذارید.

الف) شخصی که دانش بسیار دارد، دانشمند است.

ب) نانوای کسی است که نان می‌پزد و محل کار او نانوا است.

پ) خاک نمناک یعنی خاکی که رطوبت دارد.

۵) برای اسامی زیر، نشانه‌های احترام را جلویشان بنویسید.

حضرت محمد (ص)

حضرت رقیه (س)

حضرت علی (ع)

حضرت زهرا (س)

مطالعات اجتماعی

۱) الف) چرا باید زباله‌ها را در ساعتی که شهرداری معین کرده به محل جمع‌آوری آن ببریم؟

تا حیواناتی مانند سگ و گربه آزار در خیابان نبریزند و باعث بیماری بشود و محل زندگی ما را آلوده کند.

ب) چرا حتماً باید در سطل‌های مخصوص شهرداری زباله‌ها را بندازیم؟

تا به بازاریافت بیشتر زباله کمک کنیم.





۲ مراحل تولید پلاستیک را بنویسید.

کارخانه‌ی پلاستیکی

مواد پلاستیکی ... کارخانه تولید پلاستیک ... چاه نفت

۳ جاهای خالی را با کلمات مناسب کامل کنید.

الف) به خاک، آب، گیاهان، جانوران، نفت و فلزات ... منابع طبیعی می‌گویند.

ب) برای دامپروری به ... آب ... و خاک و ... گیاهان ... نیاز داریم.


پ) عشایر در ... چاه‌ها ... زندگی می‌کنند.

هدیه‌های آسمان - قرآن

۱ شما چگونه به پدر و مادر خود نیکی می‌کنید؟

در نمازها، بی احترامی نمی‌کنم و احترام می‌گذارم.

۲ معنای کلمات قرآنی را به آن‌ها وصل کنید.



۳ هر کدام از لقب‌های زیر مربوط به کدام بزرگوار می‌باشد؟

الف) ام‌اینها: ... حضرت فاطمه (س) ب) باقر العلوم: امام محمد باقر (ع) پ) زین العابدین: امام سجاد (ع)

- ◀ واژه‌شناسی
- ◀ حروف مخلف احترامی
- ◀ جمع آوری و دسته‌بندی زبانه‌ها
- ◀ مواد اولیه و منابع طبیعی
- ◀ نیکی به پدر و مادر
- ◀ معنی عبارات و آیات قرآنی
- ◀ آشنایی با ائمه اطهار

- ◀ مسئله ضرب و کسر
- ◀ عملیات ریاضی ضرب و تقسیم، جمع و تفریق
- ◀ نمودارهای آماری
- ◀ مساحت شکل‌های ترکیبی
- ◀ تغییر حالت‌های مواد
- ◀ کاربرد آینه‌ها
- ◀ منابع نور
- ◀ حفظ شعر

شاخص‌ها

- خیلی خوب
- خوب
- قابل قبول
- نیاز به تلاش بیشتر

