


بِسْمِ اللَّهِ الرَّحْمَنِ الرَّحِيمِ

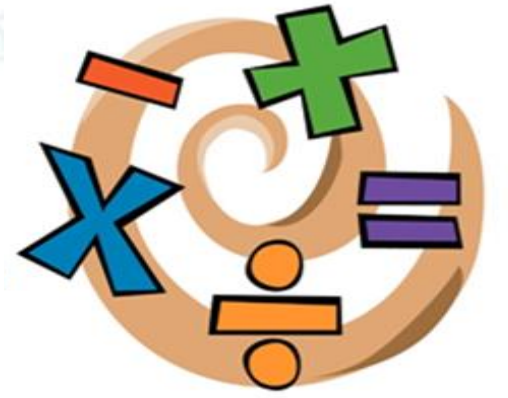


# ریاضی ششم دبستان

## مبحث: عدد نویسی



تمرین



۱. یک آپارتمان نوساز ۱۱۳ مترمربعی داریم که قیمت هر مترمربع آن، ۱۷۰۰۰۰۰۰ تومان است. قیمت این آپارتمان چند تومان است؟ (به حروف بنویس.) صد و نود و دو میلیون و صد هزار تومان

۱۷۰۰۰۰۰۰

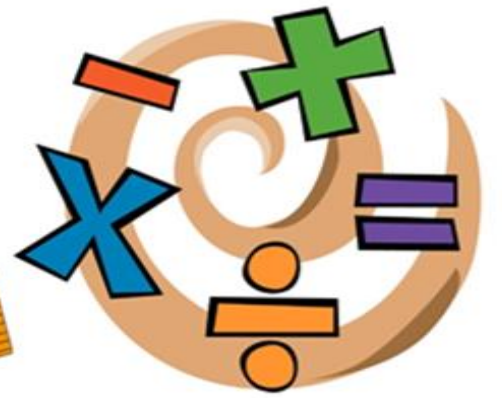
× ۱۱۳

۱۹۲ / ۱۰۰ / ۰۰۰



۲. عددهای زیر را به رقم بنویس.

الف) صد و پنجاه و دو میلیون و دویست و پانزده هزار و صد و بیست و چهار



۱۵۲/۲۱۵/۱۲۴


ب) هفتاد و دو عدد صحیح و صد و بیست و هشت هزارم

۷۲/۱۲۸





۳. عددهای زیر را به حروف بنویس.



الف) ۱۷۶۴/۰۱۹

ب) ۲۸۴۳۶۵۹۰۱۷


الف) یک هزار و هفتصد و شصت و چهار عدد صحیح و نوزده هزارم

ب) دو میلیارد و هشتصد و چهل و سه میلیون و ششصد و پنجاه و نه

هزار و هفده



۴. عددهای زیر را مقایسه کن.




الف)  $9,998,654,321 < 12,843,256,317$

ب)  $78/68 > 78/06$

پ)  $52,000,982 > 5 \times 10,000,000 + 2 \times 100,000 + 9 \times 100 + 8 \times 10 + 2$




۵. پاسخ ستون «الف» را از ستون «ب» پیدا کن و به هم وصل کن.



ب	الف
۱	- اولین رقم از سمت چپ عددی، در مرتبه‌ی یکان میلیون قرار دارد آن عدد چند رقمی است؟
۴	- با رقم‌های ۰ و ۱ چند عدد فرد سه رقمی (بدون تکرار ارقام) می‌توان نوشت؟
۵	- عدد ده میلیارد و صد و هفتاد میلیون و پانزده هزار و صد و نه چند صفر دارد؟
۷	- در عدد اختلاف رقم صدگان از یکان هزار چند است؟



۶. مجموع دو عدد «دو میلیارد و هشتصد و هفتاد» و «نود و چهار میلیون و صد و بیست هزار و چهل و دو» چند است؟

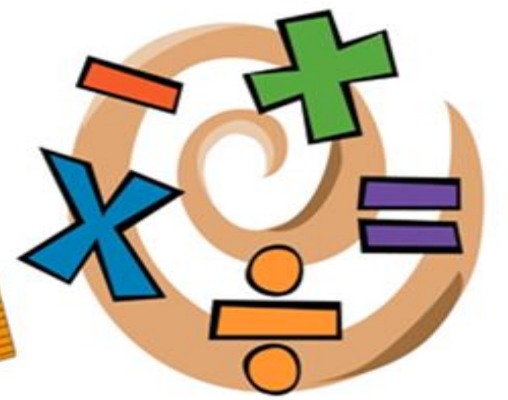


$$\begin{array}{r} 2,000,170 \\ + 94,120,042 \\ \hline 96,120,912 \end{array}$$





۷. الف) در عدد ۳۸۶۴۳۲۷۰۹۲ مرتبه‌ی ارقام ۰ و ۶ چیست؟



۰ ← صدگان      ۶ ← دهگان میلیون

ب) مجموع ارقام صدگان، یکان هزار و صدگان میلیون آن چند است؟

صدگان ← ۰      یکان هزار ← ۷

صدگان میلیون ← ۸

$$۸ + ۷ + ۰ = ۱۵$$

پ) این عدد را به حروف بنویس.

سه میلیارد و هشتصد و شصت و چهار میلیون و سیصد و بیست و هفت هزار و نود و دو



۸. اگر یکان میلیون عددی ۸، صدگان آن ۳ و دهگان هزار آن ۳ و بقیه‌ی ارقام آن صفر باشد:

الف) آن عدد را به رقم و به حروف بنویس.



$$\frac{8}{\text{ی}}, \frac{0}{\text{ص}}, \frac{3}{\text{د}}, \frac{0}{\text{ی}}, \frac{3}{\text{ص}}, \frac{0}{\text{د}}, \frac{0}{\text{ی}}$$

به عدد ۸,۰۳۰,۳۰۰ به حروف: هشت میلیون و سی هزار و سیصد

ب) با تقریب ۱۰۰۰۰۰ به چه عددی نزدیک‌تر است؟

به عدد ۸,۰۰۰,۰۰۰



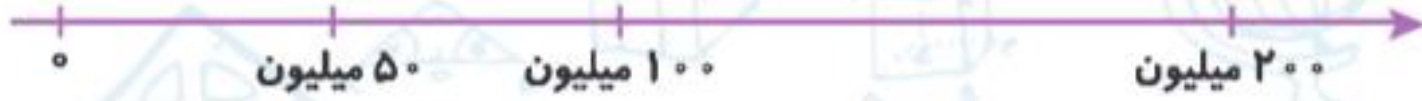
۹. اگر به صدگان میلیون عددی که ۵ است «۴ واحد» اضافه کنیم، آن عدد چه تغییری می‌کند؟

آن عدد ۴۰۰,۰۰۰,۰۰۰ بزرگ‌تر خواهد شد.



۱۰. فاصله زمین تا خورشید ۱۴۹۰۰۰۶۸۰ کیلومتر است.

الف) این عدد را با تقریب کم‌تر از یک میلیون روی محور زیر نشان بده.



ب) گسترده‌ی این عدد را بنویس.

$$۱۴۹,۰۰۰,۶۸۰ = ۱۰۰,۰۰۰,۰۰۰ + ۴۰,۰۰۰,۰۰۰ + ۹,۰۰۰,۰۰۰ + ۶۰۰ + ۸۰$$



# پایان

