



۱) جاهای خالی را با اعداد مناسب پر کنید.

الف) ۳ ساعت و ۲۰ دقیقه برابر با دقیقه است.

ب) صد تا ده هزارتایی برابر با است.

پ) ۶۹۰۰۴۵۳۲۱۰۰ از تا یک میلیارد، ۴ تا ، ۵۳۲ تا و

..... صدتایی تشکیل شده.

ت) عدد ۳۸۰۰۰۰۰۰ از تا یک میلیون ساخته شده است.

ث) عدد ۲۷۰۰۵۰۰ از تا یک میلیون و ۷ تا و ۵ تا ساخته شده است.

ج) ۵۴۰ روز برابر با سال و ماه و روز است. (ماه ۳۰ روز در نظر گرفته شود).

چ) ۱۰ تا ۱۰۰ میلیون می شود

ح) نصف ۴ میلیون می شود

خ) ۱۰۰۰ تا می شود یک میلیارد.

۲) هر یک از اعداد را با تقریب خواسته شده بنویسید.

الف) عدد ۴۵۶۲۰۰۰۰ با تقریب ۱۰۰۰۰۰ :

ب) عدد ۷۶۵۶۹۵۰۰۰۳۹ با تقریب یک میلیارد :

پ) عدد چهل و هشت میلیون و نه هزار با تقریب یک میلیون :



۴) برنا برای رفتن به منزل دوستش ساعت ۷:۲۰:۱۵ سوار اتوبوس شد و ساعت ۹:۱۰:۱۰ به

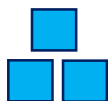
مقصد رسید. او چه مدت در راه بوده است؟

۵) درنا ساعت ۱۱:۵۰:۳۷ شروع به مطالعه کرد. اگر او به مدت ۲:۴۵:۱۸ مطالعه کرده باشد؛ در

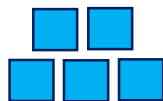
چه ساعتی مطالعه کردن او به اتمام رسیده است؟

۶) با توجه به شکل داده شده، شکل پنجاهم از چند مربع ساخته شده است؟

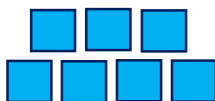
(رسم جدول و نوشتن رابطه الزامیست.)



(۱)



(۲)



(۳)



(۴)

موضوع: آمادگی سنجش آبان ماه

دبستان پسرانه‌ی علوی (شعبه منیریه)

نام و نام خانوادگی:



۷) اعداد مخلوط را به کسر بزرگ‌تر از واحد و کسرهای بزرگ‌تر از واحد را به عدد مخلوط تبدیل کنید.

$$۴ \frac{۱}{۹}$$

$$۳ \frac{۱}{۵}$$

$$۱ \frac{۲}{۳}$$

$$\frac{۱۲}{۵}$$

$$\frac{۲۶}{۳}$$

$$\frac{۴۳}{۷}$$

۸) اگر محیط مثلث زیر ۸ سانتی‌متر باشد؛ اندازه‌ی ضلع خواسته شده را به دست آورید.

