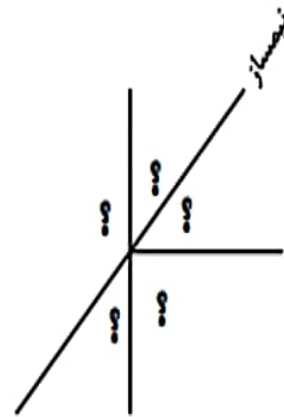
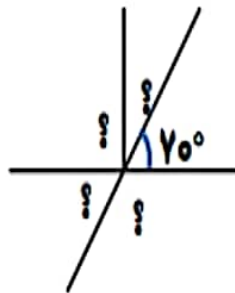
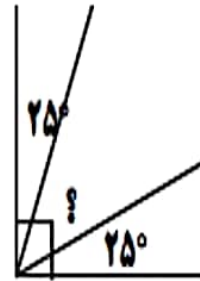
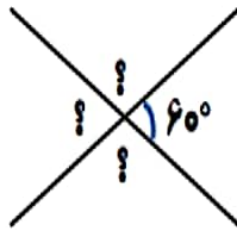
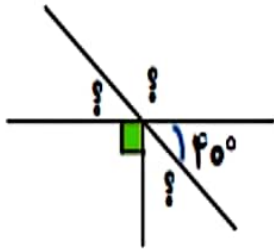


۱ اندازه ی زاویه های خواسته شده را پیدا کنید.



۲ در هر شکل اندازه ی زاویه های خواسته شده را به دست آورید.

