



ارمغان هفته - پنجم دبستان

نام و نام خانوادگی: تاریخ: نام آموزگار:

ریاضی < نوروژ
 مطالعات اجتماعی < نوروژ
 هدیه‌های آسمان < نوروژ
 قرآن < نوروژ

ریاضی < نوروژ
 علوم < نوروژ
 فارسی < نوروژ

ریاضی

پسته + فندق + تخمه

۱ پدر علی ۴۸۰۰ گرم آجیل خرید. اگر نسبت پسته و فندق و تخمه در این آجیل به ترتیب ۱ و ۳ و ۴ باشد. محاسبه کنید در این آجیل چند گرم پسته، چند گرم فندق و چند گرم تخمه وجود دارد؟



عبارت	نسبت	واقعی
پسته	۱	۹۰۰ gr
فندق	۳	۱۸۰۰ gr
تخمه	۴	۲۴۰۰ gr
اجیل (کل)	۸	۴۸۰۰

۲ شما چند ریال عیدی دریافت کرده‌اید؟




با رقم: ۴ ۳ ۰ ۰ ۰ ۰ R/س

با حروف: چهل و سه میلیون ریال

۳ مرضیه خانم برای تهیه آجیل عید نخود و کشمش را با نسبت ۳ به ۵ مخلوط کرد. اگر اندازه کشمش ۶۰۰ گرم باشد چه مقدار نخود با آن مخلوط کرده است؟

عبارت	نسبت	واقعی
نخود	۳	۳۶۰ gr
کشمش	۵	۶۰۰
آجیل	x	x

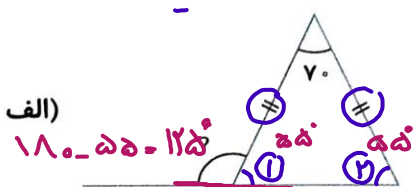
۴ عددهایی که روی گل‌ها نوشته شده را به ترتیب از کوچک به بزرگ مرتب کنید.



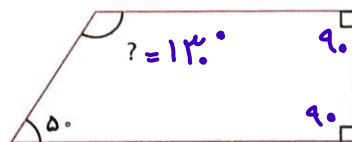
$0/25 < 0/411 < 5/10 < 3/42$

مثلث متساوی‌الساقین

۵ اندازه زاویه‌های خواسته شده را پیدا کنید.



ب)



روش ۱

$90 + 90 + 50 = 230$

$360 - 230 = 130$

$\hat{1} = \hat{2}$

$180 - 70 = 110$

$110 \div 2 = 55$



روش دوم

$? + 50 = 180$

$180 - 50 = 130$



۵۴۴
۳٪


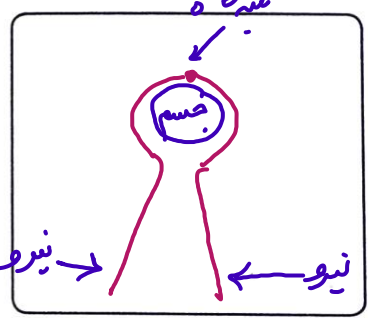
× ۱۷۰

مغازهداری برای شب عید تمام لباس هایش را ۳۰٪ تخفیف گذاشته است. اگر لباس ۸۷۰۰۰ تومان باشد، ما بعد از تخفیف باید چند تومان پردازیم؟

عبارت	درصد	واقعی
پرداختی	۷۰	۶۰۹۰۰۰
تخفیف	۳۰	
کل	۱۰۰	۸۷۰۰۰

علوم

گردوها و فندق‌های آجیل عید را با چه وسیله‌هایی می‌شکنند؟ هر کدام چه نوع اهرمی هستند؟ سه قسمت اهرم را در وسایل با یک نقاشی زیبا نشان دهید. این وسایل چگونه به ما کمک می‌کنند؟



افزایش نیرو



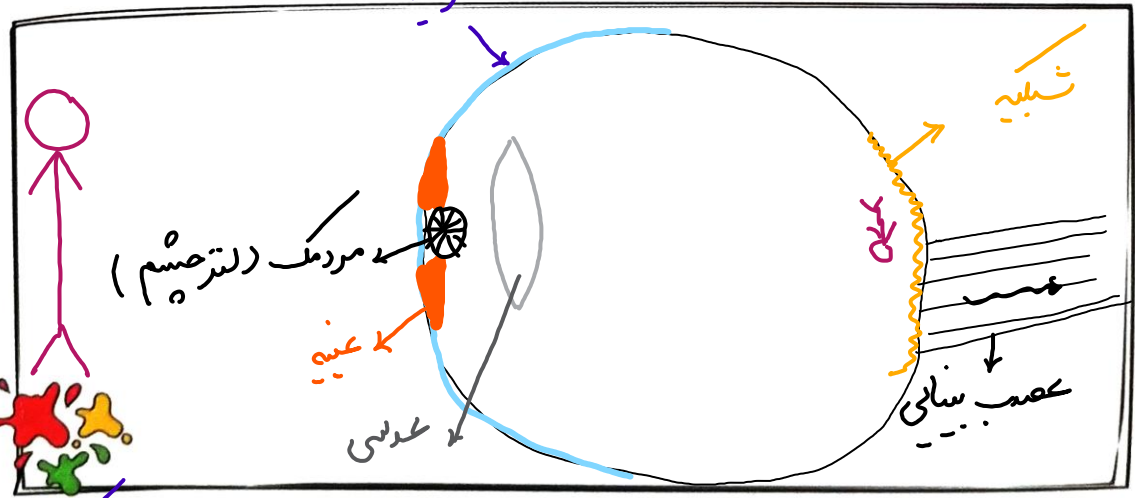
انتقال نیرو

مریم خانم برای شب سال نو سبزی پلو با ماهی پخت. او برای درست کردن ماهی مراحل زیر را انجام داد. در هر مرحله چه تغییری روی داده است؟

- شستن ماهی: **فیزیکی**
- سرخ کردن ماهی: **شیمیایی**

- خرد کردن ماهی: **فیزیکی**
- طعم‌دار کردن ماهی: **فیزیکی**

ساختمان چشم را نقاشی کرده و اجزای مهم آن را نام‌گذاری کنید.



وقتی می‌دوید از کدام دستگاه بدنتان استفاده می‌کنید؟ توضیح دهید. **دستگاه حرکتی**: ماهیچه‌ها، استخوان‌ها، مفاصل، نخاع، دستگاه عصبی، پیام‌رسان‌ها، اندرون، ماهیچه‌ها، ارسال می‌کنند، منقبض شدن ماهیچه، حرکت استخوان‌ها

فارسی

کلمات هم معنی را هم رنگ کنید.

کدوبن	دریا = بحر	نکوهیده
پند = نصیحت	ناپسند	بازرگان
تاجر		بوته کدو


در جمله های زیر نشانه های نگارشی مناسب قرار دهید.

«روزی نرگس و الهه در حیاط نشستند بودند که ناگهان هوا ابری شد و باران شروع به باریدن کرد (.) الهه پرسید (:) این درست است که می گویند اگر باران نیاید انسان (،) حیوانات و موجودات زنده دیگر از بین می روند (؟)»

جمله ی زیر را گسترش دهید.

خواهرم بعد از مدت ها و با دلخوری زیاد، تاب شش ماهه من را که بسیار دوست داشتم، پاره پاره آورد.

داستان سفر آب به آسمان را از روی تصویر تعریف کنید و یک بند بنویسید.




مطالعات اجتماعی

برچسب کره ی زمین را در جای مخصوص چسبانده و بیان کنید هر یک از قسمت های «الف»، «ب»، و «پ»، روی کره ی زمین چه چیزی را نشان می دهند؟

الف: قطب شمال

ب: مدار

پ: نصف النهار مبدأ



۲ زهرا از سرو صدا آتش بازی چهارشنبه سوری می ترسد او چه نوع ترسی است به جا یا نابه جا!

دو راه کار برای مقابله با ترس به زهرا پیشنهاد بدهید.

او می تواند در کنار پدر و مادرش بنشیند. او می تواند با استفاده از هدفون موزیک لوس دهد.

۳ جاهای خالی را با عبارتهای مناسب کامل کنید.

در مسافرت حواسمان باشد:

(پ) در بازدید از مکانهای تاریخی به آنها آسیب نزنیم
(ت) هنگام پختن غذا در جنگل آتش را روشن رها نکنیم

(الف) با راننده صحبت نکنیم
(ب) زباله های خود را در خیابان بیاندازیم

هدیه های آسمان - قرآن

۱ با توجه به کتاب هدیه های آسمانی در مورد هر یک از موضوعات زیر یک حدیث از پیامبر بنویسید.

نماز	نماز نور چشم من است
پاکیزگی	پاکیزگی از پایه های دین اسلام است.

۲ هفت سین قرآنی زیر را با هفت سوره ی قرآن که با حرف (س) شروع می شوند کامل کنید.

اسرار	نور	حدید	عشرا	صف	اعلی	معارج
-------	-----	------	------	----	------	-------

۳ پدر متین در هنگام تحویل سال نو کتاب قرآن را باز کرد و قسمتی از آیه ی ۲۵ سوره بقره را خواند. ترجمه ی این قسمت از آیه را بنویسید.

رَوِّبَشِّرِ الَّذِينَ ءَامَنُوا وَعَمِلُوا الصَّالِحَاتِ إِنَّ لَهُمْ جَنَّاتٍ

دو بشارت ده کسانی را که ایمان آورده اند و عمل صالح انجام می دهند، که برای آنها برست هایی هست.

- توانایی بند نویسی
- شناخت جانوران مناطق مختلف
- شناخت موارد ایمنی
- آشنایی با سوره های قرآن

- توانایی حل مسئله با مفهوم نسبت
- محاسبه ی زاویه ی نامشخص
- کاربرد اهرم
- شناخت انواع ماشین های ساده
- شناخت تغییرات شیمیایی و فیزیکی

شاخص ها

- خیلی خوب
- خوب
- قابل قبول
- نیاز به تلاش بیشتر