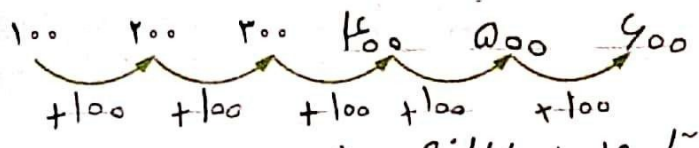
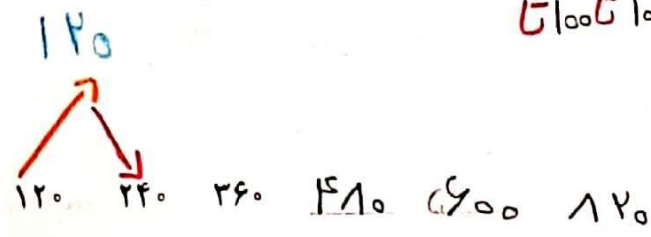


# الگویابی، رسم شکل

۱- الگوی زیر را ادامه دهید.



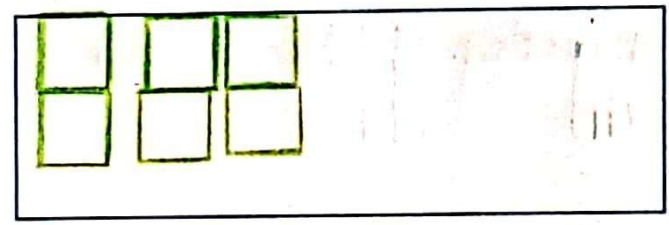
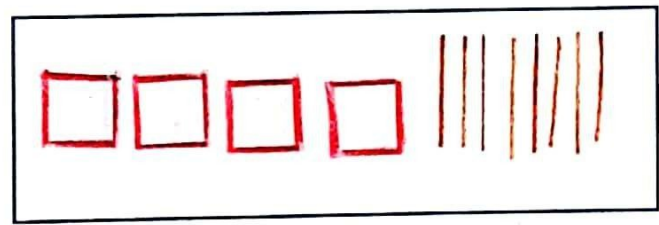
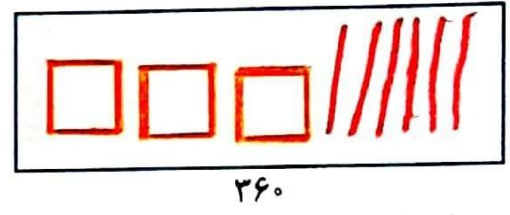
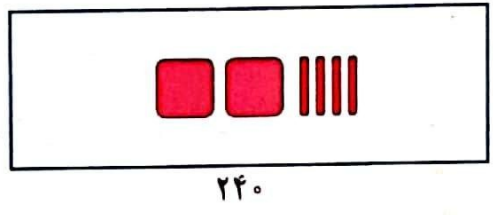
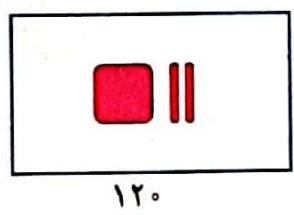
بین عددها چه رابطه‌ای وجود دارد؟ صد تا صد تا با اعداد اضافه می‌شود.  
در الگوی عددی بالا، شمارش چندتا چندتا است؟ ۱۰۰ تا ۱۰۰ تا



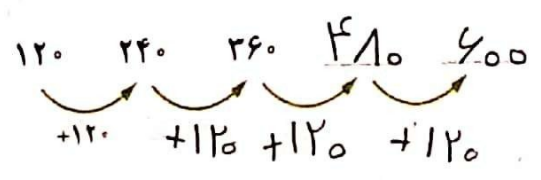
۲- می‌خواهیم الگوی زیر را ادامه دهیم:

$$\begin{array}{r} 240 \\ - 120 \\ \hline \end{array}$$

فاطمه با رسم شکل تلاش کرد الگوی عددی را به هندسی تبدیل و عددهای بعدی را پیدا کند. شما هم مثل او با رسم شکل مناسب عددهای بعدی را پیدا کنید (یعنی ۱۰۰ یعنی و ۱۰ یعنی ).



زها از شکل استفاده نکرد. او تلاش کرد بین عددها رابطه پیدا کند.



با استفاده از تجربه‌ی زها عددهای بعدی الگو را پیدا کنید.

- برای پیدا کردن عدد بعد از ۳۶۰، چه محاسبه‌ای را انجام می‌دهید؟ +۱۲۰

- عدد پنجم را چگونه پیدا می‌کنید؟ ۶۰۰

- عدد ششم را چگونه؟

$$\begin{array}{r} 600 \\ + 120 \\ \hline 720 \end{array}$$

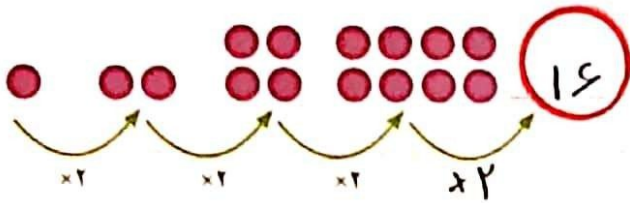
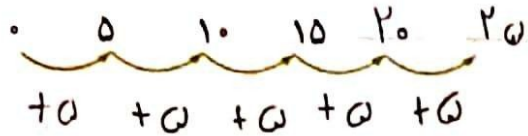
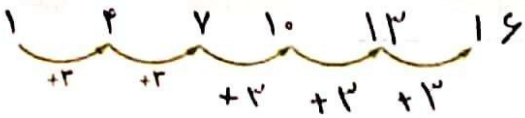
# الگوها



۱- الگوها را ادامه دهید. رابطه‌ی بین عددهای هر الگو را مانند نمونه توضیح دهید.


هر عدد ۳ واحد بیشتر از عدد قبلی است.

فعالیت

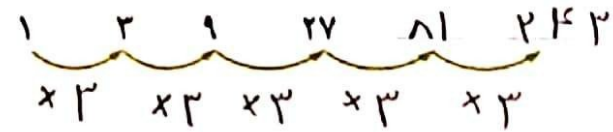


هر عدد ۵ واحد بیشتر از عدد قبلی.

هر عدد ۲ برابر عدد قبلی.



هر عدد ۲ برابر عدد قبلی.



هر عدد ۳ برابر عدد قبلی.

۲- الگوهای عددی را ادامه دهید. رابطه‌ی بین عددها را توضیح دهید.

