

۱. عددهای زیر را با تقریب خواسته شده بنویس.

۷۹
۲۵۳
۴۶۸

با تقریب در دهگان

۷۶۵۴
۹۳۰۰
۳۴۹۹

با تقریب در هزارگان

۲. با توجه به اعداد زیر، به سوالات جواب بده.

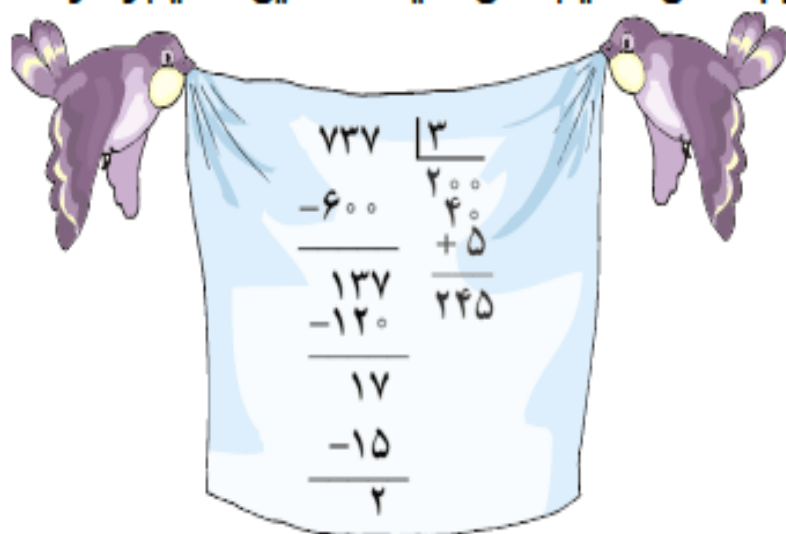
$$۲۸۵ - ۶۷۰ - ۹۶۱ - ۷۸۳ - ۱۸۶$$

➤ کدام یک از اعداد بالا بر ۲ بخش پذیرند؟

➤ کدام یک از اعداد بر ۵ بخش پذیرند؟

۳. محمد تقسیم زیر را حل کرده است. با نوشتن رابطه های تقسیم نشان دهید محمد این تقسیم را درست

انجام داده است یا خیر.




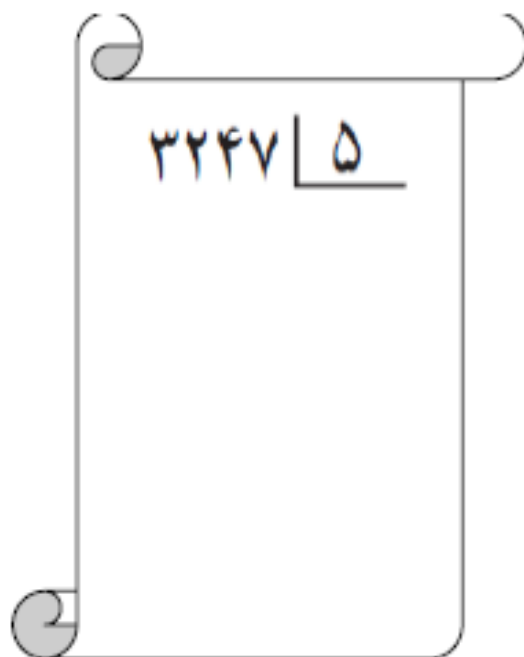
۴. ضرب های زیر را انجام بده.

$$\begin{array}{r} ۶۹۳ \\ \times ۷۰۰ \\ \hline \end{array}$$

$$\begin{array}{r} ۳۷۵ \\ \times ۸۰۲ \\ \hline \end{array}$$



۵. تقسیم های زیر را حل کن.



۶. مدرسه ی احمد قصد دارد دانش آموزان را به اردوی تفریحی ببرد، برای این اردو ۶ اتوبوس ۴۲ نفره و ۳ مینی بوس ۱۸ نفره در نظر گرفته شده است. در این وسایل نقلیه چند دانش آموز جا می شود؟ آیا با این وسایل نقلیه می توان ۳۰۵ دانش آموز را به اردو برد؟
(راه حل خود را بنویس.)

۷. علی در ماه مبارک رمضان تمام قرآن را خواند. قرآن او ۶۹۶ صفحه داشت و ماه رمضان آن سال ۲۹ روز بود. علی در هر روز به طور متوسط چند صفحه قرآن خوانده است؟

۸. یک مساله بنویس که پاسخ آن ، حاصل $۱۴ \div ۸۳۷$ باشد و آن را حل کن.

.....

.....

.....

