



به نام خداوند بخشنده‌ی مهربان



کاربرگ آبنبات ۱

نام و نام خانوادگی:

۳۲۹۸۰۶۰۲۰

۱. با توجه به عدد روبه‌رو به سؤالات زیر پاسخ دهید:

الف: ارقام طبقه‌ی میلیون را بنویسید.

ب: بزرگترین رقم در چه مرتبه‌ای قرار دارد؟

ج: رقم سه در چه مرتبه‌ای قرار دارد؟

د: عدد را به حروف بنویسید.

۲. در الگوی مقابل شکل هفتم از چند دایره درست شده است؟ (بدون رسم شکل)



(۱)



(۲)



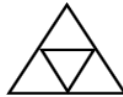
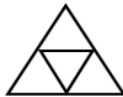
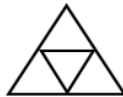
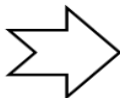
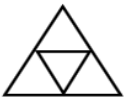
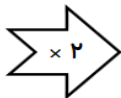
(۳)

۳. عدد ۱۷ وارد ماشین محیط یاب شده است. چه عددی از این ماشین خارج می‌شود؟

۴. در الگوی عددی زیر به جای ؟ چه عددی قرار می‌گیرد؟

(۱ و ۸) - (۶ و ۴۲) - (۶ و ۲۴) - (۷ و ۳۵) - (۹ و ؟)

۵. با توجه به کاری که ماشین انجام می‌دهد جاهای خالی را کامل کنید.



## واحد های اندازه گیری طول

۱ متر = ۱۰۰ سانتی متر

۱ متر = ۱۰۰۰ میلی متر

۱ سانتی متر = ۱۰ میلی متر

میلی متر < سانتی متر < متر < کیلومتر

## واحد های اندازه گیری زمان

۱ ساعت = ۶۰ دقیقه

۱ دقیقه = ۶۰ ثانیه

۱ ساعت = ۳۶۰۰ ثانیه

ثانیه < دقیقه < ساعت < روز < هفته < ماه < سال < قرن