

موضوع:

تاریخ:


نام و نام خانوادگی:

هدف:

۱- هر زاویه از دو و یک به وجود می آید.




۲- روی شکل زیر زاویه‌ی «دمن»، را قرمز، «سن مد»، را سبز و «ده م ب»، را آبی کنید.



۳- زاویه‌ی زیر به چند شکل خوانده می شود. آن را به تمام شکل‌هایی که خوانده می شود، بخوانید و بنویسید.

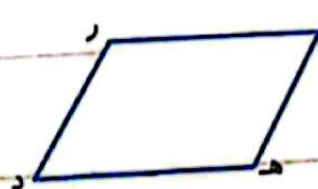


۴- روی هر کدام از شکل‌های زیر چند زاویه دیده می شود؟ آن‌ها را نام ببرید.



نام زاویه‌ها :

تعداد زاویه‌ها :



نام زاویه‌ها :

تعداد زاویه‌ها :

۵- در زاویه‌ی «ده دن»، اضلاع زاویه را نام ببرید.



تمرین

$$\begin{array}{r} 740 \\ -4 \\ \hline 14 \\ -14 \\ \hline 00 \end{array}$$

1 هر عبارت را به پاسخ درست آن وصل کن. (یک مورد اضافی است.)

- $76011 + 211$ 38
- $761 + 21$ 380
- $7600 + 2$ 380000
- 3800

مقسوم علیه \times خارج قسمت
باقی مانده + (خارج قسمت \times مقسوم علیه) = مقسوم
خارج قسمت \leftarrow باقی مانده
درستی و نادرستی هر عبارت را مشخص کن.

الف: با توجه به رابطه تقسیم $1121 = 22 \times 24 + 22$ مقسوم علیه می تواند 22 باشد.
ب: عدد 21568 با تقریب صدگان عدد 22000 خواهد بود.

2 جاهای خالی را با عدد یا عبارتی مناسب پر کن.

الف: خارج قسمت تقریبی تقسیم 2251 بر 21 برابر 100 است. $2000 \div 2 = 1000$

ب: با 760 تومان 8 تراش 90 تومانی می توانیم بخریم.

$$\begin{array}{r} 740 \\ -720 \\ \hline 20 \end{array}$$

3 عدد 17 را 22 بار زیر هم نوشته و باهم جمع کردیم. باقی مانده تقسیم این حاصل جمع بر عدد 26 چند است؟

$$\begin{array}{r} 22 \\ \times 17 \\ \hline 154 \\ + 354 \\ \hline 528 \end{array}$$

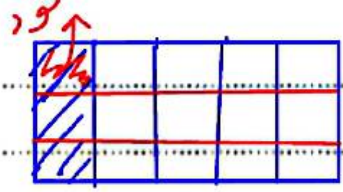
حاصل جمع $\rightarrow 528$

4 نصف پول برنا 2650 است. او با تمام پول خود چند پاک کن 75 تومانی می تواند بخرد. چقدر از پولش باقی می ماند؟ 97 یا 97

$$\begin{array}{r} 2650 \\ - 1325 \\ \hline 1325 \end{array}$$

$$\begin{array}{r} 1325 \\ \times 2 \\ \hline 2650 \end{array}$$

5 کشاورزی خمس زمین خود را به سه قسمت تقسیم کرده است و در یک قسمت آن نخود کاشته است اگر مساحت زمین



او 29000 مترمربع باشد چند مترمربع را نخود کاشته است؟

$$\begin{array}{r} 29000 \\ - 24000 \\ \hline 5000 \end{array}$$

24000 مترمربع را نخود کاشته است



علوی

$$245 + 45 = 290 \times 2 = 580$$


پنج برابر نصف عددی، ۴۵ واحد کمتر از ۲۴۵ است. آن عدد چند است؟

۵۰۰ (۴)

۷۲۵ (۳)

۱۱۶ (۲)

۸۰ (۱)



مهندسی مگروس

طول دماغ چوبی پینوکیو ۴ سانتی متر است. وقتی پینوکیو دروغ می گوید طول دماغش دو برابر می شود. بعد از این که ۶ بار دروغ گفت، طول دماغش چقدر می شود؟ (اللهو)

- ۴ (۵)
- ۸ (۱۱)
- ۱۶ (۲)
- ۳۲ (۳)
- ۶۴ (۴)
- ۱۲۸ (۵)
- ۲۵۶ (۶)

۱۲۴ (۱)

خودارزیابی

خوب	خیلی خوب	خوب	قابل قبول	نیاز به تلاش
<input type="radio"/>	<input type="radio"/>	<input type="radio"/>	<input type="radio"/>	<input type="radio"/>
<input type="radio"/>	<input type="radio"/>	<input type="radio"/>	<input type="radio"/>	<input type="radio"/>
<input type="radio"/>	<input type="radio"/>	<input type="radio"/>	<input type="radio"/>	<input type="radio"/>

شناخت و حل مسئله های ضرب و تقسیم

حل تقسیم چند رقم بر چند رقم

توانایی تقریب زدن اعداد بزرگ

فعالیت عملکردی

دانش آموز باهوشما!

در این هفته همراه بزرگ ترهایت به میوه فروشی بروا چه چیزهایی خریدید؟ از هر میوه چند کیلوگرم تهیه کردید و بعد از محاسبات ریاضی بگو شما به میوه فروشی چند تومان پرداخت کردید؟