



کاربرگ ریاضی

موضوع:

تاریخ

نام و نام خانوادگی

هدف:

۱- جای خالی را پر کنید .

- یک متر ..... سانتی متر است .
- ۶ متر ..... سانتی متر است .
- ۶۰ متر ..... سانتی متر است .

۲- درست یا نادرست بودن جملات زیر را مشخص کنید .

- در پرتاب تاس ، احتمال آمدن عدد زوج بیشتر از فرد است .  درست  نادرست
- در پرتاب تاس ، احتمال آمدن عدد فرد بیشتر از زوج است .  درست  نادرست

۳- هر یک از عبارت های زیر را روی محور نمایش دهید و حاصل را بنویسید .

$1/9 + 1/4 =$   →

$2 \frac{2}{4} - 1 \frac{1}{4} =$   →

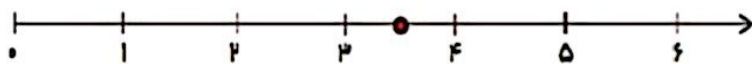
۴- اگر در کیسه ای ۵ مهره زرد و ۲ مهره سبز و ۳ مهره قرمز باشد :

- احتمال بیرون آمدن کدام رنگ بیشتر است ؟ چرا ؟
- احتمال بیرون آمدن کدام رنگ کمتر است ؟ چرا ؟

۵- در چرخنده زیر احتمال ایستادن عقربه روی کدام رنگ بیشتر است ؟ چرا ؟



۶- نقطه ی مشخص شده روی محور کدام گزینه است ؟



- الف) ۳/۵
- ب) ۳/۲
- ج) ۳/۷
- د) ۳/۶

۷- ضرب و تقسیم های زیر را انجام دهید .

$8234 \overline{) 24}$

$4528 \overline{) 53}$

$236$

$425$

$\times 542$

$\times 632$



کاربرگ ریاضی

موضوع:

تاریخ

نام و نام خانوادگی

هدف:

۸- نمودار ستونی مربوط به جدول زیر را رسم کنید. کمترین بازی را کدام تیم ارائه کرده است؟



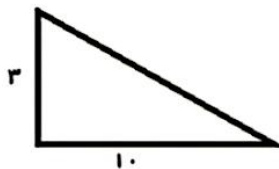
تعداد بازی های تیم مدرسه	
۴	والیبال
۸	بسکتبال
۱۰	فوتبال
۵	تنیس

۹- جدول داده های زیر مربوط به تعداد روز های تعطیل در ۶ ماه دوم سال ۹۳ است. نمودار خط شکسته آن را دقیق رسم کن.

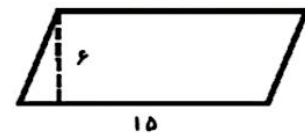


روز های تعطیل	ماه
۴	مهر
۹	آبان
۶	آذر
۵	دی
۸	بهمن
۵	اسفند

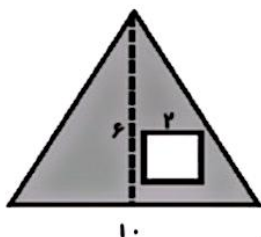
۱۰- مساحت های خواسته شده را بدست آورید؟



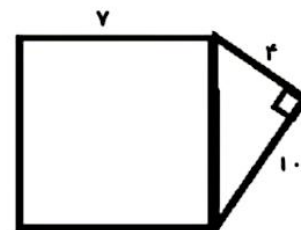
مساحت مثلث =



مساحت متوازی الاضلاع =



مساحت قسمت رنگی =



مساحت کل شکل =