



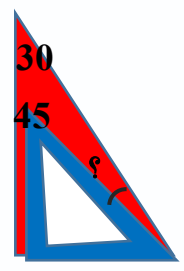
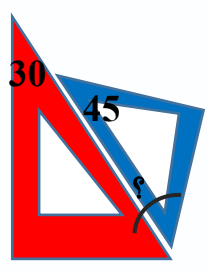
نام و نام خانوادگی: _____

تاریخ: _____

موضوع: _____


هدف: _____

1- زاویه خواسته شده را بدست آورید.

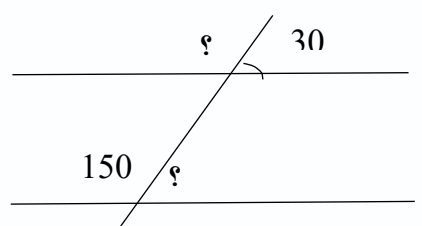
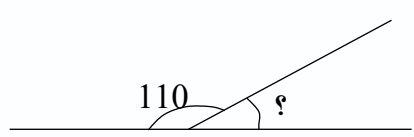


2- 50 دقیقه قبل و 50 دقیقه بعد از ساعت 6:40 دقیقه را بدست آورید.


3- یک هواپیما ساعت 11:30 دقیقه از تهران پرواز کرد و ساعت 1:10 دقیقه در جزیره قشم به زمین نشست . مدت زمان پرواز چند دقیقه بوده است؟
یعنی چند ساعت و چند دقیقه؟



4- اندازه‌ی زوایای خواسته شده را به دست آورید.



5- یک متوازی الاضلاع و یک دوزنقه و یک لوزی رسم کنید و ضلع هایی که با هم موازی هستند را رنگ کنید.





نام و نام خانوادگی: _____ تاریخ: _____ موضوع: _____ هدف: _____

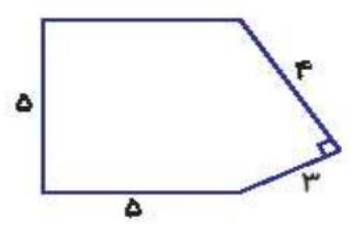
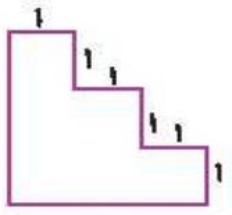
6- جاهای خالی را پر کن.

الف: $\frac{2}{3}$ متر یعنی سانتی متر

ب: $\frac{7}{5}$ متر یعنی متر و سانتی متر

پ: دور تا دور هر شکل را آن شکل می گویند.

7- محیط شکل های زیر را حساب کن.



8- مساحت شکل های زیر را حساب کنید

