



موضوع:

تاریخ

نام و نام خانوادگی

هدف:

۱ - جاهای خالی را با استفاده از کلمات مناسب کامل کنید .

(الف) نوزاد قورباغه شبیه است . (ب) ، پرنده ای است که آشیانه اش را می بافت .

(ج) به موادی مثل نفت و بنزین که می سوزند و گرما تولید می کنند ، می گویند .

(د) اگر نور از جسمی عبور نکند ، پشت آن تشکیل می شود.

۲ - ریشه کدام یک از گیاهان زیر خوراکی نیست؟



۳ - با توجه به تصاویر زیر ، مراحل تهیه نان را شماره گذاری کن



.....

.....

.....

.....

.....

۴ - هر کدام از زباله های زیر را در سطل زباله مخصوص به خود قرار بده .

بطری آب معدنی - روزنامه - پوست میوه - لیوان یکبار مصرف - طالبی فاسد شده - جعبه دستمال کاغذی - باقی مانده خورش



باز خورد:

Blank lines for writing the recycling process.





موضوع:

تاریخ:

نام و نام خانوادگی:

هدف:

۵ - به هر یک از سوالات زیر پاسخ بده .

الف (وسیله ای که جهت باد را با آن تشخیص می دهند ؟

ب (چرا در زمستان هوا سرد تر است ؟

ج (حواس پنجگانه را نام ببرید .

د (چرا باید از دندان های شیری خودمان به خوبی مراقبت کنیم ؟

هـ (من کدامیک از حالات ماده هستم که از خود شکلی ندارم و در هر ظرفی که مرا بریزی به شکل ظرف

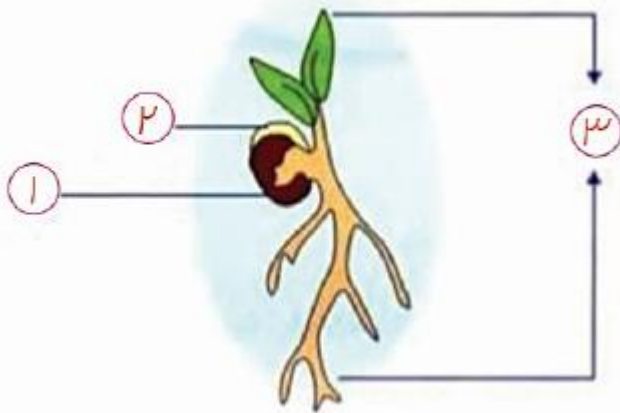
در می آیم ؟

۶ - هر کدام از موارد زیر را در جای مناسب خود قرار بده .



	دانه فوراکی
	دانه غیر فوراکی

۷ - شکل زیر قسمت های مختلف دانه را نشان می دهد :



الف (نام هر قسمت را بنویس .

ب (کدام قسمت دانه غذای ماست ؟

بازخورد:

Blank space for feedback or comments.






موضوع:

تاریخ:


نام و نام خانوادگی:

هدف:

۸ - در هر گلبرگ بنویس که چگونه می توان در مصرف سوخت صرفه جویی کرد؟



۹ - کدام تصویر ، سایه درخت در ساعت ۱۲ ظهر را نشان می دهد ؟ چرا ؟



بازخورد:

Four horizontal lines for writing feedback.

