

الف) نادرست - اگر زاویه‌های یک مثلث تند باشند محل برخورد عمود منصف‌ها درون مثلث قرار می‌گیرد، ولی اگر مثلث قائم الزاویه باشد محل برخورد عمود منصف‌ها خارج مثلث وسط وتر و اگر مثلث زاویه باز داشته باشد محل برخورد عمود منصف‌ها خارج مثلث است.

(۵/۰ نمره) (فصل سوم - استدلال و اثبات در هندسه - صفحه ۲۵ کتاب درسی) (آسان)

۱

ب) درست - دو حالت وجود دارد (۱) اگر دو ضلع قائمه در مثلث‌ها با هم برابر باشند در این صورت دو مثلث به حالت ض ض ض برابر و هم‌نهشت خواهند بود. (۲) اگر وتر و یک ضلع از هر دو مثلث با هم برابر باشند که به حالت و ض هم‌نهشت می‌شوند.

(۵/۰ نمره) (فصل سوم - استدلال و اثبات در هندسه - هم‌نهشتی مثلث‌ها - صفحه ۴۴ کتاب درسی) (آسان)

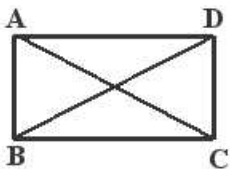
الف) عمود منصف (۵/۰ نمره) (فصل سوم - استدلال و اثبات در هندسه - صفحه ۴۰ کتاب درسی) (آسان)

۲

ب) نصف (۵/۰ نمره) (فصل سوم - استدلال و اثبات در هندسه - هم‌نهشتی مثلث‌ها - صفحه ۴۸ کتاب درسی) (آسان)

الف) گزینه «۴» - (۲۵/۰ نمره) می‌دانیم محل برخورد سه میانه و سه نیمساز در هر مثلثی درون آن مثلث است و محل برخورد عمود منصف‌ها اگر مثلث قائم‌الزاویه باشد وسط وتر و اگر زاویه باز داشته باشد بیرون مثلث خواهد بود. اما محل برخورد ارتفاع وقتی مثلث قائم‌الزاویه است روی راس قائم خواهد بود چون اضلاع قائمه خودشان ارتفاع‌های مثلث نیز هستند و محل برخوردشان، محل برخورد ارتفاع‌ها است.

ب) گزینه «۱» - (۲۵/۰ نمره) فقط به حالت (ض ض ض) هم‌نهشتی دو مثلث ایجاد شده اثبات می‌شود.



مستطیل ABCD فرض

حکم $AC = BD$

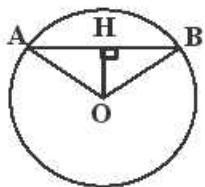
$$\left. \begin{array}{l} AB = DC \text{ عرض های مستطیل} \\ \widehat{B} = \widehat{C} = 90^\circ \\ BC = BC \text{ ضلع مشترک} \end{array} \right\} \begin{array}{l} \xrightarrow{\text{ض ض ض}} \triangle ABC \cong \triangle BCD \xrightarrow{\text{تساوی اجزاء}} \overline{AC} = \overline{BD} \end{array}$$

(فصل سوم - استدلال و اثبات در هندسه - هم‌نهشتی مثلث‌ها - صفحه ۴۸ کتاب درسی) (متوسط)

پ) گزینه «۱» - (۲۵/۰ نمره) حکم است چون خواسته مسئله است.

(فصل سوم - استدلال و اثبات در هندسه - آشنایی با اثبات در هندسه - صفحه ۲۷ کتاب درسی) (متوسط)

ت) گزینه «۱» - (۲۵/۰ نمره)



فرض $\widehat{H}_1 = \widehat{H}_2 = 90^\circ$

حکم $AH = BH$

$$\left. \begin{array}{l} OA = OB \text{ شعاع} \\ OH \text{ ضلع مشترک} \end{array} \right\} \begin{array}{l} \xrightarrow{\text{وتر و یک ضلع}} \triangle OAH \cong \triangle OBH \xrightarrow{\text{تساوی اجزاء}} AH = BH \end{array}$$

(فصل سوم - استدلال و اثبات در هندسه - هم‌نهشتی مثلث‌ها - صفحه ۴۹ کتاب درسی) (متوسط)

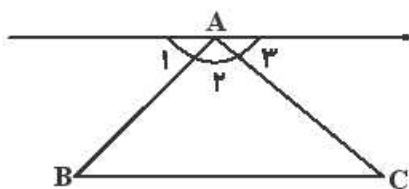
الف) نادرست - ممکن است متوازی‌الاضلاع ABCD یک مستطیل باشد چون در مستطیل قطر‌ها با هم برابرند. (۵/۰ نمره)

ب) نادرست - تمام اعداد اول فرد نیستند، عدد ۲ عددی اول است ولی فرد نیست، عدد طبیعی ۲ تنها عدد زوج اول است.

(۵/۰ نمره) (فصل سوم - استدلال و اثبات در هندسه - صفحه ۲۶ کتاب درسی) (متوسط)

۴

اثبات: می‌خواهیم ثابت کنیم $\widehat{A}_1 + \widehat{B} + \widehat{C} = 180^\circ$ مثلث دلخواه ABC را رسم کرده از راس A به موازات ضلع BC خط d را رسم می‌کنیم. (می‌توان از راس‌های دیگر نیز موازی با ضلع‌های مقابلشان رسم کرد.)



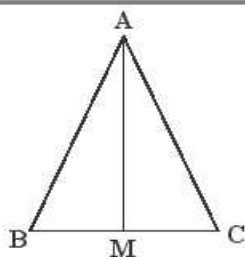
رابطه (۱) $d \parallel BC$, AB مورب $\Rightarrow \widehat{A}_1 = \widehat{B}$

$d \parallel BC$, AC مورب $\Rightarrow \widehat{A}_2 = \widehat{C}$

رابطه (۲) می‌دانیم $\widehat{A}_1 + \widehat{A}_2 + \widehat{A}_3 = 180^\circ$ اکنون در رابطه ۲ به جای \widehat{A}_1 ، زاویه برابرش یعنی \widehat{B} و به جای \widehat{A}_2 زاویه برابرش یعنی \widehat{C} را از رابطه ۱ می‌گذاریم. $\widehat{A}_1 + \widehat{B} + \widehat{C} = 180^\circ$

(۱/۵) (فصل سوم - استدلال و اثبات در هندسه - صفحه ۴۱ کتاب درسی) (متوسط)

۵



$\triangle ABC$ متساوی الساقین: فرض

$$AB = AC$$

$$\widehat{B} = \widehat{C}$$

$$AM \text{ میانه} \Rightarrow BM = CM$$

$$\text{حکم ارتفاع } AM \Rightarrow \widehat{M}_1 = \widehat{M}_2 = 90^\circ$$

طبق فرض $AB = AC$
ضلع مشترک $AM = AM$
 AM میانه $BM = MC$

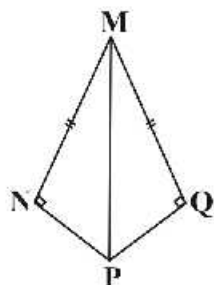
$$\left. \begin{array}{l} \text{ض ض ض} \\ \text{ض ض ض} \end{array} \right\} \rightarrow \triangle ABM \cong \triangle AMC \xrightarrow{\text{تساوی اجزای متناظر}} \widehat{M}_1 = \widehat{M}_2$$

$$\widehat{M}_1 + \widehat{M}_2 = 180^\circ \Rightarrow \widehat{M}_1 = \widehat{M}_2 = 90^\circ$$

اگر هم‌نهشتی دو مثلث را به حالت ض ض ض نیز اثبات کند درست است.

(۱/۵) (فصل سوم - استدلال و اثبات در هندسه - هم‌نهشتی مثلث‌ها - صفحه ۴۸ کتاب درسی) (متوسط)

۶



فرض: $MN = MQ$

$$\widehat{N} = \widehat{Q} = 90^\circ$$

$$\text{حکم: } NP = PQ$$

اثبات: از M به P خطی وصل می‌کنیم تا شکل به دو مثلث MNP و MPQ تقسیم شود اکنون هم‌نهشتی این دو مثلث را اثبات می‌کنیم و سپس در تساوی اجزای متناظر، تساوی NP و PQ را نتیجه می‌گیریم.

طبق فرض $MN = MQ$
وتر مشترک $MP = MP$
 $\widehat{N} = \widehat{Q} = 90^\circ$

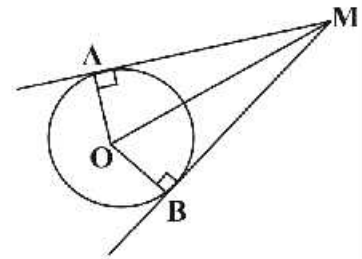
$$\left. \begin{array}{l} \text{ض ض ض} \\ \text{وتر مشترک} \\ \widehat{N} = \widehat{Q} = 90^\circ \end{array} \right\} \rightarrow \triangle MNP \cong \triangle MPQ \xrightarrow{\text{تساوی اجزای متناظر}} NP = PQ$$

(۱/۵) (فصل سوم - استدلال و اثبات در هندسه - صفحه ۵۱ کتاب درسی) (دشوار)

۷

اثبات: دایره‌ای رسم کرده و نقطه M خارج آن را در نظر می‌گیریم. از این نقطه بر دایره دو مماس MA و MB را رسم می‌کنیم می‌خواهیم ثابت کنیم $MA = MB$ برای اثبات حکم از نقاط A و B به مرکز دایره وصل کرده، تا دو شعاع دایره رسم شوند می‌دانیم شعاع دایره در نقطه تماس بر خط مماس عمود است پس $\hat{A} = \hat{B} = 90^\circ$ همچنین از O به M وصل کرده تا دو مثلث ایجاد شود هم‌نهشتی این دو مثلث را ثابت می‌کنیم

$$\left. \begin{array}{l} \text{شعاع } OA = OB \\ \text{وتر مشترک } OM = OM \\ \hat{A} = \hat{B} = 90^\circ \end{array} \right\} \xrightarrow{\text{وض}} \triangle OAM \cong \triangle OBM \xrightarrow{\text{تساوی اجزای متناظر}} MA = MB$$



(۱/۵ نمره) (فصل سوم - استدلال و اثبات در هندسه - هم‌نهشتی مثلث‌ها - صفحه ۴۸ کتاب درسی) (دشوار)