

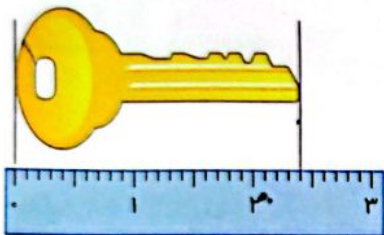
## فعالیت کلاسی



- ۱ درست  و نادرستی  هر عبارت را مشخص کن.
- الف: ۷ واحد بزرگ و ۱ واحد کوچک خط کش ۷۱ میلی متر می شود.
- ب: ۹۶ میلی متر از ۸ سانتی متر و ۲ میلی متر کم تر است.
- پ: ۶۸ میلی متر یعنی ۶ سانتی متر و ۸ میلی متر.

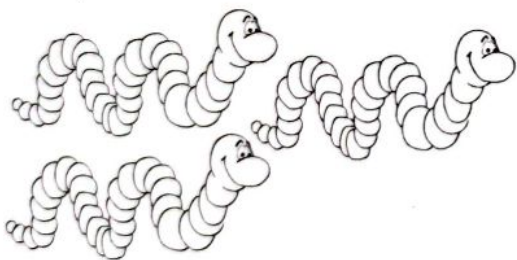
۲ جاهای خالی را کامل کن.

- الف: ۱۵ میلی متر یعنی ..... ۱ ..... سانتی متر و ..... ۵ ..... میلی متر.
- ب: ۲۶ میلی متر یعنی ..... ۲ ..... سانتی متر و ..... ۶ ..... میلی متر.
- پ: ۷۲ میلی متر یعنی ..... ۷ ..... سانتی متر و ..... ۲ ..... میلی متر.
- ت: ۳ سانتی متر و ۹ میلی متر می شود ..... ۳۹ ..... میلی متر.
- ث: ۸ سانتی متر و ۳ میلی متر می شود ..... ۸۳ ..... میلی متر.
- ج: ۶ سانتی متر و ۰ میلی متر می شود ..... ۶۰ ..... میلی متر.



- ۳ طول کلید مقابل را به دو صورت بنویس.
- طول کلید: ..... ۲۵ ..... میلی متر است.
- طول کلید: ..... ۲ ..... سانتی متر و ..... ۵ ..... میلی متر است.

۴ اگر طول یک کرم خاکی ۱۰ میلی متر باشد، طول کرم های خاکی روبه رو، روی هم چند سانتی متر است؟



.....  $10 + 10 + 10 = 30$  .....


..... ۳۰ میلی متر هست. برابر است با ۳ سانتی متر. .....

.....

.....



۱ پاسخ‌های صحیح را به گزینه‌های مربوط در سمت راست وصل کن.



۲ درستی  و نادرستی  هر عبارت را مشخص کن.

الف: ۵۸ میلی‌متر یعنی ۵ سانتی‌متر و ۸ میلی‌متر.

ب: ۷۲ میلی‌متر یعنی ۲ واحد بزرگ و ۷ واحد کوچک.

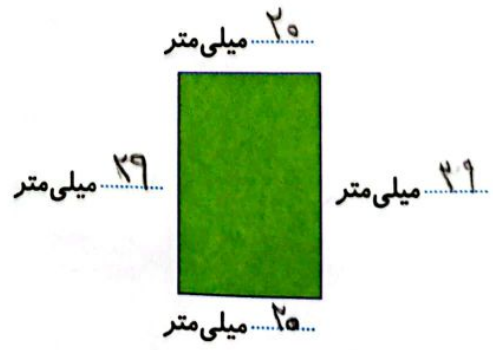
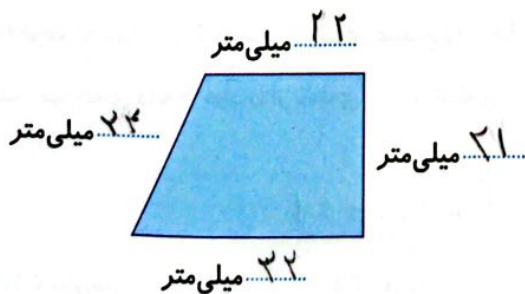
پ: واحد سانتی‌متر به ۱۰ قسمت کوچک‌تر تقسیم شده و به آن میلی‌متر می‌گویند.

ت: ۶ سانتی‌متر و ۰ میلی‌متر می‌شود ۶ میلی‌متر.

۳ با استفاده از خط‌کش اندازه‌ی هر خط را پیدا کرده و زیر آن بنویس.



۴ اندازه‌ی هر ضلع از شکل‌های زیر را بنویس.

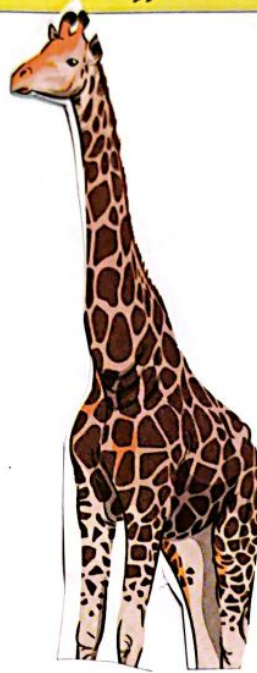


اندازه‌ی هر ضلع از شکل‌های زیر چند سانتی‌متر است؟



تصویر زرافه و خرس کوچولو را از انتهای کتاب کار علوی جدا کن. در زیر نام آن‌ها بچسبان و مانند نمونه قد آن‌ها را با خط کش اندازه‌گیری کن و بنویس.

گورخر	زرافه	خرس کوچولو
-------	-------	------------



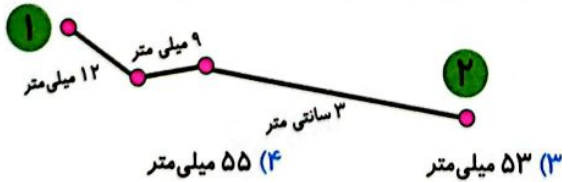
طول قد: ۸

طول قد: ۹

طول قد: ۴

با توجه به سؤالات داده شده، گزینه‌ی صحیح را انتخاب کن.

الف: مورچه‌ای دانه‌ی خود را از نقطه‌ی (۱) به نقطه‌ی (۲) برد. او چند میلی‌متر در طول مسیر حرکت پیموده است؟



$$12 + 9 + 3 = 51$$

۵۵ میلی‌متر (۴)

۵۳ میلی‌متر (۳)

۴۸ میلی‌متر (۲)

۵۱ میلی‌متر (۱)

ب: اگر طول یک پاک‌کن ۲۰ میلی‌متر باشد، طول ۳ پاک‌کن چند میلی‌متر است؟



۵۰ میلی‌متر (۴)

۷۰ میلی‌متر (۳)

۶۰ میلی‌متر (۲)

۴۰ میلی‌متر (۱)

