



۱- مریم ساعت ۲:۲۵ دقیقه حرکت کرده است ، او می خواهد

به خانه ی مادر بزرگ خود برود . از خانه ، مریم تا خانه ی مادر بزرگ دو ساعت

بیشتر دقیقه ظاهر دارد او چه ساعتی می رسد .



4 : 25




8 : 45




۲:۱۰ — سه ساعت و ۲۰ دقیقه



سارینا




2 : 10




5 : 50

ریاضی

ساعت ۷:۴۵ دقیقه است ۴ ساعت و ۲۰ دقیقه قبل چه ساعتی است؟




۸ : ۴۵




۳ : ۲۵

زهرا ساعت ۱:۲۵ دقیقه باید به مدرسه برسد. اگر او ساعت ۷:۲۵ دقیقه در راه باشد او چه ساعتی باید راه بیافتد؟



۱ : ۲۵



۱ : ۰۰

