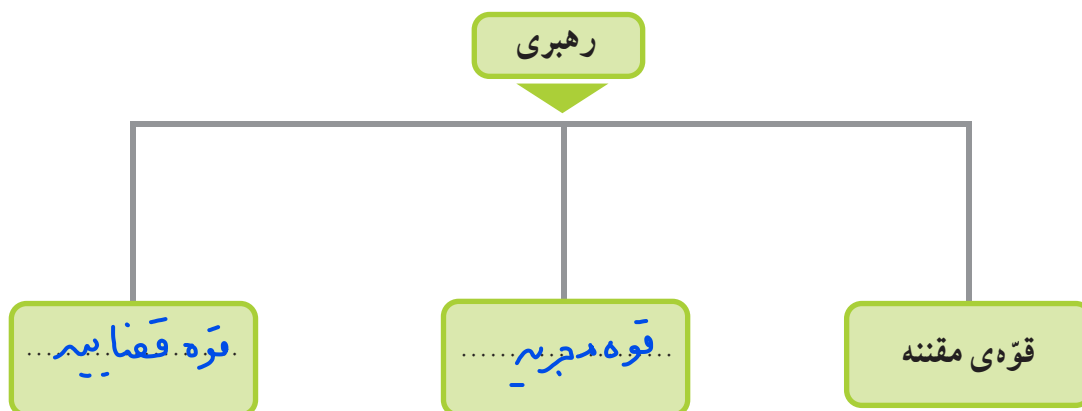




چه کسانی کشور ما را اداره می‌کنند؟

۱- نمودار را کامل کنید.



۲- هر یک از اخبار زیر به فعالیت‌های کدام قوه مربوط است؟

- قانون مالیات شرکت‌ها به تصویب رسید. (قوه مقننه)
- امروز رئیس‌جمهور کارخانه‌ی فولاد را افتتاح کرد. (قوه مجریه)
- آقای سعیدی با یک نفر بر سر قرارداد خرید زمین اختلاف پیدا کرده است. (قوه قضائیه)
- وزیر راه اعلام کرد: خط آهن سریع‌السیر تهران - اصفهان ساخته می‌شود. (قوه مجریه)
- امروز قوانین جدید راهنمایی و رانندگی در مجلس بررسی می‌شود. (قوه مقننه)




کاربرگی شماره ۸

مقایسه‌ی انواع وسایل حمل و نقل

۱- برای هریک از سفرهای زیر وسیله‌ی حمل و نقل و راه مناسب را انتخاب کنید و دلیل آن را بنویسید.

علت	نوع		
	وسیله‌ی حمل و نقل	راه	
استراحت در مسیر.....	قطار.....	ریس.....	● رفتن به شهرهای مشهد، شیراز یا گرگان در تعطیلات نوروز
دور بودن مسیر.....	هوایجا.....	هوایی.....	● شرکت در مراسم حج (مکه)
سپس بردن بار.....	لستر.....	دریا.....	● بردن نفت و زغال‌سنگ به یک کشور دور
لذت بردن از مسیر.....	ماشین.....	زمین.....	● رفتن به منزل یکی از اقوام در خارج از شهر یا روستا

۲- در جدول زیر، خوبی‌ها و بدی‌های هریک از وسایل نقلیه را بنویسید.

بدی‌ها ☹️	خوبی‌ها 😊	وسيله
سرعت کم - ارزان	توانایی حمل بار زیاد	
سرعت زیاد - گران	سرعت زیاد - دسترس به همه جا	
دسترسی زمین کم	حمل بار زیاد - قیمت مناسب	



کاربرگی شماره‌ی ۱۰

جمهوری آذربایجان، ارمنستان

متن مربوط به جمهوری آذربایجان و ارمنستان را بخوانید. با توجه به نقشه و متن به طور گروهی به پرسش‌ها پاسخ دهید.

(الف)

نقشه‌خوانی

- ۱- نام رشته‌کوه اصلی آذربایجان... **قفقاز**... است.
- ۲- کدام رود بین ایران و جمهوری آذربایجان قرار دارد؟ این رود به کجا می‌ریزد؟ **دریای خزر**
- ۳- کدام شهر جمهوری آذربایجان و ایران همنام هستند؟ **آستارا**

- ۴- اگر کسی بخواهد برای تعطیلات نوروز به کشور آذربایجان سفر کند، چه لباس‌هایی باید همراه خود ببرد؟ چرا؟ **لباس گرم، زیرا بیشتر مناطق کوهستانی است**
- ۵- چرا ماهیگیری در جمهوری آذربایجان رونق دارد؟ **وجود دریای خزر**
- ۶- چرا کشاورزی در جمهوری آذربایجان بسیار پررونق است؟ **به دلیل وجود جلگه‌های تریستن**
- ۷- جمهوری آذربایجان در چه زمینه‌هایی با کشور ایران مشترک است؟ **عید نوروز - دین اسلام - منابع نفت و گاز**

(ب)

نقشه‌خوانی

- ۱- کدام رود، کشور ایران را از ارمنستان جدا می‌کند؟ **ارس**
- ۲- کشور ارمنستان را از نظر دسترسی به دریا با جمهوری آذربایجان مقایسه کنید. دسترسی یک کشور به دریا چه فایده‌هایی دارد؟ **دسترسی به سایر کشورهای صادرات و واردات - ماهیگیری - برداشتی**
- ۳- چرا ارمنستان بیشتر مواد اولیه‌ی کارخانه‌های خود را از خارج وارد می‌کند؟ **چون از تنوع منابع طبیعی نقیده است.**
- ۴- اگر روزی به کشور ارمنستان سفر کنید، چه غذایی سفارش می‌دهید و چه سوغاتی برای دوستانتان می‌آورید؟ **نریش و جواهرات**
- ۵- چرا به این کشور ارمنستان می‌گویند؟ **چون بیشتر مردم این کشور ارمنی هستند**

کاربرگی شماره ی ۱۱

پاکستان، ترکمنستان

متن مربوط به پاکستان و ترکمنستان را بخوانید. با توجه به نقشه و متن به طور گروهی به پرسش‌ها پاسخ دهید.

(الف)

نقشه خوانی

- ۱- جلگه‌ی وسیع مرکزی پاکستان از آبرفت‌های کدام رود به وجود آمده است؟ **رود سند**
- ۲- بندر مهم پاکستان در کناره‌ی اقیانوس هند چه نام دارد؟ چرا این بندر دارای اهمیت جهانی است؟ **کراچی - زیر استریم‌دارات و واردات منطقه از این بندر است.**
- ۳- چرا کشت برنج و پنبه در پاکستان رونق دارد؟ **به دلیل وجود جلگه‌ها و زمین‌های آبرفتی**
- ۴- فرض کنید دوست شما می‌خواهد به پاکستان سفر کند. یک سوغاتی را نام ببرید تا برای شما بیاورد. **پارچه**
- ۵- چرا کوه‌نوردان کشورهای مختلف به سفر به پاکستان علاقه‌مندند؟ **به دلیل وجود قله‌های مرتفع**
- ۶- کشورهای ایران و پاکستان چه اشتراکاتی دارند؟ **دین اسلام - عمده‌نوروز - منس بافی و**

(ب)

نقشه خوانی

- ۱- صحرای بزرگی که بخش عمده‌ای از کشور ترکمنستان را فرا گرفته است، چه نام دارد؟ **بیابان تره قوم**
- ۲- رود آمو دریا به کدام دریاچه می‌ریزد؟ **آرال**
- ۳- پایتخت و یک شهر مهم ترکمنستان را نام ببرید. **عشق آباد - مرو**
- ۴- چرا قالی‌بافی از صنایع دستی عمده‌ی کشور ترکمنستان است؟ **به دلیل رواج دامپروری و سنت پشم‌بافی**
- ۵- مردم ترکمنستان به کدام ورزش علاقه‌ی زیادی دارند؟ چرا؟ **اسب‌سواری - زیرا اسب‌های ترمن بسیار جانبدار هستند**
- ۶- کشور ایران با کشور ترکمنستان چه اشتراکاتی دارد؟ **دین اسلام - عمده‌نوروز - منابع نفت و گاز**