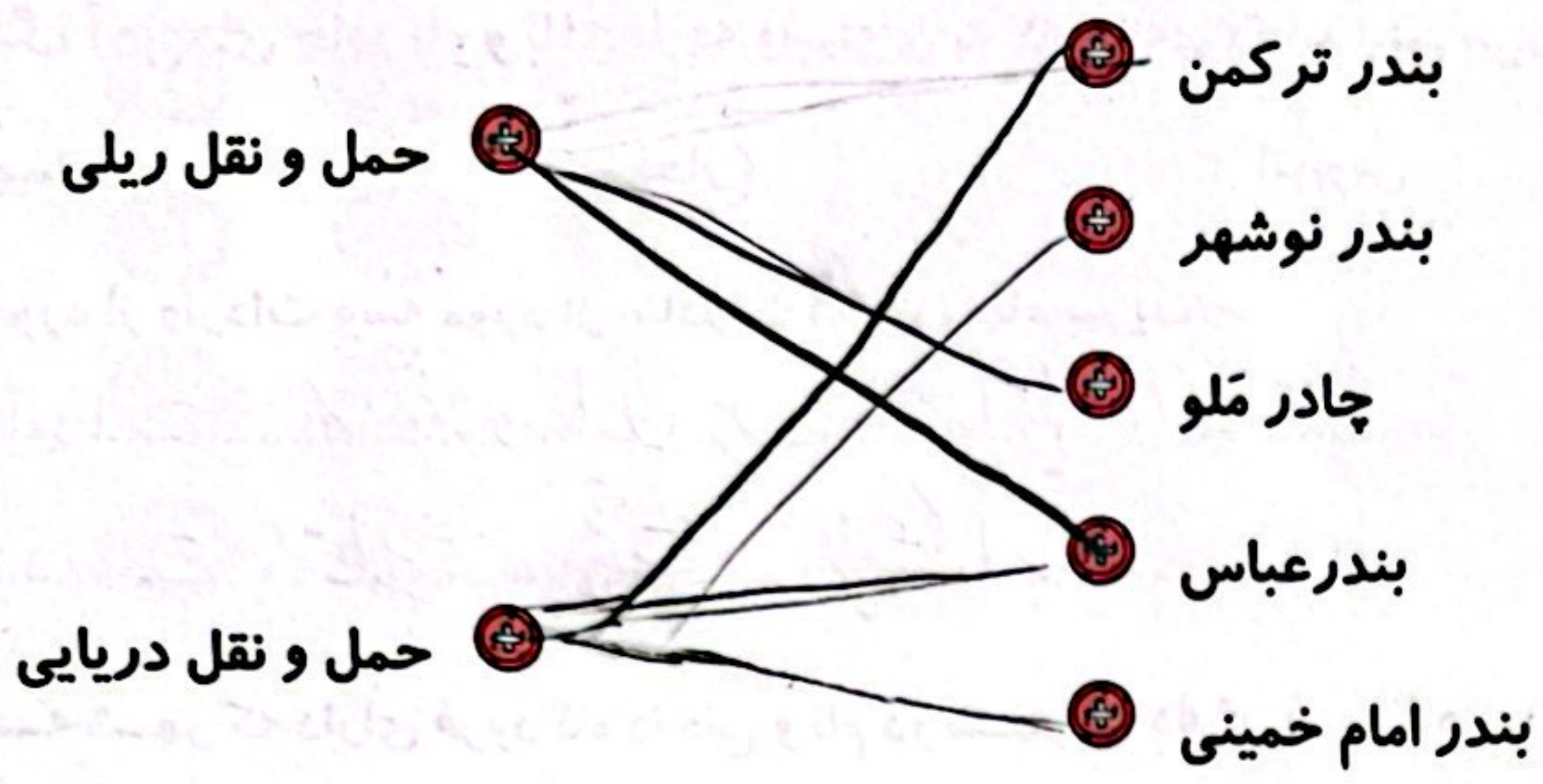


تمرین

۱ موارد مرتبط را به یکدیگر وصل کنید. (با استفاده از نقشه) ✓



۲ درستی ✓ و نادرستی ✗ هر عبارت را مشخص کنید. ✓

- الف: حتی پس از این که راهبر قطار ترمز را می کشد، قطار ۸۰۰ تا ۱۰۰۰ متر جلو می رود. ✓
- ب: راه آهن ایران تنها وظیفه حمل مسافران را بر عهده دارد. ✗
- پ: در مسیرهای کوتاه، یک راهبر، قطار را هدایت می کند. ✗
- ت: کشور ما از هر ۴ طرف، شمال، جنوب، شرق و غرب به دریا راه دارد. ✗
- ث: حمل و نقل از راه دریا بسیار ارزان است. ✓

۳ جاهای خالی را با کلمات مناسب کامل کنید. ✓

- الف: قطارها ممکن است ... با ... یا مخصوص ... باشند.
- ب: بخش عمده ی صادرات و واردات کشور ما از طریق ... و به وسیله ی ... صورت می گیرد.
- پ: پروازهای خارجی از فرودگاه های ... انجام می شوند.
- ت: هدایت هواپیما را ... و ... به عهده دارند.
- ث: خلبان با هماهنگی ... پرواز را انجام می دهد.

۴ با انتخاب گزینه ی مناسب به پرسش های داده شده پاسخ دهید. ✓

الف: حمل کالا با قطار نسبت به کامیون چه مزایایی دارد؟

- (۱) مقدار بیش تر و ارزان تر
- (۲) سرعت بیش تر و ارزان تر
- (۳) سرعت بیش تر و مقدار بیش تر
- (۴) مقدار بیش تر و کیفیت بهتر

ب: کدام مورد از صادرات ایران نیست؟ ✓

- (۱) قالی
- (۲) لوازم برقی
- (۳) نفت
- (۴) خشکبار

پ: در کدام شهر خطوط راه آهن در انتظار بهره برداری هستند؟ (با استفاده از نقشه)

(۱) تهران - قزوین - تبریز

(۲) زاهدان - شیراز - اهواز

(۳) اردکان - یزد - گرگان

(۴) اردبیل - سنندج - همدان

ت: سنگ آهن های چادرملو و بافق با چه وسیله ای به کارخانه ی ذوب آهن می رسند؟

(۱) هواپیما

(۲) قطار

(۳) اتوبوس

(۴) کشتی

سه مورد از واردات و سه مورد از صادرات ایران را نام ببرید.

واردات: کالمن، مس، پشم، آبرکات

صادرات: نفت، پشم، مس

نام سه شهر که دارای فرودگاه داخلی و نام دو شهر که دارای فرودگاه بین المللی درجه یک هستند را بیان کنید. (با استفاده از نقشه)

بین المللی: تهران، مشهد، تبریز، ارومیه، اهواز

ایران از طریق چه راه هایی به کشورهای همسایه متصل است؟

دریای (آبی) - زمینی - هوایی

راه آهن سراسری به کدام بندر در کناره ی دریای خزر و کناره ی دریای خلیج فارس مربوط می شود؟

خلیج فارس: بندر امام خمینی، بندر شهید رجایی، بندر آیداد

بندر چه جایی است؟

جایی که دریا به تنگی یا باریکتری می رسد.

خلبان قبل از پرواز چه هماهنگی هایی را انجام می دهد؟

چک کردن سوخت هواپیما، چک کردن سوزن، ایمنی هواپیما، معاظنتی، با بررسی معاظنت

مزایا و معایب هر یک از وسایل نقلیه ی زیر را بنویسید.

وسيله	مزایا	معایب
هواپیما	سرعت بالا	هزینه ی زیاد
کشتی	هزینه ی کم	سرعت کم
قطار	سرکالای سنگین	سرعت کم
کامیون	حمل بار زیاد	بافتن آلودگی هوا
اتوبوس	حمل بار زیاد	آلودگی هوا

نحوه انتخاب: رئیس جمهور هر چهار سال یکبار با رأی مردم انتخاب می شود.

- برخی از وظایف دولت
- ۱- ساختن جاده، پل، بیمارستان
  - ۲- کمک به کشاورزی و صنایع
  - ۳- فراهم کردن امکانات برای آموزش و پرورش و بهداشت و درمان مردم
  - ۴- صادرات و واردات
  - ۵- روابط با کشورهای خارجی و حفظ امنیت مردم

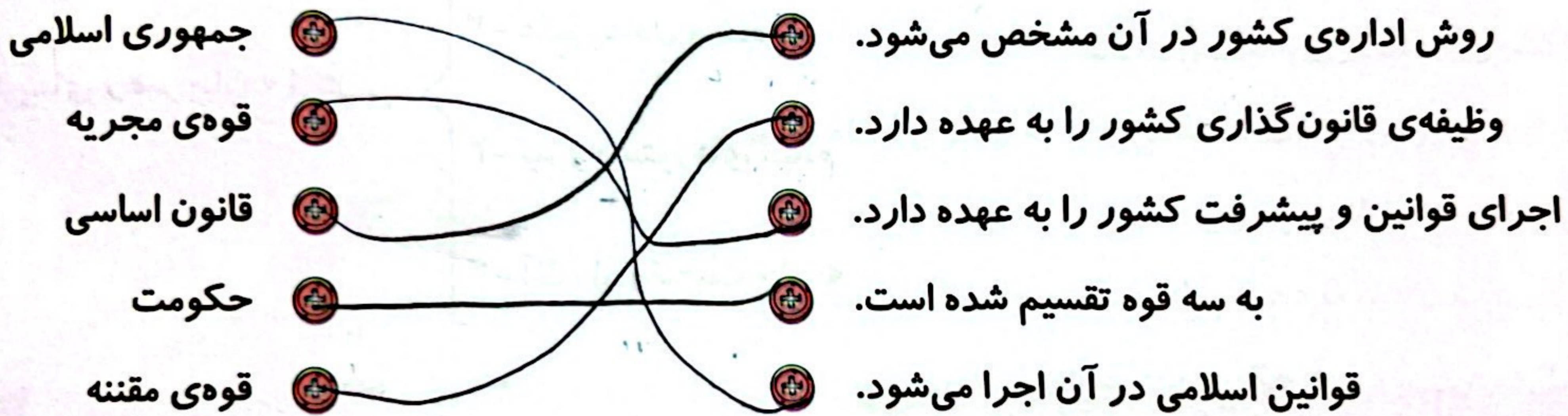
### قوه قضاییه

وظیفه قوه قضاییه:

- ۱- نظارت بر اجرای درست قوانین، یعنی اگر جایی قانون رعایت نشود و تخلفی صورت بگیرد، به آن رسیدگی می کند.
- ۲- اختلافها و شکایتهای مردم از طریق دادگاهها رسیدگی می کند.

### تمرین

موارد مرتبط را به یکدیگر وصل کنید.



۲ درست  و نادرستی  هر عبارت را مشخص کنید.

الف: بیش از ~~۹۹~~ درصد مردم به حکومت جمهوری اسلامی رأی آری دادند.

ب: اولین رهبر انقلاب اسلامی ایران، حضرت امام خمینی (ره) بودند.

پ: قوه قضاییه به اختلافها و شکایات مردم رسیدگی می کند.

۳ جاهای خالی را با کلمات مناسب کامل کنید.

- الف: ...جلدیت... اداره‌ی امور مردم یکی کشور را به عهده دارد.
- ب: حکومت کشور ما، ... است.
- پ: قوه‌ی مجریه همان ... است.

۴ با انتخاب گزینه‌ی مناسب به پرسش‌های داده شده پاسخ دهید.

الف: دولت از چه افرادی تشکیل شده است؟

- (۱) رئیس جمهور و هیئت وزیران
- (۲) نمایندگان مجلس و هیئت وزیران
- (۳) رئیس جمهور
- (۴) رئیس جمهور - هیئت وزیران - نمایندگان مجلس

ب: حکومت ایران در چه تاریخی به جمهوری اسلامی تبدیل شد؟

- (۱) ۱۲ فروردین ۱۳۵۸
- (۲) ۱۲ فروردین ۱۳۵۷
- (۳) ۱۲ فروردین ۱۳۵۹
- (۴) ۲۲ بهمن ۱۳۵۷

پ: پس از رحلت امام خمینی (ره) چه کسی به عنوان رهبر انقلاب اسلامی ایران انتخاب شد؟

- (۱) آیت‌الله رفسنجانی
- (۲) آیت‌الله خالقی
- (۳) آیت‌الله خامنه‌ای
- (۴) آیت‌الله طالقانی

۵ قوه‌ی مقننه شامل چه کسانی است؟

۱- نمایندگان مجلس ۲- شورای عالی ۳- شورای نگهبان

۶ مهم‌ترین وظایف حکومت را نام ببرید.

۱- وضع قوانین ۲- معرفی ارتش برای اداره‌ی جامعه ۳- تامین رفاه و آسایش مردم و پیشرفت کشور ۴- رسیدگی به شکایات مردم ۵- حفظ امنیت و جلوگیری از بی‌ثباتی ۶- نگاه به مواجین و آرایه‌های اسلامی را بنویسید.

۷ وظایف قوه‌ی قضاییه چیست؟

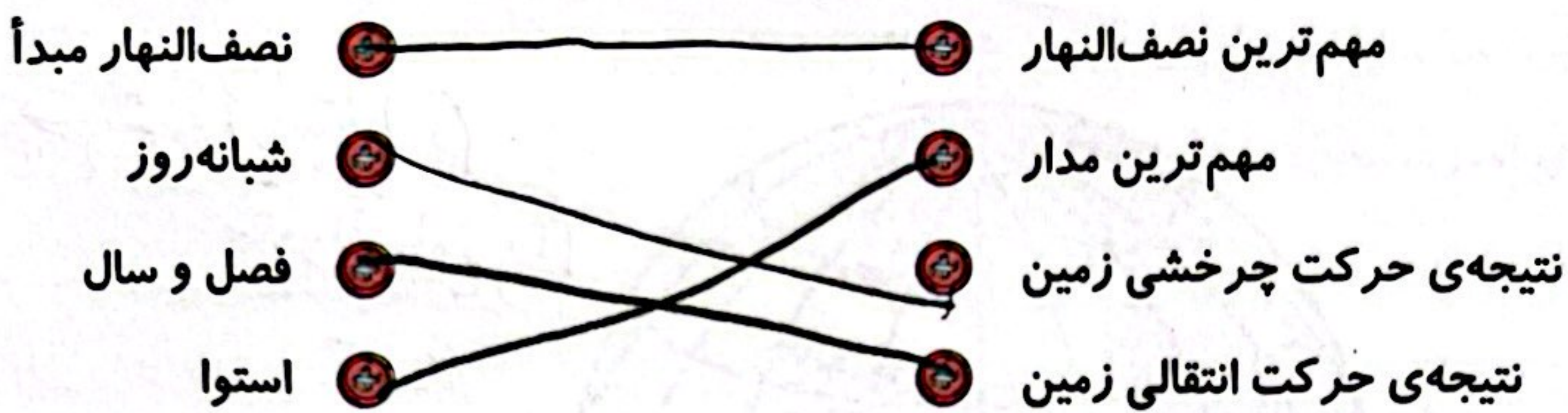
۱- نظارت بر اجرای درست قوانین ۲- رسیدگی به شکایات مردم ۳- رسیدگی به شکایات مردم

۸ رئیس جمهور چگونه انتخاب می‌شود؟

هر ۴ سال یکبار از طرف مردم (رئیس) جمهور انتخاب می‌شود.

تمرین

۱ موارد مرتبط را به یکدیگر وصل کنید. ✓



۲ درستی  و نادرستی  هر عبارت را مشخص کنید. ✓

- الف: زمین یکی از سیاره‌های منظومه‌ی شمسی است که فقط به دور خورشید می‌چرخد.
- ب: نیمکره‌ی شمالی بالای خط استوا و نیمکره‌ی جنوبی در پایین خط استوا قرار دارد.
- پ: حرکت زمین به دور خورشید، حرکت چرخشی نام دارد.
- ت: به وجود آمدن شب و روز به دلیل حرکت چرخشی زمین است.

۳ جاهای خالی را با کلمات مناسب کامل کنید. ✓

الف: ..... خط فرضی است که از قطب شمال تا جنوب کشیده شده است.  
 ب: به چرخش زمین به دور خود، حرکت ..... و به دور خورشید، حرکت ..... نام دارد.

۴ با انتخاب گزینه‌ی مناسب به پرسش‌های داده شده پاسخ دهید.

الف: دهکده‌ی گرینویچ در نزدیکی کدام شهر است؟ ✓

- (۱) پاریس
- (۲) مادرید
- (۳) لندن
- (۴) برلین

ب: مدار استوا چند درجه است؟

- (۱) ۴۵ درجه
- (۲) ۳۶۰ درجه
- (۳) ۹۰ درجه
- (۴) صفر درجه

۵ روز و شب چگونه به وجود می‌آیند؟ ✓

با چرخش زمین به دور خود، هر ۲۴ ساعت روز می‌آید.

۶ تفاوت مدار و نصف النهار را بیان کنید. ✓

نصف النهارها ... قطب شمال را به قطب جنوب وصل می‌کنند و خط‌های موازی ...  
 با خط استوا موازی هستند.

۷ هنگام ظهر وضعیت قرارگیری خورشید نسبت به ما چگونه است؟ ✓

پ. عموداً مستقیم و در بالای سرمان

۸ نقاط زیر دقیقاً بر روی چه مکان‌هایی قرار دارد؟ ✓



پ = مدار استوا (0°)  
نصف النهار (23.5°)

الف = مدار استوا (0°)  
نصف النهار (23.5°)

ت = مدار استوا (0°)  
نصف النهار (23.5°)

ب = مدار استوا (0°)  
نصف النهار (23.5°)

۱۰، ۲۴  
ری و منگ سبزه

### خودارزیابی

خیلی خوب	خوب	قابل قبول	نیاز به تلاش
<input type="radio"/>	<input type="radio"/>	<input type="radio"/>	<input type="radio"/>
<input type="radio"/>	<input type="radio"/>	<input type="radio"/>	<input type="radio"/>
<input type="radio"/>	<input type="radio"/>	<input type="radio"/>	<input type="radio"/>

- توانایی بیان انواع حرکات کره‌ی زمین
- توانایی بیان تفاوت مدار و نصف النهار
- توانایی تشخیص وضعیت یک مکان‌ها بر روی نقشه

### فعالیت عملکردی

شما دانش‌آموز کلاس پنجم هستید و ۱۱ سال دارید. با توجه به آن، به سؤالات زیر پاسخ دهید.

الف: شما تاکنون چندبار به دور خورشید چرخیده‌اید؟ ۱۱ بار

ب: در این مدت زمین چندبار به دور خورشید چرخیده است؟ ۱۱ بار

پ: در این مدت چندبار فصل بهار اتفاق افتاده است؟ ۱۱ بار

ت: اگر مادر شما، ۲۲ سال بزرگ‌تر از شما باشد، در این مدت زمین چندبار دور خورشید چرخیده است؟ ۳۳ بار

$$11 + 22 = 33$$

