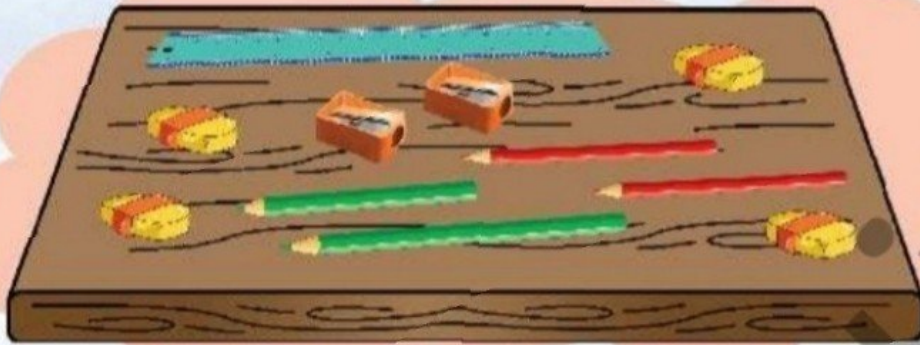


برنا وسایلش را روی میز ریخت.



نوک یکی از مدادهای برنا شکسته است و فعلاً قابل استفاده نیست. حالا روی یکی از مدادها خط بکش.

الان برنا چند مداد دارد؟


برنا چند خط کش دارد؟

به تعداد تراش‌ها یکی اضافه کن. حالا برنا چند تراش دارد؟

تعداد پاک‌کن‌های روی میز را بشمار.


او دوست دارد تعداد وسایلش را بشمارد و بداند از هر وسیله چند تا دارد. به او کمک کن. به تعداد وسایل

خانه‌های جدول را رنگ بزن.

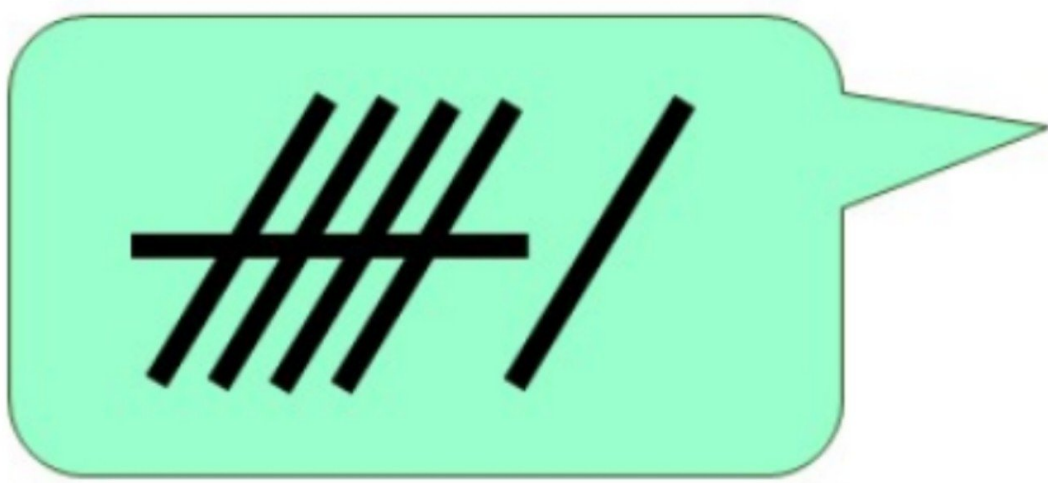
نقطه چین را کامل کن و الگوی زیر را ادامه بده.





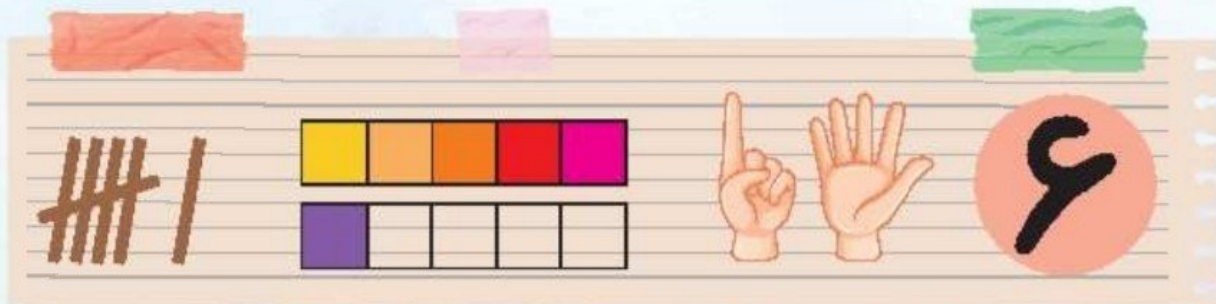


Hand gestures



5





در ناله برنا گفت: آیا تابه حال به کندوی زنبور عسل نگاه کرده‌ای؟ آیا می‌دانی هر خانه‌اش چه شکلی است؟ آیا می‌توانی بگویی هر خانه‌ی کندوی زنبور عسل چند گوشه دارد؟ با انگشتان دستانت نشان بده.



در ناله گفت: آیا می‌توانی عدد ۶ را با انگشتان دستانت به من نشان بدهی؟ شما هم عدد ۶ را با انگشتان دستانت نشان بده و چوب خط آن را در کادر بکش و برچسب آن را در کادر بچسبان.



نقطه‌چین‌ها را به هم وصل کن. چه شکلی درست می‌شود؟ آن را رنگ کن. نقطه‌چین‌ها چه عددی را نشان می‌دهد؟ عدد ۶ را رنگ کن.



حالا که با عدد ۶ آشنا شدی باید بدانی که عدد ۶ چه شکلی نوشته می‌شود. مانند نمونه بنویس.

