



سلام به دخترای قشنگم  
صبح همگی بخیر  
امروز چهارشنبه  
۱۷ دی ۱۴۰۴



مانند نمونه تفریق کن.  
اندازه‌ی هر شکل چند تا شکل کوچک است؟

کامل کن



$$6 - 2 = 4$$




$$8 - 5 = \underline{\quad}$$



مانند نمونه تفریق کن.

اندازه‌ی هر شکل چند تا شکل کوچک است؟


کامل کن



$$6 - 2 = 4$$




$$8 - 5 = 3$$



$$5 - 3 = \underline{\quad}$$

$$7 - 4 = \underline{\quad}$$






$$5 - 3 = 2$$

$$7 - 4 = 3$$





$$9 - 9 =$$



$$10 - 5 =$$









$$9 - 6 = 3$$


$$10 - 5 = 5$$





اندازه‌ی نی کمی بلندتر از  -----

اندازه‌ی مداد کمی بلندتر از  -----

اندازه‌ی مداد کمی بلندتر از  -----

دانش‌آموز باید مقایسه‌ی طول را به این صورت بیان کند؛ برای مثال، اندازه‌ی نی از ۱۰ تا چینه کمی بلندتر است.

بهتر است فرزند شما خط زدن روی شکل‌ها را از سمت راست و به ترتیب شروع کند تا شبیه کاری شود که بعداً روی محور انجام می‌دهد.



بود و نشین





اندازه‌ی نی کسی بلندتر از ۱۰

اندازه‌ی مداد کسی بلندتر از ۵

اندازه‌ی مداد کسی بلندتر از ۸

دانش‌آموز باید مقایسه‌ی طول را به این صورت بیان کند؛ برای مثال، اندازه‌ی نی از ۱۰ تا چینه کمی بلندتر است.

بهتر است فرزند شما خط زدن روی شکل‌ها را از سمت راست و به ترتیب شروع کند تا شبیه کاری شود که بعداً روی محور انجام می‌دهد.



بود و نشین