



ارمغان هفته - اول دبستان


نام و نام خانوادگی: تاریخ: نام آموزگار:

ریاضی < ۲۵ تم
علوم < درس ۱۴: از گذشته تا آینده
فارسی < دوره‌ای بر نشانه‌های (۲)

ریاضی

جاهای خالی را با نوشته و عدد مناسب کامل کنید. 

- الف) ۷ ده تایی و ۴ یکی می شود **۷۴** ۹ ده تایی و ۱ یکی می شود **۹۱**
- ب) ۵ ده تایی و ۶ یکی می شود **۵۶** ۸ ده تایی و ۷ یکی می شود **۷۸**
- ب) ۵ یکی و ۶ ده تایی می شود **۶۵** ۸ ده تایی و ۷ یکی می شود **۸۷**

در هر قسمت عددهای مناسب بنویسید. 

الف) از عدد ۱۰ تا ۶۰ ، ۵ تا ۵ بنویسید.

۱۰ - ۱۵ - ۲۰ - ۲۵ - ۳۰ - ۳۵ - ۴۰ - ۴۵ - ۵۰ - ۵۵ - ۶۰

ب) از عدد ۲۱ تا ۹۱ ، ۱۰ تا ۱۰ بنویسید.

۲۱ - ۳۱ - ۴۱ - ۵۱ - ۶۱ - ۷۱ - ۸۱ - ۹۱

ب) از عدد ۵۹ تا ۷۱ را یکی یکی بنویسید.

۷۱ - ۷۰ - ۶۹ - ۶۸ - ۶۷ - ۶۶ - ۶۵ - ۶۴ - ۶۳ - ۶۲ - ۶۱ - ۶۰ - ۵۹






مسئله‌های زیر را با استفاده از رسم شکل حل کنید.

الف) در کلاس دوم ۱۹ دانش‌آموز درس می‌خواندند. ۹ نفر از آن‌ها به بیرون کلاس رفتند. چند نفر در کلاس ماندند؟

..... نفر ۱۰


$$19 - 9 = 10$$



ب) کلاس اول مدرسه‌ای ۳۶ نفر دانش‌آموز داشت. ۹ نفر از آن‌ها برای بازی شطرنج و ۹ نفر هم برای سابقه‌ی سودوکو رفتند،

چند نفر در کلاس باقی ماندند؟ ۱۸ نفر

$$36 - 9 - 9 = 18$$



با توجه به هر ساعت جاهای خالی را کامل کنید.



کمی به ساعت 6 مانده است.



ساعت از 8 گذشته است.



ساعت 4 است.



یک سینما دارای ۳ سالن نمایش است که هر سالن ۲۰ صندلی دارد. این سینما چند صندلی برای فروش بلیت دارد؟ (با رسم شکل)




۲۰	۲۰	۲۰
سالن ۱	سالن ۲	سالن ۳


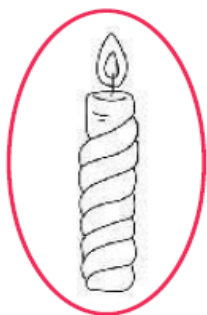
این سینما ۶۰ صندلی برای فروش بلیت دارد. $20 + 20 + 20 = 60$



تصویر لامپی که برای صرفه‌جویی مناسب‌تر است را در کار زیر نقاشی کنید.



اگر برق خانه‌ی شما قطع شود، از کدام وسیله برای روشنایی استفاده می‌کنید؟ آن را رنگ بزنید.



برچسب وسایل روشنایی را به ترتیب از قدیم تا امروز در جای مناسب بچسبانید.




--	--	--	--

قدیم

امروز

امروزه از چه وسایلی برای روشن شدن خانه‌ها استفاده می‌شود؟ آن‌ها را با  مشخص کنید.



فارسی

کلمه‌های مربوط به هم (رابطه) را مثل هم رنگ کنید و هر ترکیب را در یک ابر بنویسید.

طوطی	جیغ	پیامبر	حوض	ناظم	ذرت
بلند	خوش‌مزه	مدرسه	سخن‌گو	ماهی	اعظم

حوض ماهی

ناظم مدرسه

ذرت خوش‌مزه

طوطی سخن‌گو

جیغ بلند

پیامبر اعظم



در جای خالی نشانه‌ی مناسب (ز، ذ، ض، ظ) بنویسید. دور کلمه‌هایی که (ظ) دارند خط بکشید.

ناظم	لذات	بعضی	حضرت	مواظب
ظلم	می‌دوزم	زندگی	خداحافظی	گذشت



اعظم **ناظم** دبستان آزادی است. او از دانش‌آموزان **مواظبت** می‌کند تا آسیب نینند. او با کمک معلم‌ها به دانش‌آموزان **نظم**

می‌آموزد. در زنگ‌های تفریح با آن‌ها بازی می‌کند و خاطرات کودکی‌اش را برایشان تعریف می‌کند. دانش‌آموزان او را خیلی دوست دارند و هر روز با خوشحالی به مدرسه می‌آیند و موقع رفتن به خانه از او **خداحافظی** می‌کنند.



الف) کلمه‌ای در خط اول متن است که اگر صدای اول آن را برداریم نام یک میوه‌ی خوش‌مزه می‌شود. آن کلمه چیست؟ **آسیب**

ب) کلمه‌هایی که «ظ» دارند را پیدا کنید. **اعظم - ناظم - مواظبت - نظم - خداحافظی**






پ) اعظم در زنگ‌های تفریح چه کاری می‌کند؟ **با دانش‌آموزان بازی می‌کند و خاطرات کودکی‌اش را برایشان تعریف می‌کند.**

ت) کدام کلمه با «نظم» نشانه‌ی مشترک دارد؟ **ناظم**







کلمه‌ها را بخوانید و برچسب تصاویر مربوط به آن‌ها را بالایشان بچسبانید.







				
کلاغ	قندان	چاقو	لاک‌پشت	حلزون

الف) خدا حافظی، هر روز، معصومه، می کند، ناظم، از، مدرسه معصومه هر روز از ناظم مدرسه خدا حافظی می کند.

ب) دانش آموزان، می کند، از، معلم، مواظبت، مهربان معلم مهربان از دانش آموزان مواظبت می کند.

	روند تغییرات وسایل روشنایی
	ترکیب با ربط
	مرتب کردن جمله
	تصویر مرتبط با کلمه (املا)

	عدد نویسی یکی و ده تایی
	الگویابی عددی
	حل مسئله
	صرفه جویی در مصرف برق

شاخص‌ها

-  خیلی خوب
-  خوب
-  قابل قبول
-  نیاز به تلاش بیشتر

