

زمان	شماره پرسش	موضوع اصلی	موضوع های دیگر	نشانی پرسش	سطح پرسش
نیمسال یکم هفته ی ۴	۱	دسته بندی	جدول ارزش مکانی		دشوار
	۲	حل مسئله (راهبر در رسم شکل)			ساده
	۳	منطق			ساده

۱. الف) مانند نمونه برای جدول سمت چپ شکل رسم کرده و پس از تبدیل آن به دسته های ده تایی، جدول سمت راست را کامل کن.

یکی	پنج تایی		یکی	ده تایی
۴	۲		۴	۱
یکی	پنج تایی		یکی	ده تایی
۳	۳		۳	۱
یکی	پنج تایی		یکی	ده تایی
۰	۵		۵	۲
یکی	پنج تایی		یکی	ده تایی
۲	۶		۲	۳
یکی	پنج تایی		یکی	ده تایی
۲	۵		۲	۲

۲. درنا ۱۸ تا شکلات داشت. او می خواست به مادر و برادرش نیز شکلات بدهد. او به مادرش ۳ شکلات داد و دو برابر

تعدادی که به مادرش داد را به برادرش داد. حالا او چند شکلات دارد؟ (به کمک رسم شکل)



$$۱۸ - (۳ + ۶) = ۹$$

۹ شکلات دارد.



۳. مهتاب، مهسا، ماندانا، مانا، مینا پنج شیرینی سفارش دادند. با توجه سلیقه‌ی آنها، نام هر یک را زیر شیرینی‌اش بنویس.

۱۵



مینا



مهسا



مهتاب



مانا



ماندانا

مانا میوه خیلی دوست دارد. ★

شیرینی ماندانا در ردیف دوم چیده شده است. ★

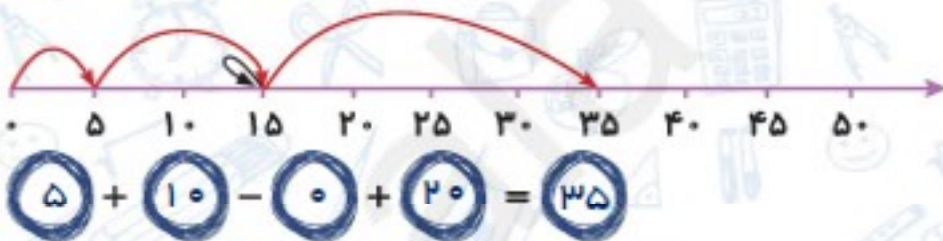
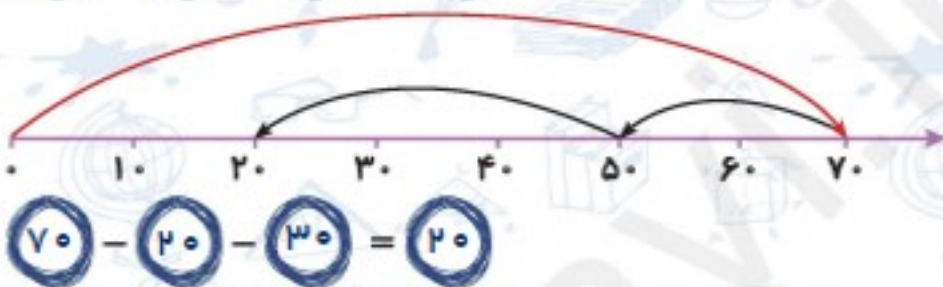
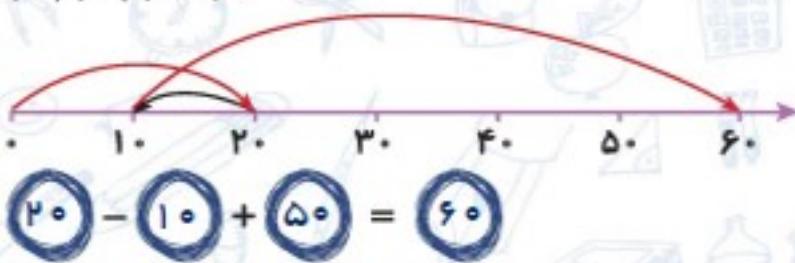
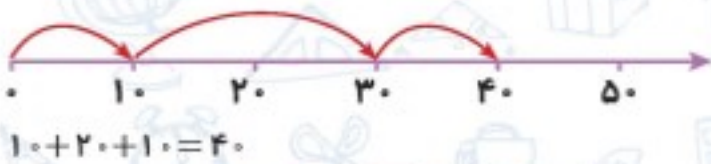
مهتاب آجیل دوست ندارد. در ضمن کیک ساده هم سفارش نداده است. ★

شیرینی مهسا با آجیل تزئین نشده است. ★



زمان	شماره پرسش	موضوع اصلی	موضوع‌های دیگر	نشانی پرسش	سطح پرسش
نیم‌سال یکم	۱	کار با محور			دشوار
	۲	حل مسئله	جمع و تفریق		دشوار
هفته‌ی ۵	۳	مسیریابی		دبستان‌های آلمان	متوسط

۱. عبارت مربوط به هر محور را مانند نمونه بنویس.



۲. به کمک کارت‌های ۱۵، ۱۰، ۱۰، ۵، ۵ سه عبارت مانند نمونه بسازید که حاصل آنها ۱۵ شود؟

نمونه:  $15 + 5 - 5 = 15$

$10 + 5 = 15$

$15 + 10 - 10 = 15$

$15 + 10 - 5 - 5 = 15$

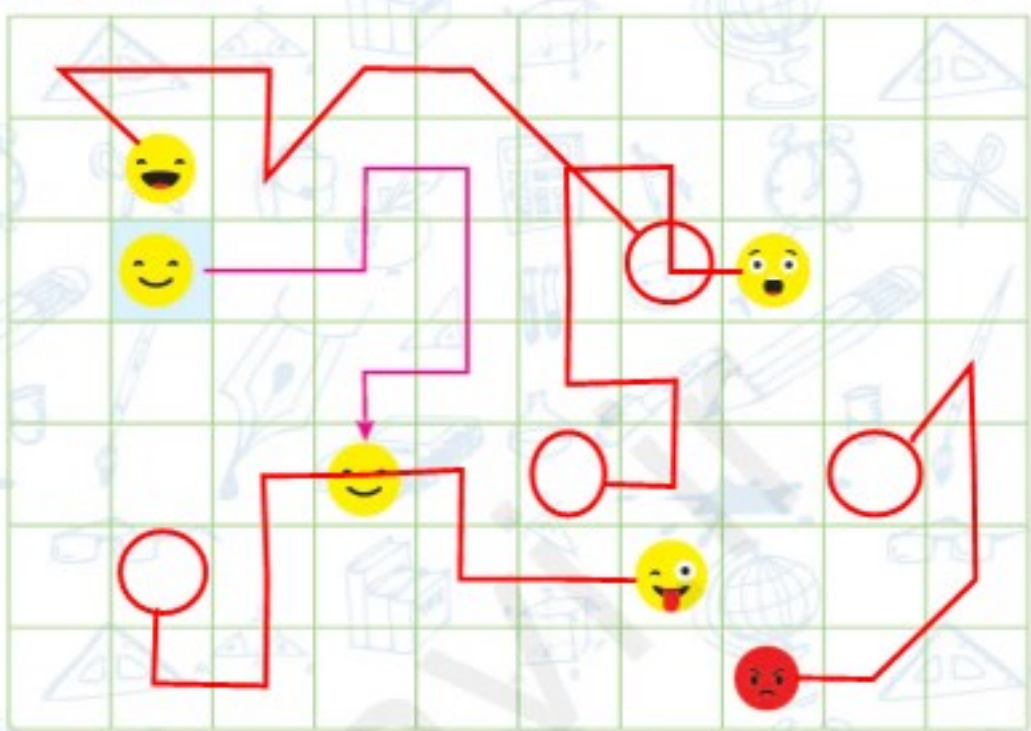
$10 + 10 - 5 = 15$





۱۷

۳. در جدول زیر صورتک‌ها می‌توانند با هر پیکان یک خانه به بالا، پایین، چپ یا راست بروند. برای نمونه حرکت را از خانه‌ی آبی ببین.



حرکت صورتک‌های زیر را نشان بده.



فکر می‌کنی پیکان‌های چه حرکت‌هایی را نشان می‌دهند؟

مسیر صورتک‌های زیر را نشان بده.

