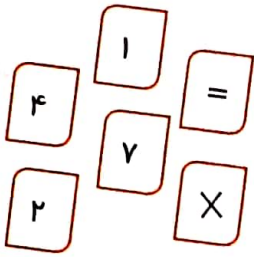
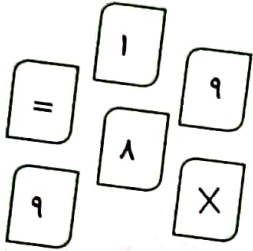


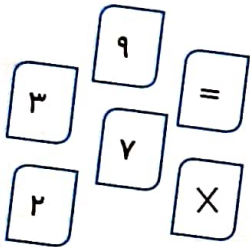
۴. مانند نمونه با هر دسته کارت یک عبارت درست بساز.



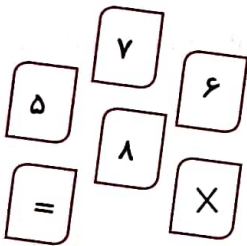
$$7 \times 2 = 14$$



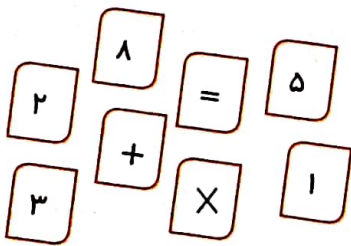
$$9 \times 9 = 81$$



$$3 \times 9 = 27$$



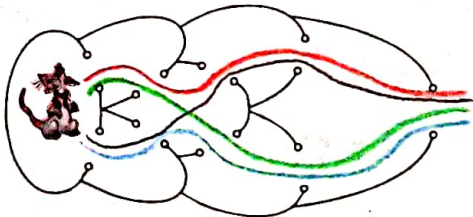
$$8 \times 7 = 56$$



$$8 \times 3 + 1 = 25$$

۵. موش می‌خواهد فرار کند. او نمی‌تواند از یک دیوار دو بار رد شود. موش چند مسیر مختلف برای بیرون رفتن

دارد؟



۵ (۳)

۴ (۲)

۲ (۱)

۷ (۵)

۶ (۴)

