























مقدت پاسخ گویی
۴۵ دقیقه

علوم اول دبستان

تاریخ برگزاری:

نام و نام خانوادگی: نام کلاس: نام آموزگار:









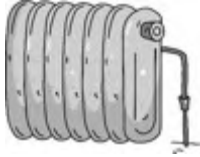













سؤالات علوم اول دبستان (صفحه اول)	ردیف
<p>کدام یک از ابزارهای زیر پیچیده است؟</p> <div style="display: flex; justify-content: space-around; align-items: center;"> <div style="text-align: center;">  <input type="checkbox"/> </div> <div style="text-align: center;">  <input type="checkbox"/> </div> <div style="text-align: center;">  <input type="checkbox"/> </div> <div style="text-align: center;">  <input type="checkbox"/> </div> </div>	۱
<p>ابزار هر شغل را به خودش وصل کن.</p> <div style="display: flex; flex-wrap: wrap; justify-content: space-around;"> <div style="text-align: center; margin: 10px;">  <input type="checkbox"/> </div> <div style="text-align: center; margin: 10px;">  <input type="checkbox"/> </div> <div style="text-align: center; margin: 10px;">  <input type="checkbox"/> </div> <div style="text-align: center; margin: 10px;">  <input type="checkbox"/> </div> <div style="text-align: center; margin: 10px;">  <input type="checkbox"/> </div> <div style="text-align: center; margin: 10px;">  <input type="checkbox"/> </div> <div style="text-align: center; margin: 10px;">  <input type="checkbox"/> </div> <div style="text-align: center; margin: 10px;">  <input type="checkbox"/> </div> </div>	۲
<p>در هر یک از تصاویر زیر از چه کسی کمک می گیریم، آن‌ها را به هم وصل کن.</p> <div style="display: flex; flex-wrap: wrap; justify-content: space-around;"> <div style="text-align: center; margin: 10px;">  <input type="checkbox"/> </div> <div style="text-align: center; margin: 10px;">  <input type="checkbox"/> </div> <div style="text-align: center; margin: 10px;">  <input type="checkbox"/> </div> <div style="text-align: center; margin: 10px;">  <input type="checkbox"/> </div> <div style="text-align: center; margin: 10px;">  <input type="checkbox"/> </div> <div style="text-align: center; margin: 10px;">  <input type="checkbox"/> </div> <div style="text-align: center; margin: 10px;">  <input type="checkbox"/> </div> <div style="text-align: center; margin: 10px;">  <input type="checkbox"/> </div> </div> <div style="display: flex; justify-content: space-around; margin-top: 10px;"> آتش سوزی دزدی تصادف زلزله </div>	۳



مدت پاسخ‌گویی
۴۵ دقیقه

علوم اول دبستان

تاریخ برگزاری:

سؤالات علوم اول دبستان (صفحه دوم)	ردیف
<p>کدام سنگ رودخانه است، علامت «✓» بگذار.</p> <div style="display: flex; justify-content: space-around; align-items: center;"> <div style="text-align: center;">  <input data-bbox="431 583 483 625" type="checkbox"/> </div> <div style="text-align: center;">  <input data-bbox="734 583 786 625" type="checkbox"/> </div> <div style="text-align: center;">  <input data-bbox="1047 583 1099 625" type="checkbox"/> </div> </div>	۴
<p>کدام یک از وسایل زیر هم گرما و هم نور تولید می‌کنند؟</p> <div style="display: flex; justify-content: space-around; align-items: center;"> <div style="text-align: center;">  <input data-bbox="212 961 264 1003" type="checkbox"/> </div> <div style="text-align: center;">  <input data-bbox="407 961 459 1003" type="checkbox"/> </div> <div style="text-align: center;">  <input data-bbox="594 961 646 1003" type="checkbox"/> </div> <div style="text-align: center;">  <input data-bbox="784 961 836 1003" type="checkbox"/> </div> <div style="text-align: center;">  <input data-bbox="1000 961 1052 1003" type="checkbox"/> </div> <div style="text-align: center;">  <input data-bbox="1200 961 1252 1003" type="checkbox"/> </div> </div>	۵
<p>تصاویر مربوط به بهداشت عمومی را رنگ کن.</p> <div style="display: flex; justify-content: space-around; align-items: center;"> <div style="text-align: center;">  </div> <div style="text-align: center;">  </div> <div style="text-align: center;">  </div> <div style="text-align: center;">  </div> <div style="text-align: center;">  </div> </div>	۶
<p>برای استفاده از کدام یک از وسایل زیر وجود هوا لازم است، آن را رنگ کن.</p> <div style="display: flex; justify-content: space-around; align-items: center;"> <div style="text-align: center;">  </div> <div style="text-align: center;">  </div> <div style="text-align: center;">  </div> <div style="text-align: center;">  </div> </div>	۷
<p>چرخه‌ی رشد قورباغه را شماره‌گذاری کن.</p> <div style="display: flex; justify-content: space-around; align-items: center;"> <div style="text-align: center;">  <input data-bbox="375 1913 427 1955" type="checkbox"/> </div> <div style="text-align: center;">  <input data-bbox="634 1913 686 1955" type="checkbox"/> </div> <div style="text-align: center;">  <input data-bbox="881 1913 933 1955" type="checkbox"/> </div> <div style="text-align: center;">  <input data-bbox="1133 1913 1185 1955" type="checkbox"/> </div> </div>	۸



مدت پاسخ‌گویی
۴۵ دقیقه

علوم اول دبستان

تاریخ برگزاری:

ردیف	سؤالات علوم اول دبستان (صفحه سوم)																		
۹	<p>دور جانورانی که مفید هستند خط بکش و روی آنان که مفید نیستند «x» بزن.</p>																		
۱۰	<p>نازنینم؛ وسایلی را که با خاک درست می‌شود رنگ کن.</p> <p>گلدان انگشتر ارگ بم لیوان شیشه‌ای کوزه</p>																		
۱۱	<p>محل خورشید و سایه‌ی درخت را در هنگام ظهر رسم کن.</p>																		
۱۲	<p>در هر قسمت دور بخش خوراکی گیاه موردنظر خط بکش.</p> <table border="1"> <tbody> <tr> <td>ساقه</td> <td>ریشه</td> <td></td> </tr> <tr> <td>میوه</td> <td>برگ</td> <td></td> </tr> <tr> <td>ساقه</td> <td>برگ</td> <td></td> </tr> <tr> <td>گل</td> <td>ریشه</td> <td></td> </tr> <tr> <td>گل</td> <td>ریشه</td> <td></td> </tr> <tr> <td>برگ</td> <td>دانه</td> <td></td> </tr> </tbody> </table>	ساقه	ریشه		میوه	برگ		ساقه	برگ		گل	ریشه		گل	ریشه		برگ	دانه	
ساقه	ریشه																		
میوه	برگ																		
ساقه	برگ																		
گل	ریشه																		
گل	ریشه																		
برگ	دانه																		
۱۳	<p>کدام قسمت گیاه وظیفه غذاسازی دارد؟</p> <p>ساقه ریشه برگ</p> <p><input type="checkbox"/> <input type="checkbox"/> <input type="checkbox"/></p>																		



مدت پاسخ‌گویی
۴۵ دقیقه


علوم اول دبستان

تاریخ برگزاری:/...../.....

سؤالات علوم اول دبستان (صفحه چهارم)

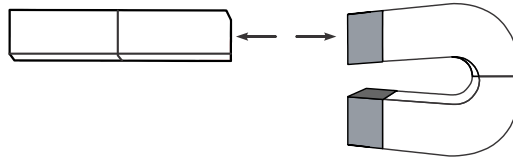
ردیف

در شکل‌های زیر حرکت به کدام جهت است؟ با فلش نشان بده.



۱۴

دو سر آهن ربا به رنگ‌های قرمز و آبی است. با کمک این دو رنگ، این دو آهن رباها را طوری رنگ کن تا آهن رباها جذب هم نشوند؟



۱۵

ردیف	عنوان	بارم	نمره دانش آموز
۱	کتاب کار علوی	۱/۵	
۲	کاربرگ	۱	
۳	تکالیف کتاب دبستان	۱	
۴	فعالیت کلاسی	۱/۵	
۵	برگه امتحانی	۱۵	
	نمره کل	۲۰	

تاریخ:/...../.....

نام و نام خانوادگی آموزگار: