


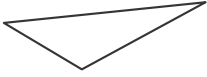


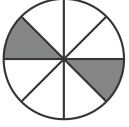


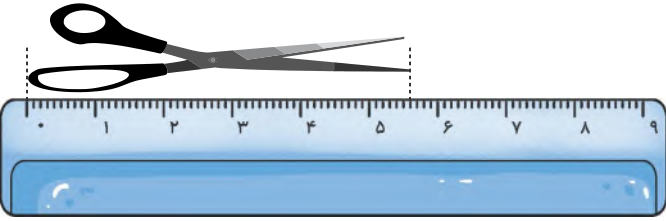




ملاّت پاسخ گویی  
۹۰ دقیقه


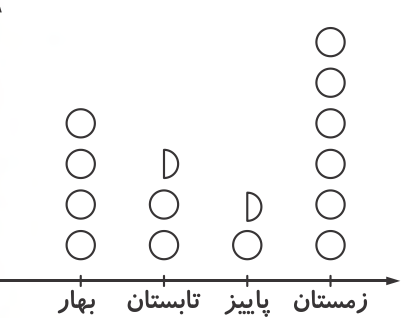
تاریخ برگزاری: .....

نام و نام خانوادگی: ..... نام کلاس: ..... نام آموزگار: .....

سؤالات ریاضی دوم دبستان (صفحه اول)	ردیف
<p>به سؤالات زیر پاسخ بده.</p> <p>الف) عدد ۳۵۶ را به حروف بنویس. ....</p> <p>ب) عدد ۳۵۶ چند رقم دارد؟ .....</p> <p>ج) این عدد را با حذف رقم یکان و دهگان تقریب بزن و بنویس. ....</p>	۱
<p>کدام شکل خط تقارن ندارد؟ نام آن را بنویس.</p> <div style="display: flex; justify-content: space-around; align-items: center;">     </div> <p>شکل ..... خط تقارن ندارد.</p>	۲
<p>با توجه به قسمت‌های رنگ شده در هر شکل، جملات را به شکل‌ها وصل کن.</p> <div style="display: flex; justify-content: space-around;"> <div style="text-align: center;">  <ul style="list-style-type: none"> <li>• ۴ قسمت از ۵ قسمت مساوی</li> </ul> </div> <div style="text-align: center;">  <ul style="list-style-type: none"> <li>• ۲ قسمت از ۸ قسمت مساوی</li> </ul> </div> <div style="text-align: center;">  <ul style="list-style-type: none"> <li>• ۲ قسمت از ۶ قسمت مساوی</li> </ul> </div> <div style="text-align: center;">  <ul style="list-style-type: none"> <li>• ۴ قسمت از ۴ قسمت مساوی</li> </ul> </div> </div>	۳
<p>الگوها را ادامه بده.</p> <p>الف)  ، .....          ب) ۴۴۵ ، ۴۵۰ ، ۴۵۵ ، ..... ، .....</p>	۴
<p>درنا و برنا می‌خواهند طول قیچی خود را به دو صورت اندازه‌گیری کنند، با کامل کردن جاهای خالی به آن‌ها کمک کن.</p> <div style="text-align: center;">  </div> <p>برنا: طول قیچی ..... سانتی‌متر و ..... میلی‌متر است.</p> <p>درنا: طول قیچی ..... میلی‌متر است.</p>	۵



ملاّت پاسخ‌گویی  
۹۰ دقیقه

ردیف	سؤالات ریاضی دوم دبستان (صفحه دوم)										
۶	<p>به سؤالات زیر پاسخ بده.</p> <p>الف) عدد ۶۵۴ زوج است یا فرد؟ .....</p> <p>ب) اولین عدد فرد بعد از عدد ۷ چه عددی است؟ .....</p>										
۷	<p>برنا برای رفتن به مدرسه ساعت ۶:۲۰ بیدار می‌شود. او ۳۵ دقیقه زمان می‌خواهد تا صبحانه بخورد و برای رفتن به مدرسه آماده شود. برنا چه ساعتی برای رفتن آماده است؟ زمان آن را بنویس و مقدار حرکت عقربه‌ی دقیقه‌شمار را رنگ کن.</p> <p>برنا ساعت ..... برای رفتن به مدرسه آماده است.</p> 										
۸	<p>در یک مدرسه دانش‌آموزانی که در هر فصل به دنیا آمده‌اند مشخص شده است. با توجه به نمودار تعداد دانش‌آموزان به دنیا آمده در هر فصل را در جدول بنویس. (هر دایره نشان‌دهنده‌ی ۱۰ دانش‌آموز می‌باشد.)</p>  <table border="1" data-bbox="760 1140 1393 1270"> <thead> <tr> <th>فصل‌ها</th> <th>بهار</th> <th>تابستان</th> <th>پاییز</th> <th>زمستان</th> </tr> </thead> <tbody> <tr> <td>تعداد دانش‌آموزان</td> <td></td> <td></td> <td></td> <td></td> </tr> </tbody> </table>	فصل‌ها	بهار	تابستان	پاییز	زمستان	تعداد دانش‌آموزان				
فصل‌ها	بهار	تابستان	پاییز	زمستان							
تعداد دانش‌آموزان											
۹	<p>حاصل جمع و تفریق‌ها را از روش‌های خواسته شده به دست بیاور.</p> <p>«روش گسترده‌نویسی»</p> <div style="display: flex; justify-content: space-around;"> <div style="border: 1px solid black; padding: 10px;"> <math display="block">\begin{array}{r} 946 \\ - 235 \\ \hline \end{array}</math> </div> <div style="border: 1px solid black; padding: 10px;"> <table style="width: 100%; border-collapse: collapse;"> <tr> <td style="border-right: 1px solid black; padding: 5px;"><math>539</math></td> <td style="padding: 5px;"><math>821</math></td> </tr> <tr> <td style="border-right: 1px solid black; padding: 5px;"><math>+ 254</math></td> <td style="padding: 5px;"><math>- 463</math></td> </tr> <tr> <td style="border-right: 1px solid black; height: 20px;"></td> <td style="height: 20px;"></td> </tr> </table> </div> </div>	$539$	$821$	$+ 254$	$- 463$						
$539$	$821$										
$+ 254$	$- 463$										
۱۰	<p>اعداد زیر را مقایسه کن و بین آن‌ها علامت مناسب «&gt;» «&lt;» بگذار.</p> <p>۹ سانتی‌متر و ۵ میلی‌متر <input type="checkbox"/> ۹۰ میلی‌متر (الف)</p> <p>۳۰۴ ریال <input type="checkbox"/> ۳۵۴ ریال (ب)</p> <p>۲۰۰+۱۰۰+۸ <input type="checkbox"/> ۲۰۰+۵۰+۸+۵۰ (ج)</p>										



## سؤالات ریاضی دوم دبستان (صفحه سوم)

ردیف

در کتابخانه مدرسه‌ی علوی ۵۰۰ کتاب بود. دانش‌آموزان کلاس دوم ۹۵ کتاب و کلاس سوم ۱۰۷ کتاب از کتابخانه امانت گرفتند. در کتابخانه چند کتاب باقی مانده است؟

۱۱

ردیف	عنوان	بارم	نمره دانش‌آموز
۱	کتاب کار علوی	۱/۵	
۲	کاربرگ	۱	
۳	تکالیف کتاب دبستان	۱	
۴	فعالیت کلاسی	۱/۵	
۵	برگه امتحانی	۱۵	
نمره کل		۲۰	

تاریخ: ...../...../.....

نام و نام خانوادگی آموزگار: .....