



مکثت پاسخ گویی  
 ۱۰۰ دقیقه

ریاضی پنجم دبستان

تاریخ برگزاری: .....

نام آموزگار:

نام کلاس:

نام و نام خانوادگی:

پاسخنامه ریاضی پنجم دبستان (صفحه اول)

ردیف

الف) گزینه درست را انتخاب کنید.

۱ (۳) ۱,۰۰۰,۰۰۰,۰۰۰ (۱ نمره)

۲ (۲) خط تقارن (۰/۵ نمره)

۳ (۳) ۰/۰۱ (۰/۵ نمره)

ب) جاهای خالی را پر کنید.

۴ مربع و لوزی (۱ نمره)

۵ (۱ نمره)  $۷۶ + ۴ = ۱۹$       $۲۲ + ۱۸ + ۱۹ + ۱۷ = ۷۶$

۶  $۳۶۰^{\circ}$  (۰/۵ نمره)

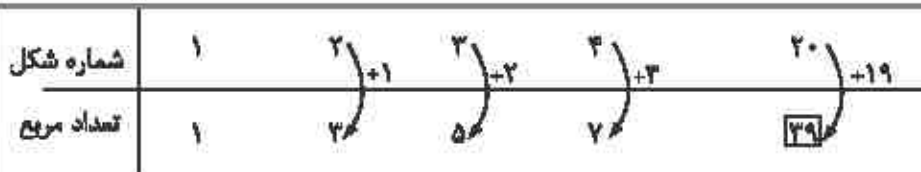
۷  $۵۶ \times ۱ = ۵۶$  (۰/۵ نمره)

درست را ✓ و نادرست را با \* مشخص کنید.

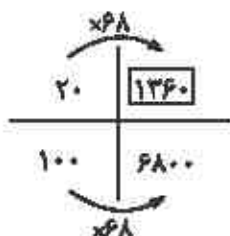
۸ درست  $\frac{۷۵}{۱۰۰} \xrightarrow{+۲۵} \frac{۳}{۴}$  (۰/۷۵ نمره)

۹ درست  $\frac{۳}{۷} \times ۴۹ = ۲۱۰۰$  (۰/۷۵ نمره)

سوالات را پاسخ دهید.



۱۰ (۱ نمره)  $۲۰ + ۱۹ = ۳۹$  = شماره شکل قبلی + شماره شکل



۱۱ الف) ۱ (۱ نمره)

ب)  $۶۸۰۰ - ۱۳۶۰ = ۵۴۴۰$  (۱ نمره)

$(\frac{1}{9} \div 2) \times (2 + \frac{4}{7}) = \frac{1}{18} \times \frac{18}{7} = \frac{1}{7}$  (۰/۵ نمره)

$(\frac{1}{9} + 2) = \frac{1}{9} \times \frac{1}{2} = \frac{1}{18}$  (۰/۵ نمره)

(۰/۵ نمره)  $(2 + \frac{4}{7}) = \frac{18}{7} = 2 \frac{4}{7}$

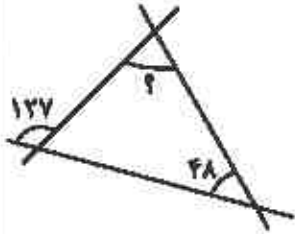
۱۲



مقدار پاسخ گویی  
 ۱۰۰ دقیقه

ریاضی پنجم زیمان

تاریخ برگزاری: .....



$180 - 127 = 53$  (نمره ۰/۵)  
 $48 + 53 = 101$  (نمره ۰/۵)  
 $180 - 101 = 79$  (نمره ۰/۵)

۱۳

مقدار باقی مانده مواد شوینده (نمره ۱)  

$$\begin{array}{r} 30/00 \\ - 21/15 \\ \hline 8/85 \end{array}$$

۱۴

(نمره ۱)  $12 + 4 = 16 \times 3 = 48 + 2 = 50$  مساحت ذوزنقه  
 (نمره ۰/۵)  $3 \times 8 = 24 + 2 = 26$  مساحت لوزی  
 (نمره ۰/۵)  $50 - 26 = 24$  هاشور زده

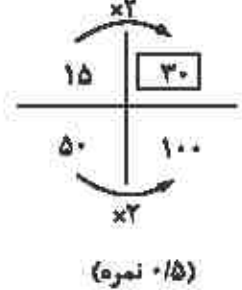
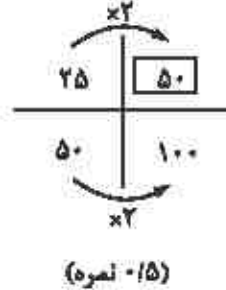
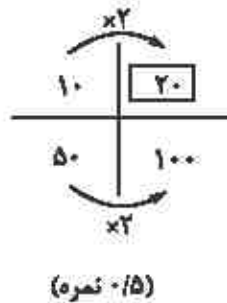
۱۵

$4 \times 2 = 8$   
 (نمره ۰/۵) محیط دایره  $8 \times 3/14 = 25/12$   
 (نمره ۰/۵)  $25/12 \times 3 = 75/36$

۱۶

(نمره ۰/۵) ابعاد انبار  $160 \times 40 \times 20 = 128000$   
 (نمره ۰/۵) کارتن  $2 \times 1 \times 1 = 2$   
 (نمره ۰/۵)  $128000 \div 2 = 64000$

۱۷



۱۸

درس	تعداد ساعات مطالعه	درصد
ریاضی	۲۵	۵۰٪
علوم	۱۵	۳۰٪
فارسی	۱۰	۲۰٪
مجموع	۵۰	۱۰۰٪



(نمره ۰/۵)