

نام و نام خانوادگی: ..... تاریخ: ..... نام آموزگار: .....

مطالعات اجتماعی &lt; مرور سال گذشته

هدیه‌های آسمان &lt; مرور سال گذشته

قرآن &lt; مرور سال گذشته

ریاضی &lt; مرور سال گذشته

علوم &lt; مرور سال گذشته

فارسی &lt; مرور سال گذشته

## ریاضی

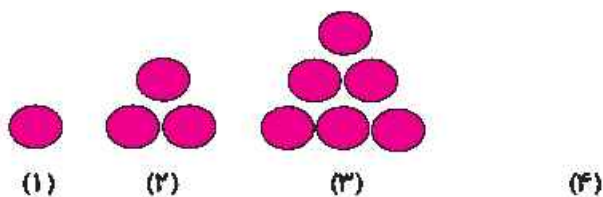
۱ با توجه به آنچه یاد گرفته‌اید به سؤالات زیر پاسخ دهید.

الف) رقم ۳ در عدد ۲۶۵۳۰۰۱۸۷۰۰ در چه مرتبه‌ای قرار دارد؟

ب) اگر عدد ۶۵۷۰ را صد برابر کنیم ارزش رقم ۷ چقدر خواهد شد؟

۲ با پیدا کردن رابطه‌ی بین شماره‌ی شکل و تعداد دایره‌ها، شکل چهارم را کشیده و جدول را کامل کنید و محاسبه کنید شکل

بیستم از چند دایره تشکیل شده است؟



شماره‌ی شکل	۱	۲	۳	۴	...	۲۰
تعداد دایره‌ها						

۳ هر یک از عددهای مخلوط را روی محور نشان دهید.

الف)  $2\frac{3}{4}$

ب)  $5\frac{1}{3}$

۴ حاصل جمع و تفریق‌های زیر را بدون رسم شکل و محور بدست آورید.

الف)  $2\frac{1}{3} - 1\frac{2}{3}$

ب)  $2\frac{6}{9} + 1\frac{2}{3}$

## علوم

۱ در هر تغییر شیمیایی و فیزیکی چه عملی مؤثر است؟ (وصل کنید.)

- |       |                               |
|-------|-------------------------------|
| سرما  | بخار شدن دانه‌های بوگیر ماشین |
| گرما  | زنگ زدن آهن                   |
| رطوبت | تشکیل برفک درون یخچال         |

۲ شرایط لازم برای تشکیل فسیل را بنویسید.

۳ استخوان‌ها توسط ..... در محل ..... به هم وصل شده‌اند.

۴ دو نکته برای مراقبت از چشم و دو نکته برای مراقبت از گوش بنویسید.

## فارسی

۱ کلمات مترادف را به هم وصل کنید.

- |             |          |
|-------------|----------|
| قضاوت‌کننده | حیرت‌آور |
| مشرق        | قاضی     |
| تعجب‌آور    | سرزنش    |
| ملامت       | خاور     |

۲ با انتخاب نشله‌ی مناسب، کلمات را کامل کنید.

- |                   |             |
|-------------------|-------------|
| (ف - مو ... ی     | (ز - ذ - ض) |
| (ب) تو ... یدگوی  | (ه - ح)     |
| (پ) ن ... مه‌خوان | (ق - غ)     |

۳ برای هریک از کلمه‌های زیر یک صفت مناسب بنویسید.

کوه   دوست   عمر

۴ برای واژه‌های زیر دو هم‌خانواده بنویسید.

فضیلت   تضمین

۵ جاهای خالی در ضرب‌المثل‌های زیر را با کلمه‌های مناسب پر کنید.

الف) مرغ همسایه، .....

ب) نابرده رنج، .....

پ) سالی که نکوست، .....

### مطالعات اجتماعی

۱ مفاهیم زیر را تعریف کنید.

الف) حریم شخصی:

ب) صنعت:

۲ جمهوری اسلامی چه نوع حکومتی است؟

۳ برچسب کالاهای وارداتی و صادراتی استان گیلان را در جدول زیر بچسباند.

	واردات
	صادرات

## هدیه های آسمان - قرآن

۱ آخرین حج پیامبر (ص) در چه تاریخی بود؟

۲ پیامبر (ص) در آخرین سفر حج خود دست چه کسی را بالا آوردند و چه فرمودند؟

۳ ما مسلمانان در کدام عید جانشینی حضرت علی (ع) بعد از پیامبر (ص) را جشن می گیریم؟

۴ کلمات قرآنی را به معنای مورد نظر وصل کنید.

- |            |        |
|------------|--------|
| آفریننده   | آقیموا |
| برپا دارید | خلیق   |
| بهشت ها    | جاهدوا |
| جهاد کنید  | جَنَات |

	◀ شناخت کلمات مترادف و هم خانواده
	◀ شناخت ترکیبات وصفی و استفاده از نشانه مناسب برای واژگان
	◀ آشنایی با ضرب المثلها
	◀ آشنایی با مفهوم حریم شخصی و صنعت
	◀ آشنایی با حکومت اسلامی
	◀ شناخت کالاهای وارداتی و صادراتی گیلان
	◀ آشنایی با مفهوم امامت و درک و فهم معنای کلمات قرآنی

	◀ تشخیص اعداد و ارقام و جایگاه ارزش مکانی آنها
	◀ تشخیص و تکمیل الگوهای عددی و شکلی
	◀ آشنایی با رسم محور اعداد مخلوط
	◀ آشنایی با جمع و تفریق اعداد مخلوط
	◀ آشنایی با تغییر شیمیایی و فیزیکی و عوامل مؤثر بر آنها
	◀ آشنایی با اندام حرکتی و شرایط لازم برای تشکیل فسیل
	◀ شناخت راه های مراقبت از چشم و گوش

**شاخص ها**

-  خیلی خوب
-  خوب
-  قابل قبول
-  نیاز به تلاش بیشتر

نام و نام خانوادگی: ..... تاریخ: ..... نام آموزگار: .....

مطالعات اجتماعی &lt; مرور سال گذشته

هدیه‌های آسمان &lt; مرور سال گذشته

قرآن &lt; مرور سال گذشته

ریاضی &lt; مرور سال گذشته

علوم &lt; مرور سال گذشته

فارسی &lt; مرور سال گذشته

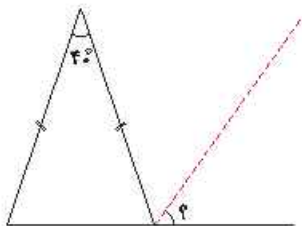
## ریاضی

۱ حاصل ضرب زیر را به روش مساحتی به دست آورید.

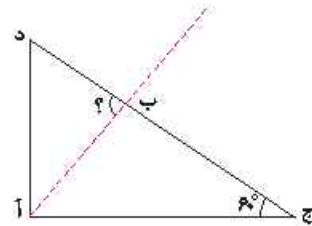
$$1\frac{1}{3} \times 2\frac{1}{3}$$

۲ عدد  $\frac{2}{5}$  ۳۰۰ بیش‌تر است یا ۲۰٪ عدد ۴۰۰؟

۳ در شکل‌های زیر، خط چین‌ها، نیم‌ساز می‌باشند. اندازه‌ی زوویه خواسته شده را بدست آورید.

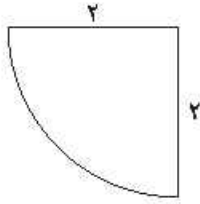


(الف)

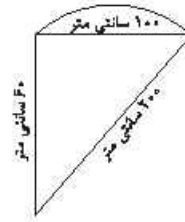


(ب)

۴ محیط شکل‌های زیر را حساب کنید.



(الف)



(ب)

۵ میلگین اعداد زیر را بدست آورید.

الف)  $۳/۷$ ،  $۸/۳$ ،  $۹/۶$ ،  $۴/۴$ ،  $۴/۰$

ب)  $۱۹$ ،  $۱۹/۵$ ،  $۱۸$ ،  $۱۸/۵$ ،  $۲۰$

### علوم

۱ مراحل درک طعم غذا را در بدن به ترتیب توضیح دهید.

۲ هر وسیله چه نوع ماشین ساده‌ای است؟ (وصل کنید).

- |                                      |   |
|--------------------------------------|---|
| <input type="checkbox"/> چرخ و محور  | <input type="checkbox"/> سرسره‌ی بازی   |
| <input type="checkbox"/> سطح شیب‌دار | <input type="checkbox"/> قرقره‌ی چاه آب |
| <input type="checkbox"/> پیچ         | <input type="checkbox"/> سرپیچ لامپ     |
| <input type="checkbox"/> گوه         | <input type="checkbox"/> فلکه شیرآب     |
| <input type="checkbox"/> قرقره       | <input type="checkbox"/> رنده           |

۳ کدام عامل در نفوذپذیری خاک اثری ندارد؟

- ۱) فاصله‌ی ذرات خاک      ۲) اندازه‌ی ذرات خاک      ۳) جنس ذرات خاک      ۴) فضای خالی بین ذرات

۴ شرایط لازم برای رشد یک دانه را نام ببرید.

## فارسی

جمله‌های نادرست را تشخیص داده و آن‌ها را به صورت درست بنویسید.

الف) جمع مکسر (مساجد) واژه‌ی (مسجد) می‌باشد.

ب) در کلمات (داستان - تابستان - سوهان)، (ان) نشانه‌ی جمع است.

پ) پیام ضرب‌المثل (عقل سالم در بدن سالم است): هرگاه جسم سالم باشد فکر هم خوب کار می‌کند.

ت) شجاعت ترسیدن نیست، بلکه دور شدن از سختی‌ها است.

از میان گروه کلمه‌های زیر، غلط‌های املائی را به صورت صحیح بنویسید.

«جنگ ته‌میلی - عافت هنر - رسدخانه‌ی مراقه - اندوه‌گین - نحر اسید - سگان کشتی - فراز و نشیب»

کلمات هم‌خانواده را به هم وصل کنید.

○ سلیم

○ حقایق

○ موظف

○ جهالت

○ وظایف

○ حقیقت

○ سالم

○ جاهل

با کلمات زیر یک بند بنویسید و برای آن یک عنوان انتخاب کنید.

«حوادث - تصمیم‌گیری - شجاعت - چاره‌جویی - تضمین»

## مطالعات اجتماعی

وقتی با دیگران صحبت می‌کنیم، لازم است به چه نکاتی توجه کنیم؟

۲ جملات درست را با  و نادرست را با  مشخص کنید.

الف) به پیروان ابومسلم، سیاه جامگان می گفتند.

ب) یکی از کارهای مهم سلطان محمود، لشگرکشی به چین بود.

۳ اقیانوس‌های جهان را نام ببرید.

### هدیه‌های آسمان - قرآن

۱ مشخص کنید آیات زیر از مشخصات کدام گروه است؟ (وصل کنید).

از آبی بد بو می‌نوشند.



بهشتیان



هر آنچه دلشان می‌خواهد برایشان فراهم می‌شود.

جهنمیان



هیچ راه فراری ندارند.



نعمت‌ها و لذت‌هایشان هیچ‌گاه پایان نمی‌پذیرد.

۲ جملات درست را با  و نادرست را با  مشخص کنید.

الف) نماز جمعه یک خطبه دارد.

ب) تمام مدت روز را بازی کردن یکی از کارهای اسراف است.

پ) حاکم عباسی، امام رضا (ع) را به شهر نجف فرستاد.

ت) چهره و رفتار امام مهدی (عج) به حضرت محمد (ص) شباهت دارد.

۳ این سخن از کیست؟






« باید همدم و مونس شما قرآن باشد، »





۴ امام حسین (ع)

۳ امام رضا (ع)

۲ حضرت محمد (ص)

۱ امام علی (ع)

	درک نکات زبان آموزی
	تشخیص شکل درست املاي کلمات
	نوشتن بند مناسب با استفاده از کلمات داده شده
	شناخت نکات صحبت کردن و اقیانوس جهان
	درک ویژگی بهشتیان و جهنمیان

	درک ضرب اعداد مخلوط به کمک روش مساحتی
	مهارت حل مسئله و بدست آوردن میانگین
	مهارت نحوه‌ی یافتن اندازه زاویه و محیط اشکال هندسی
	درک مراحل حس چشایی و شناخت ماشین ساده
	آشنایی با عوامل نفوذ پذیری خاک و رشد گیاه

شاخص‌ها	
	خیلی خوب
	خوب
	قابل قبول
	نیاز به تلاش بیشتر



نام و نام خانوادگی: ..... تاریخ: ..... نام آموزگار: .....

ریاضی < فصل ۱: عدد و الگوهای عددی  
 علوم < درس ۱: زنگ علوم، درس ۲: سرگذشت دفتر من (۱) هدیه‌های آسمان < درس ۱: یکتا  
 فارسی < درس ۱: معرفت آفریدگار  
 مطالعات اجتماعی < درس ۱: دوستی  
 قرآن < درس ۱: جلسه‌ی اول و دوم

## ریاضی

۱ شماره‌ی تلفن همراه یکی از بزرگ‌ترهائیان را با حروف بنویسید و ارزش مکانی بزرگ‌ترین رقم آن را مشخص کنید.


۲ در داخل  عدد مربوط به هر یک از عبارت‌های زیر را بنویسید.

الف) کوچک‌ترین عدد ۷ رقمی با طبقه‌ی هزار ۲۳۴ (بدون تکرار ارقام)


ب) بزرگ‌ترین عدد زوج سه‌رقمی بین ۵۰۰ و ۶۰۰

۳ بزرگ‌ترین عدد چهاررقمی، چند برابر بزرگ‌ترین عدد دو رقمی است؟ (تکرار ارقام مجاز است).


۴ الف) شکل هفتم از چند مربع تشکیل شده است؟



(۱)



(۲)



(۳)

...

(۷)

ب) شکل چندم از ۱۰۰ مربع تشکیل شده است؟

۵ عدد دو رقمی زوج و مضرب ۵ را پیدا کنید که اختلاف دهگان از یکان آن، ۲ واحد باشد.

۶ آرنیکا در صف اتوبوس ایستاده بود. ابتدا ۴ نفر از ابتدای صف و سپس ۸ نفر از انتهای صف بیرون رفتند، به این ترتیب آرنیکا از هر دو طرف نفر پانزدهم شد. چند نفر در صف اتوبوس ایستاده بودند؟

## علوم

۱ نمودار زیر را کامل کنید.

شهاب‌سنگ	(۱)	عمق و قطر گودال حاصل از برخورد شهاب‌سنگ، به چه عواملی بستگی دارد؟
و سطح برخورد شهاب‌سنگ	(۲)	
شهاب‌سنگ	(۳)	

۲ مراحل کاوشگری را نام ببرید.

۳ فرزندم، شما به‌عنوان یک کاوشگر، چه راههایی برای کاهش آلودگی شهرهای بزرگ پیشنهاد می‌کنید؟

۴ در گذشته‌های دور، برای ثبت و ذخیره‌ی اطلاعات، روی چه چیزهایی می‌نوشتند؟

۵ برچسب مواد طبیعی و مصنوعی را در جای مناسب بچسبانید.

	مواد طبیعی
	مواد مصنوعی

۶ دلیل استفاده‌ی نشاسته در کاغذ سازی چیست؟

## فارسی

۱ کلمات هم معنی را به هم وصل کنید.

- |           |        |
|-----------|--------|
| چمنزار    | کردگار |
| آفریننده  | مرغزار |
| بلندمرتبه | گردون  |
| آسمان     | تعالی  |