

نام و نام خانوادگی: تاریخ: نام آموزگار:

مطالعات اجتماعی < مرور سال گذشته

هدیه‌های آسمان < مرور سال گذشته

قرآن < مرور سال گذشته

ریاضی < مرور سال گذشته

علوم < مرور سال گذشته

فارسی < مرور سال گذشته

ریاضی

موارد مرتبط را به هم وصل کنید تا تسلوی برقرار گردد.

۴۳۰ سانتی‌متر

۲ کیلوگرم و ۵۰۰ گرم

۱۰ تا ۲۵۰ گرم

۷۵۰۰ متر

۷ کیلومتر و ۵۰۰ متر

۴ متر و ۳۰ سانتی‌متر

۲ اگر سه شنبه دومین روز آبان ماه باشد تا آخر ماه، سه شنبه‌ها چه روزهایی هستند؟

۱) ۳۱، ۲۴، ۱۷، ۱۰، ۳

۲) ۲۹، ۲۲، ۱۵، ۸، ۱

۳) ۲۴، ۱۸، ۱۰، ۱

۴) ۳۰، ۲۳، ۱۶، ۹، ۲

۳ عددی هستم ۴ رقمی، که رقم یکانم ۵ دهگانم ۶، صدگانم ۳ تا بیش‌تر از یکانم و هزارگانم بزرگ‌ترین عدد یک رقمی است.

به عدد:

به حروف:

۴ علامت مناسب (<=>) بگذارید.

$$۷۶۱۲ - ۴۸۱۹ \quad \bigcirc \quad ۲۷۹۳ + ۱۶۰۲$$

$$۶ \times (۸ + ۱) \quad \bigcirc \quad (۱۲ \div ۳) + (۸ \times ۶)$$

$$۴ \times ۵ \times ۷ \quad \bigcirc \quad ۷ \times ۲ \times ۱۰$$

۵) یک مغازه‌دار، هر کیلوگرم شیر را ۱۰۰۰ تومان می‌خرد و ۱۲۰۰ تومان می‌فروشد.

الف) با فروش یک کیلوگرم شیر، چقدر سود می‌کند؟

ب) اگر ۳ کیلوگرم شیر بفروشد، چقدر سود می‌کند؟

پ) چند کیلوگرم شیر بفروشد، تا با سود آن ۲ کیلوگرم شیر بخرد؟

علوم

۱) کدام یک از گیاهان زیر ساقه‌های چوبی و کلفت دارند؟

۴) ذرت

۳) گندم

۲) برنج

۱) گل سرخ

۲) در جای خالی، برچسب مناسب قرار دهید.

الف) در آب زندگی می‌کند. آبشش، دم و باله دارد و از گیاهان آبزی تغذیه می‌کند.

ب) در خشکی و در کنار آب زندگی می‌کند. شش، دست و پا دارد و از راه پوست نیز نفس می‌کشد.

۳) برای هر کدام از اثرات نیرو در جدول زیر مثال بزنید.

تغییر جهت حرکت جسم	تغییر شکل جسم	توقف جسم	به حرکت درآوردن جسم

۴) چرخه‌ی آب چیست؟ آن را تعریف کنید.

فارسی

۱) هر کلمه را به جزء مناسب خود وصل کنید.

ستان

ناک

کش

انه

خط

دوست

درد

کوه

۲ جملات را با کلمات زیر کامل کنید.

«کشیده ایم، سال گذشته، اکسیژن، صورت»

- الف) برای ورزش کردن به حرفه ای، اول رشته ی ورزشی خود را انتخاب می کنیم.
ب) من و دوستم، نقاشی های زیبایی
پ) مورد نیاز ما، از جنگل ها تأمین می شود.
ت) ما به زیارت رفته بودیم.

۳ این جمله توضیح کدام گزینه است؟

«داستان کوتاهی که از روزگار گذشته برجای مانده است و با پند و نصیحت همراه است.»

- ۱) مثل ۲) حکایت ۳) نمایش ۴) شعر

۴ با حروف به هم ریخته ی زیر، یک کلمه بسازید و برای آن یک هم خانواده بنویسید.

	←	ط-خ-ا-ر-ت-ا
	←	ظ-ع-م-ت
	←	س-ح-ا-س-ا

۵ با کلمه های داخل کمانک، جمله را تغییر دهید.

الف) مردم ایران هرگز ایثارگری شهدا را فراموش نمی کنند. (فاطمه)

ب) پدر و مادرم امروز به مسافرت می روند. (دیروز)

پ) امروز علی برای نماز خواندن به مسجد رفت. (فردا)

مطالعات اجتماعی

۱ درستی و نادرستی هر عبارت را مشخص کنید.

- الف) رشد کردن تغییراتی در بدن موجود زنده به وجود نمی آورد.
- ب) تعداد اعضای خانواده با تولد فرزند، زیاد می شود.
- پ) اگر توانایی همه ی انسان ها کاملاً شبیه بود، نیازهای ما برطرف نمی شد.

۲ پاسخ صحیح هر عبارت را مشخص کنید.

الف) کدام یک از موارد زیر، شباهت بین انسان‌ها را نشان می‌دهد؟

۱) همه‌ی انسان‌ها به غذا، آب و هوای سالم نیاز دارند.

۲) همه‌ی انسان‌ها به محبت کردن و محبت دیدن نیاز دارند.

۳) همه‌ی انسان‌ها زیبایی را دوست دارند.

۴) همه‌ی موارد صحیح است.

ب) کدام یک از صاحبان شغل‌های زیر، کالایی را تولید می‌کنند؟

۱) آتش‌نشان

۲) معلم

۳) پلیس

۴) نانوا

هدیه‌های آسمان - قرآن

۱) بهترین راه تشکر از خدا چیست؟

۱) استفاده‌ی صحیح از نعمت‌ها

۲) نماز خواندن

۳) دعا کردن

۴) سپاس‌گزاری با زبان

۲) موارد درست را به هم وصل کنید.

حرام

کارهایی که حتماً باید انجام دهیم.

واجب

کارهایی که نباید انجام دهیم.

۱۷

ما مسلمانان برای تشکر از خداوند در شبانه‌روز چند نوبت نماز می‌خوانیم؟

۵

ما مسلمانان برای تشکر از خدا در شبانه‌روز چند رکعت نماز می‌خوانیم؟

۳) آیه‌ی زیر به خواندن چه چیزی اشاره دارد؟

«وَعَلَيْكَ بِتِلَاوَةِ الْقُرْآنِ عَلَىٰ كُلِّ حَالٍ»

شاخص‌ها

خیلی خوب
خوب
قابل قبول
نیاز به تلاش بیشتر

کاربرد پسوند صحیح

توضیح عبارات ادبی

تغییرات در خانواده و دسته‌بندی مشاغل

تشکر از خدا

معنای عبارات قرآنی

تبدیل واحدهای اندازه‌گیری

الگوی عددی

عددنویسی

حل مسئله

انواع ساقه‌ها

چرخه‌ی زندگی ماهی و قورباغه

نام و نام خانوادگی: تاریخ: نام آموزگار:

مطالعات اجتماعی < مرور سال گذشته

هدیه‌های آسمان < مرور سال گذشته

قرآن < مرور سال گذشته

ریاضی < مرور سال گذشته

علوم < مرور سال گذشته

فارسی < مرور سال گذشته

ریاضی

۱ الگوی زیر را ادامه دهید و بگویید شکل پنجم چند ستاره دارد؟



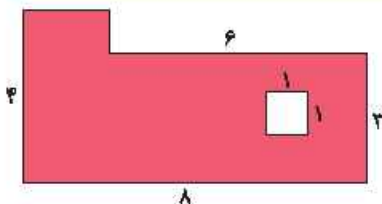
(۱)

(۲)

(۳)

(۴)

(۵)



۲ مساحت قسمت رنگی چند سانتی‌متر مربع می‌باشد؟

۳ یک اتوبوس خمس مسیر خود را طی کرده است و ۴۸ کیلومتر دیگر باید برود تا به شهر مقصد برسد. فاصله‌ی بین این دو شهر چند کیلومتر است؟

۴ حاصل عبارتهای زیر را به دست آورید.

الف) $(16 \div 4) + (6 \times 5) =$

ب) $5 \times 9 = (3 \times 9) + (\quad \times \quad) =$

پ) $6 \times 7 = (\quad \times 7) + (\quad \times 7) =$

ت) $(7 \times 3) + (15 \div 5) =$

ث) $(4 \times 8) - (24 \div 3) =$

ج) $3 \times (2 \times 5) =$


جدول داده‌ها را کامل کنید و به سؤال زیر پاسخ دهید.

۲۵،۶۰۴۳،۷۸،۵،۱۹،۲۱،۲

اعداد	اعداد زوج یک رقمی	اعداد فرد یک رقمی	اعداد زوج دو رقمی	اعداد فرد دو رقمی
تعداد				

الف) چه کسری از اعداد داده شده عدد فرد دو رقمی هستند؟

ب) نمودار دایره‌ای آن را رسم کنید.



علوم

جاهای خالی را کامل کنید.

نوع غذا	حرکت	پوشش	تولید مثل	تنفس	نوع جانور
	می‌خزد				
	به کمک دست و پا حرکت می‌کند				
	پرواز می‌کند				

برای هر کدام از روش‌های نگهداری مواد غذایی زیر یک مثال بنویسید.

- | | |
|---------------------------------|----------------------------|
| (ث) کمپوت | (الف) استفاده از نمک |
| (ج) مربا | (ب) دودی کردن |
| (چ) قراردادن در سرداب | (پ) کنسرو |
| (ح) گذاشتن در سبدهای توری | (ت) خشک کردن |

۳ در پریسکوپ از چند آینه و از چه نوع آینه‌ای استفاده شده است؟

۴ بیش‌تر بارندگی‌ها، از کدام نوع ابرها ناشی می‌شوند؟

فارسی

۱ کلمات به هم ریخته‌ی زیر را با هم ترکیب کنید و کلمات به‌دست آمده را در جاهای خالی قرار دهید.

«نواز - سر - خط - دل - کش - نوشت»

الف) سفر به سرزمین‌های دور او را تغییر داد.

ب) صوت اذان، در محله پیچیده است.

پ) علی، تمام اشکال هندسی را با رسم کرد.

۲ هر کلمه را به هم خانواده‌اش وصل کنید.

علوم

شاکر

عامل

معلم

جامع

عملیات

تشکر

مجموع

۳ درباره‌ی آب یک بند بنویسید و سعی کنید از کلمات زیر در جملات خود بهره بگیرید.

«مایه‌ی حیات - هدر ندهیم - زلال - زندگی»



۴ در جمله‌ی زیر کدام گزینه قرار می‌گیرد؟

پیامبر فرمودند ○ ○ فهمیدم ○ تو او را بخشیده‌ای ○ ○

۴ : د ا

۳ : ب ا

۲ : د ا

۱ : ب ا

۵ متن زیر را بخوانید و دور کلمه‌ی صحیح خط بکشید.

حضرت فاطمه (س) پیراهن (ساده‌ای - ساده‌ی) به تن داشت. آن را کنار گذاشت تا چند (لحظه - لحظه) بعد پوشد. پارچه‌ی نرم و (لطیفی - لتیفی)


داشت. کسی با صدای (ضعیفی - ظعیفی) گفت: «من زنی فقیرم و لباسی ندارم که به تن کنم.»

مطالعات اجتماعی


۱ هر عبارت را به گزینه‌ی مرتبط با خود وصل کنید.

- | | |
|--------------------------|-------------------|
| استفاده‌ی دوباره از مواد | مقررات |
| خوابیدن به موقع | شغل خدماتی |
| ارائه‌ی خدمت به دیگران | بازیافت |
| جهت شمال و جنوب | جهت‌های جغرافیایی |


۲ شکل مورد نظر را در محلّ مربوط به خود نصب کنید.



خطر



محل عبور دانش‌آموزان



بوق زدن ممنوع

هدیه‌های آسمان - قرآن

۱ حدیث «الدُّنْيَا مَزْرَعَةُ الْآخِرَةِ»، از چه کسی است؟ معنای آن را بنویسید.

۲ در کدام یک از گزینه‌های زیر نام افراد محرم نوشته شده است؟

- ۱) برادر - پسرخاله - عمو - خاله (۲) پدربزرگ - عمو - پسرعمو (۳) دایی - پدر - برادر - عمو (۴) دایی - پدربزرگ - عمو - شوهر خواهر

۳ در آیه‌ی «رَبِّ اجْعَلْنِي مُقِيمَ الصَّلَاةِ»، به چه معنا است؟

آشنایی با ویژگی انواع ابرها	الگوی هندسی
شناخت کلمات هم‌خانواده و نوشتن یک بند	محاسبه‌ی مساحت
آشنایی با علائم نگارشی و املاي کلمات	حل مسئله با استفاده از رسم شکل
شناخت مفهوم بازیافت، قوانین و مقررات، جهت‌ها و شغل‌ها	به دست آوردن حاصل عبارت
علائم راهنمایی و رانندگی	تشخیص اعداد زوج و فرد
شناخت محرم و نامحرم	آشنایی با گروه جانوران
ترجمه‌ی عبارات قرآنی	نگهداری مواد غذایی
ترکیب پسوندها و ساخت کلمات جدید	آشنایی با پریسکوپ

شاخص‌ها

- خیلی خوب
- خوب
- قابل قبول
- نیاز به تلاش بیشتر

نام و نام خانوادگی: تاریخ: نام آموزگار:

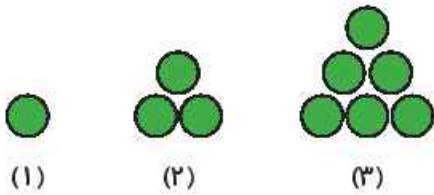
ریاضی < فصل ۱ اعداد و لگوها: لگوها و عددنویسی مطالعات اجتماعی < درس ۱: همسایه‌ی ما
 علوم < درس ۱: زنگ علوم هدیه‌های آسمان < درس ۱ و ۲: دانه‌ای که نمی‌خواست برود، کودکی بر آب
 فارسی < درس ۱: ستایش قرآن < درس ۱: جلسه‌ی اول و دوم

ریاضی

۱ عدد هفتم الگوی زیر را بنویسید.

۱، ۵، ۱۳، ۲۹، ۶۱،،

۲ الگوی زیر را ادامه دهید و الگوی هندسی را به الگوی عددی تبدیل کنید.



(۱)

(۲)

(۳)

(۴)

(۵)

۳ بزرگ‌ترین عدد شش رقمی که طبقه‌ی هزار آن ارقام (۴ و ۲ و ۶) و دهگان آن رقم ۵ باشد، کدام است؟

۶۴۲۵۸۹ (۴)

۶۴۲۹۵۸ (۳)

۶۴۲۵۹۸ (۲)

۵۶۲۴۹۸ (۱)

۴ هر عدد را به جمله‌ی درست و مربوط به خود وصل کنید.

۹۱۳۰۰

پانصد و هفتاد و سه تا هزارتایی

۵۷۳۰۰۰

نهصد و چهل صدتایی و شش هزارتایی

۱۰۰۰۰۰

هشتاد و نه هزارتایی و بیست و سه صدتایی

۵ اختلاف کوچک‌ترین عدد شش رقمی بدون تکرار و بزرگ‌ترین عدد پنج رقمی بدون تکرار را به دست آورید.

علوم

۱ مراحل تحقیق علمی را برای درست کردن حباب با استفاده از قطعه‌ای سیم، آب و کفی که با استفاده از مایع ظرفشویی حاصل می‌شود را یادداشت کنید.

(۱) مشاهده‌ی وسایل:

(۲) طرح پرسش علمی:

(۳) فرضیه‌سازی:

(۴) انجام آزمایش:

(۵) نتیجه‌گیری:

(۶) نظریه:

۲ برف اطراف کدام یک از برگ‌های زیر زودتر آب می‌شود؟



(۲)



(۱)



(۴)




(۳)

۳ برای آزمایش «اضافه کردن گلیسرین به آب و صابون در حباب‌ساز، یک فرضیه بنویسید.»

فارسی

۱ معنی واژه‌های زیر را بنویسید.



۲ هم‌خانواده‌ی کلمات کادر آبی رنگ و متضاد کلمات کادر قرمز رنگ را بنویسید.

روشنایی ≠
هست ≠
نهان ≠

نیکی:
مهربان:
رنگ: